




Colegio Aurora
de Chile
CORMUN RANCAGUA

CÁLCULO MENTAL

8° BÁSICO

Semana 27 - 05 al 09 de octubre 2020
Profesora: Yessenia Ibarra

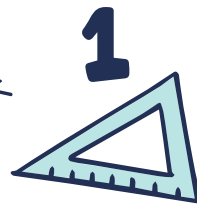


2



2×2

B




A




3



¡Bienvenidos!



Queridos estudiantes: esperando que se encuentren muy bien en casa, los invito a participar en una nueva semana de trabajo.





Recueda

“

Responder con letra clara.

Mantener tu cuaderno ordenado.

Escribir siempre la fecha y semana correspondiente.

”



Gráficos

Una gráfica, representación gráfica o gráfico es un tipo de representación de datos, generalmente cuantitativos, mediante recursos visuales, para que se manifieste visualmente la relación matemática o correlación estadística que guardan entre sí.

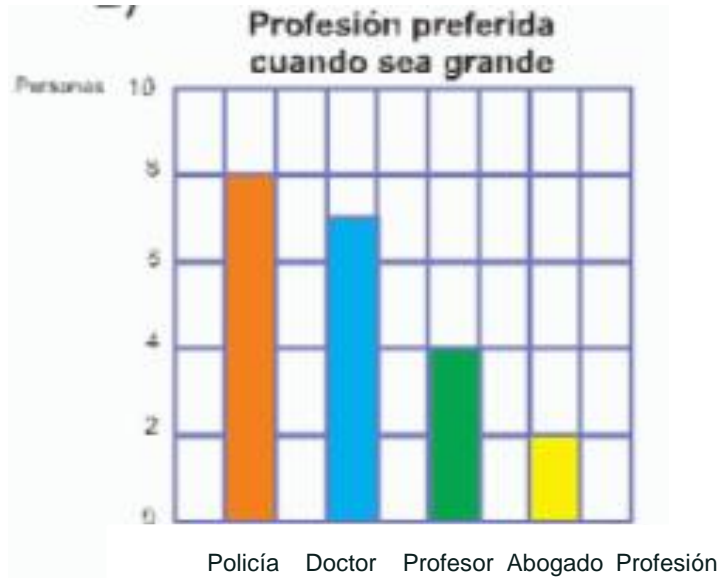


2

1

Resuelve en tu cuaderno

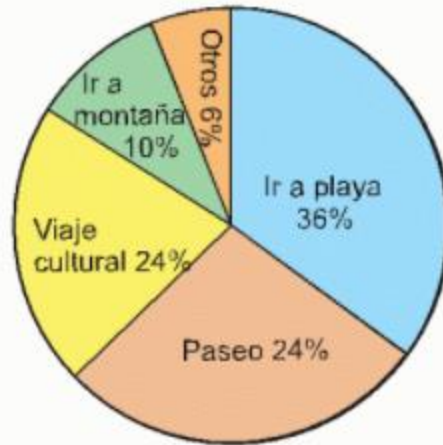
1- Escribe dos preguntas en relación al gráfico y respóndelas.



Resuelve en tu cuaderno

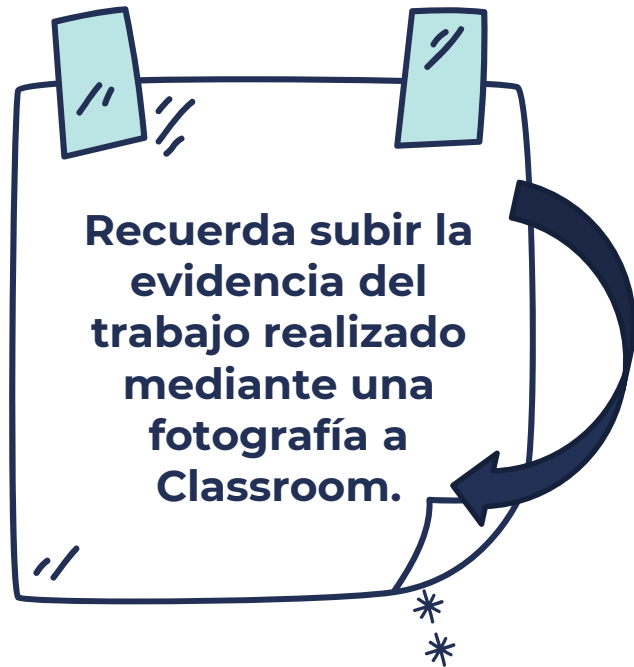
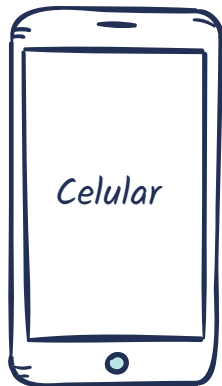


La sección de Carlos hizo una encuesta a los alumnos y alumnas de su centro escolar, sobre lo que prefieren hacer en vacaciones. Procesaron los datos obtenidos y elaboraron la gráfica circular.



- Coloca el nombre adecuado a la gráfica circular.
- Si el número de alumnos y alumnas entrevistados fue 150, ¿cuántos alumnos y alumnas contestaron que prefieren ir a la playa?
- Elabora la gráfica rectangular, usando los datos de esta gráfica circular.

¡Recuerda!



No se envía al correo



$$2 + 4 = 6$$

*Felicitaciones por el
trabajo logrado, nos vemos
la próxima semana.*

