


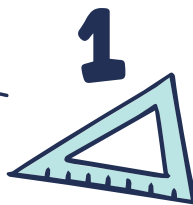


Colegio Aurora
de Chile
CORMUN RANCAGUA

CÁLCULO MENTAL

8° BÁSICO

Semana 26 - 28 al 02 de octubre 2020
Profesora: Yessenia Ibarra



2×2

B

2

3

A






¡Bienvenidos!



Queridos estudiantes: esperando que se encuentren muy bien en casa, los invito a participar en una nueva semana de trabajo.





Recueda

“

Responder con letra clara.

Mantener tu cuaderno ordenado.

Escribir siempre la fecha y semana correspondiente.

”



DIVISIONES

2

Las **divisiones** son, junto a las **sumas**, **restas** y **multiplicaciones**, operaciones matemáticas que realizamos frecuentemente en nuestra vida cotidiana.

Lo primero que debemos saber es qué es una división. Una división se trata de un reparto en partes iguales.



1

Resuelve en tu cuaderno

- a) Un cuadrado de 30 centímetros de lado se divide en 900 cuadraditos de lado 1 centímetro. Al dividir esta cantidad de cuadraditos en partes iguales, sobran 4 cuadraditos. ¿Cuál es una división posible?

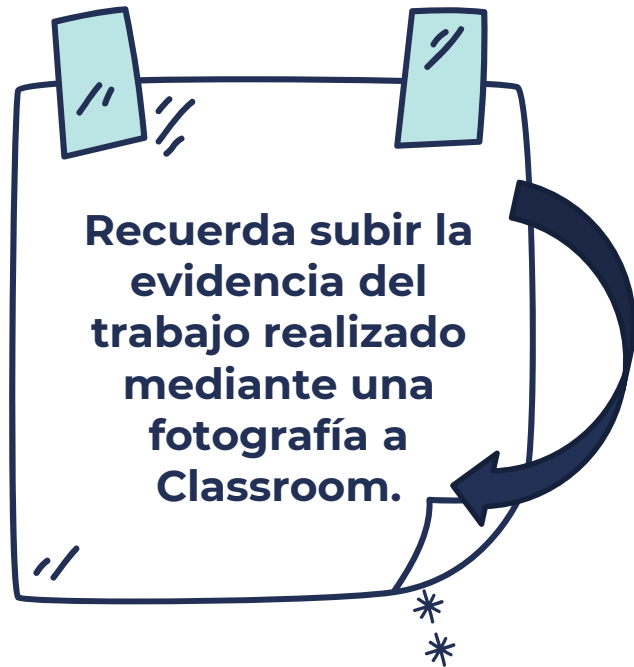
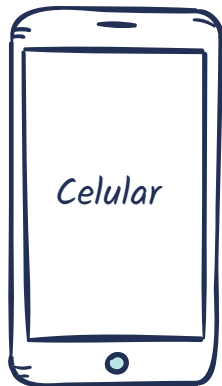


Resuelve en tu cuaderno

- b) En un rectángulo de largo 140 centímetros y ancho desconocido, hay 1800 cuadrados de lado 1 centímetro. ¿Qué división hay que hacer para calcular el ancho del rectángulo?



¡Recuerda!



No se envía al correo



$$2 + 4 = 6$$

Felicitaciones por el
trabajo logrado, nos vemos
la próxima semana.

