





Colegio Aurora
de Chile
CORMUN RANCAGUA

CÁLCULO MENTAL

7° BÁSICO

Semana 30 - 26 al 30 de octubre 2020

Profesora: Yessenia Ibarra

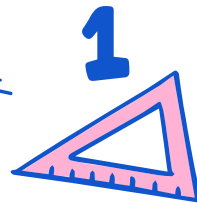


2



2×2

B




A



3








¡Bienvenidos!



Queridos estudiantes: esperando que se encuentren muy bien en casa, los invito a participar en una nueva semana de trabajo.





Recueda

“

Responder con letra clara.

Mantener tu cuaderno ordenado.

Escribir siempre la fecha y semana correspondiente.

”



Multiplicación de fracciones

2

La multiplicación de fracciones es muy fácil de calcular y no importa si tienen denominador común o no:

$$\frac{n}{m} \cdot \frac{a}{b} = \frac{n \cdot a}{m \cdot b}$$

Es decir, se multiplican los numeradores y los denominadores.


Por ejemplo,

$$\frac{2}{5} \cdot \frac{3}{7} = \frac{2 \cdot 3}{5 \cdot 7} = \frac{6}{35}$$





División de fracciones



La división de fracción se calcula multiplicando numerador y denominador en cruz:

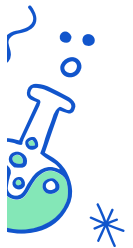
$$\frac{n}{m} \div \frac{a}{b} = \frac{n \cdot b}{m \cdot a}$$

Por ejemplo,

$$\frac{2}{3} \div \frac{5}{4} = \frac{2 \cdot 4}{3 \cdot 5} = \frac{8}{15}$$

Es decir,

- El numerador es el producto del numerador de la primera fracción y del denominador de la segunda.
- El denominador es el producto del denominador de la primera fracción y del numerador de la segunda.



Resuelve en tu cuaderno

Del dinero de su mesada, Felipe ahorra $\frac{2}{3}$, de los cuales gastó la cuarta parte en comprar una guitarra. ¿Qué parte del monto total de su mesada gastó en la guitarra?

Resolución:

Respuesta:



Resuelve en tu cuaderno

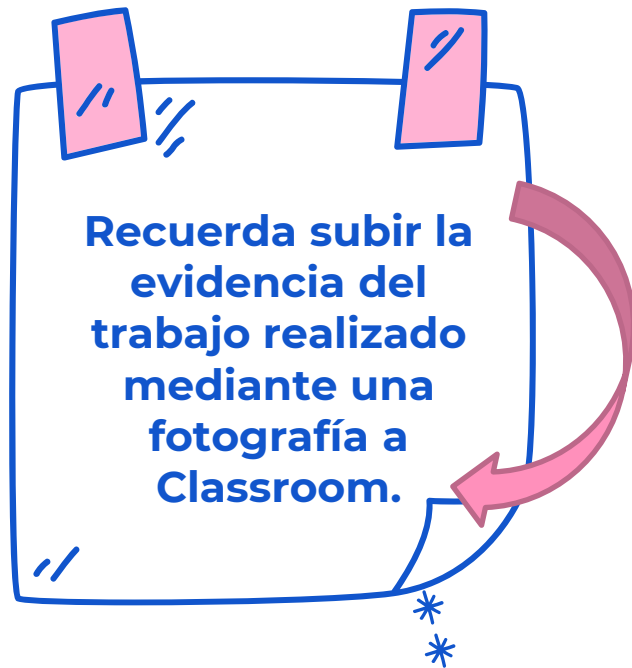
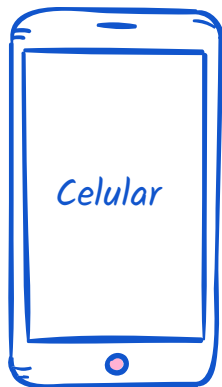
Para vaciar agua en un recipiente de $4\frac{1}{2}$ L, Rebeca utiliza un jarro de $\frac{3}{4}$ L. ¿Cuántas veces tendrá que llenar de agua el jarro para llenar el recipiente?



Resolución:

Respuesta:

¡Recuerda!



No se envía al correo



$$2 + 4 = 6$$

Felicitaciones por el
trabajo logrado, nos vemos
la próxima semana.

