



COLEGIO AURORA DE CHILE CORMUN - RANCAGUA

<https://www.youtube.com/watch?v=XT4B8NqyQoM&feature=youtu.be>

Clase grabada

- **Asignatura: Historia, Geografía y Ciencias Sociales**
- **Semana 8**
- **Profesora: Rosa Díaz San Martín**



ENSEÑANZA CENTRADA EN LA CALIDAD, AMOR Y DISCIPLINA



COLEGIO AURORA DE CHILE CORMUN - RANCAGUA



BUENOS DÍAS QUERIDOS ESTUDIANTES DE OCTAVO AÑO

BIENVENIDOS A CLASE DE HISTORIA .


© artespana.com y artequias.com

ENSEÑANZA CENTRADA EN LA CALIDAD, AMOR Y DISCIPLINA


Significado de las imágenes que aparecerán en los Power Point y guías de trabajo.

Recursos para la clase

- Escribir en el cuaderno




- Trabajo con el libro escolar



- NO imprimir el documento



- Enviar foto de la actividad desarrollada en el cuaderno al correo rosadiazsanmartin7@gmail.com



Objetivo: Distinguir la ubicación espacial y temporal de la Grecia antigua y los principios fundamentales de la Democracia ateniense considerando el mar Mediterráneo como un espacio de desarrollo comercial, y cultural en . A través PPT. Fuentes escritas ,trabajo con mapas desarrollo de preguntas y apoyo del texto escolar

Ruta de aprendizaje

Conocer la
Unidad.

Definir
Antigüedad
Clásica .

Ubicar
espacio y
tiempo.

Observar
mapas.

Desarrollar
preguntas.

Ver video.

Evaluar lo
aprendido.

COLEGIO AURORA DE CHILE

CORMUN - RANCAGUA

Unidad 2

El propósito de esta unidad es que comprendan las principales características de las civilizaciones griega y romana, entre ellas el marco espacial y temporal en que se desarrollaron , los sistemas políticos mediante los cuales se organizaron y su legado cultural

- **Antigüedad clásica** es una expresión historiográfica¹ para referirse al **período greco-romano** de la Edad Antigua
- El término "clásico" significa "de mayor plenitud" o "modelo digno de imitación".
- Edad Antigua: **Civilizaciones Clásicas**. La Antigüedad clásica es un término amplio que abarca un largo período en las áreas dominadas por Grecia y Roma; es decir, se identifica con el periodo greco-romano de la Edad Antigua en el mundo grecorromano: la Cuenca del Mediterráneo y el Próximo Oriente.



CIVILIZACIONES CLÁSICAS: GRECIA Y ROMA



La ubicación espacial se refiere al lugar geográfico donde se sitúan o desarrollan una civilización, un país, un continente, una ciudad, una población etc.



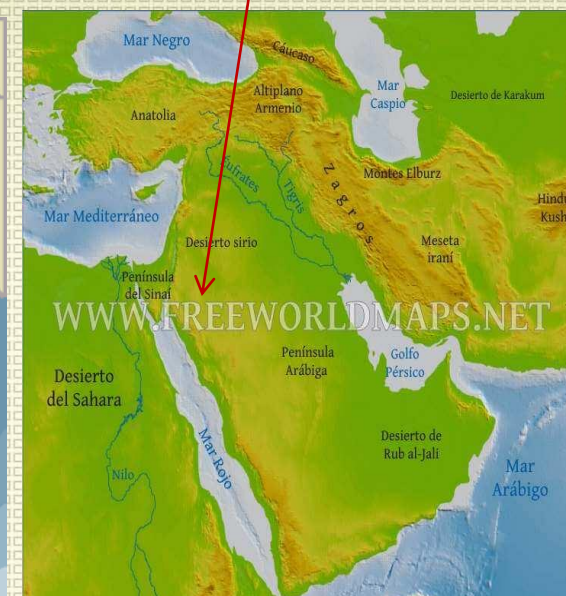
Grecia está situada en el extremo sur de la península balcánica en el litoral del mar Mediterráneo. Limita con el Mar Egeo, el Jónico y el Mediterráneo, entre Albania y Turquía.



Roma está ubicada en la Península Itálica, que está situada en el centro del mar Mediterráneo. La ciudad está ubicada en la región del Lacio, a orillas del río Tíber.



El Oriente Próximo se localiza en la unión de Eurasia y África, entre el mar Mediterráneo y el océano Índico.



Los Griegos una civilización excepcional

Grecia posee un territorio accidentado por la presencia de cadenas de montañas , que separan a valles estrechos y profundos que dividen el país y favorecen al parcelamiento político .

El relieve de su suelo permitió que el país se dividiera en un gran número **pequeños estados independientes llamadas polis..** De ahí que surgieran repúblicas como **Atenas, Esparta, Tebas**, etc.

El clima de Grecia es variado, desde los bruscos golpes de frío, así como las lluvias torrenciales en otoño. Por lo general es atemperado gracias a la influencia de sus mares, lo que les permitió a sus habitantes llevar una vida al aire libre, bajo un cielo brillante, claro y limpio

- **Periodificación de la historia griega**
- La historia griega se inicia, más o menos, a partir del **siglo XII a.C. y se prolongó hasta el año 146 a.C.** en que los romanos la someten y la convierten en una provincia de su imperio

LÍMITS DE L'IMPERI ROMÀ EN EL SEGLE II D.C.



La Democracia Ateniense Los Griegos una **civilización excepcional**

La Polis (ciudad Estado) de Atenas logro durante un tiempo ser la mayor potencia política, económica y militar de la Antigua Grecia , sitial que posibilito , luego de un largo proceso de experimentación política , consolidando una de las mayores creaciones de la civilización griega la **democracia**.

Recurso A

“Las relaciones entre regiones eran difíciles .(...)Hasta época muy reciente , carretas y carros eran poco útiles para el transporte y el recorrido de los senderos montañosos, a menudo arroyados por la lluvias, era solo cosa de los animales de carga.

Los ejércitos utilizaron siempre los mismos pasos: las Termopilas , ~~que rigen el acceso a la Grecia continental~~, el istmo de Corinto , que era la protección natural del Peloponeso o los pasos del Tauro, que habrían camino hacia Oriente Medio. En realidad, Grecia pedía al mar las comunicaciones que su relieve le vedaba”

Ruze, Françoise y Amouretti, Marie-claire(1992)El mundo griego antiguo. De los palacios cretenses a la conquista romana.

Termopilas : senderos o caminos “fuentes caliente”, debido a sus numerosos manantiales naturales de aguas termales.





Recurso B

“La vida política se concentra en un lugar determinado, la ciudad, que es el centro religioso, político y económico del territorio.

Geográficamente (...) comprendía el núcleo urbano y el territorio (...) con sus habitantes agrupados dispersos, sin antagonismo entre campo y ciudad (...).

Aunque en principio sea una realidad política en beneficios de los intereses de la aristocracia, su desarrollo económico abriría las vías para que otros grupos sociales se incorporen a su funcionamiento y a la obtención de beneficios, creando una nueva diversificación social”

Hidalgo, María José y otros (1998) Historia de la antigua Grecia.

Recurso 1 y 2 Leer los textos , luego responder:

1.-¿Qué características de la geografía griega son abordadas en los textos?

2.-¿Qué importancia tenía la ciudad en dicho espacio geográfico?

COLEGIO AURORA DE CHILE

CORMUN - RANCAGUA



Dibujar y aprender
Dibuja el contexto temporal Pág. 71

Pág. 71



Observar la imagen y la información, luego responder:

1.-¿Cómo imaginan que participaban los ciudadanos atenienses en el espacio de la fotografía?

2.-¿Por qué el desarrollo de la civilización griega y , en particular, de la democracia ateniense es significativo para las sociedades actuales?

Ver el video desde los 3 minutos 15 segundos en adelante

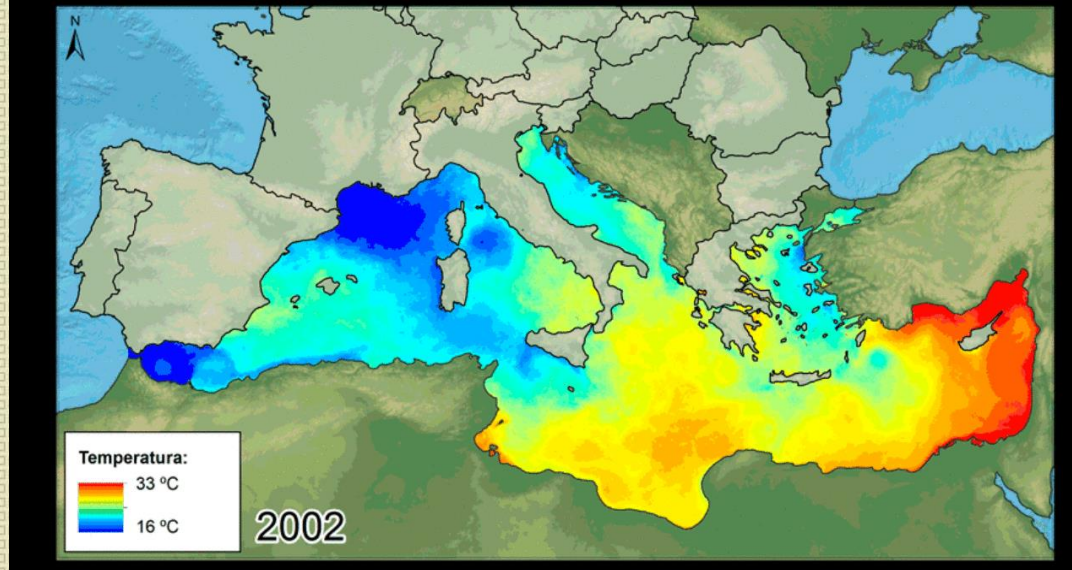
La importancia del Mar Mediterráneo , penínsulas , mares e islas.

<https://www.youtube.com/watch?v=shFhU689hYA>



.Desde el origen mismo de la civilización, el mar Mediterráneo ha tenido un importante rol en la historia de la humanidad. Su condición de mar interior (rodeado de tierra), Y EL hecho de que en el se conecten Asia, África y Europa, lo convirtieron en un espacio ecúmene , es decir un espacio poblado en forma permanente ´por distintas culturas.

Durante milenios, por este espacio han circulado millones de personas, mercaderías e ideas, siendo allí donde se desarrollaron importantes civilizaciones, entre ellas la griega y la romana.



Las aguas mediterráneas

Al ser un mar con escasa profundidad y muy pocas corrientes marinas, facilitó el desarrollo de la navegación y la pesca, además de permitir el contacto entre los distintos pueblos asentados en las costas e innumerables islas.

El Clima

Los asentamientos humanos en la región se vieron favorecidos por las condiciones climáticas: cuatro estaciones muy marcadas, con veranos secos y calurosos, primaveras y otoños lluviosos e inviernos fríos

Las tierras

Producto de sus suelos y condiciones climáticas, en gran parte del espacio que rodea al mar Mediterráneo y sus islas, se desarrolló la agricultura y la ganadería, actividades esenciales para la subsistencia de pequeños y grandes grupos humanos

¿Por qué el mar Mediterráneo puede haber propiciado el intercambio cultural entre los pueblos asentados en sus costas?



Inferir (extraer información del mapa) y responder

¿Qué espacio se representa en el mapa?

Respecto a la ubicación de las ciudades y las civilizaciones, ¿Qué aspecto común observas? _____

¿Por qué el mar Mediterráneo puede haber propiciado el intercambio cultural entre los pueblos asentados en sus costas? _____



ALTITUD EN METROS	
4000 y más	
2000	
1000	
200	
0	

SIMBOLOGÍA	
○	Ciudades

Referencia: Duby, Georges (2007). *Atlas Histórico Mundial*.

Preguntas de cierre de la clase

Identifica la alternativa correcta

1.- ¿Qué actividad se vio beneficiada por las características geográficas donde se ubicaron las primeras polis griegas?

- a) La navegación en los extensos ríos continentales
- b) El comercio marítimo en los mares Egeos y Mediterráneo
- c) La agricultura en las altas planicies del territorio continental
- d) La comunicación entre los valles las penínsulas del Peloponeso y la de los Balcanes

2.- El concepto de polis griega hace mención a:

- a) Una ciudad Estado
- b) Un grupo social
- c) Un sistema de gobierno
- d) Un dios griego

3.- La antigüedad clásica hace referencia a:

- a) La edad antigua
- b) El período greco romano
- c) Al territorio habitado por los griegos
- d) Los sistemas de caminos griegos



COLEGIO AURORA DE CHILE CORMUN - RANCAGUA

**Queridos estudiantes los felicito por el trabajo de la clase de hoy
Les invito a estudiar en el texto escolar
Enviar fotografías solo de los recuadros en donde esta la cámara**

**Les envío un abrazo a la
distancia , los extraño.
Con cariño Profesora**

Rosita Díaz.

ENSEÑANZA CENTRADA EN LA CALIDAD, AMOR Y DISCIPLINA

Correo electrónico

- *Hasta la próxima clase
cuídense mucho*