



# COLEGIO AURORA DE CHILE

## CORMUN - RANCAGUA

- Asignatura: Historia, Geografía y Ciencias Sociales
- Semana 7 [https://youtu.be/asuonj\\_5CxM](https://youtu.be/asuonj_5CxM)
- Profesora: Rosa Díaz San Martín





# COLEGIO AURORA DE CHILE CORMUN - RANCAGUA

*BUENOS DÍAS QUERIDOS ESTUDIANTES DE SÉPTIMO AÑO  
BIENVENIDOS A CLASE DE HISTORIA .*



**ENSEÑANZA CENTRADA EN LA CALIDAD, AMOR Y DISCIPLINA**




# COLEGIO AURORA DE CHILE CORMUN - RANCAGUA

Códigos que utilizaremos en todas las clases

## Significado de las imágenes que aparecerán en los Power Point y guías de trabajo.

- Escribir en el cuaderno
- Trabajo con el libro escolar
- NO imprimir el documento
- Enviar foto de la actividad desarrollada en el cuaderno al correo [rosadiazsanmartin7@gmail.com](mailto:rosadiazsanmartin7@gmail.com)



## Recursos para la clase







# COLEGIO AURORA DE CHILE

## CORMUN - RANCAGUA

Objetivo: Aplicar aprendizajes trabajados en la unidad con apoyo de videos , PPT , texto escolar páginas de ayuda opcional entre 8 a la 45 y actividades de desarrollo en el cuaderno.

Ruta de Aprendizaje

Revisar recursos para la clase

Ver videos en You Tube

Escribir el Objetivo Fecha y N° de clase

Completar mapa

Recreo cerebral

Trabajar en el cuaderno solamente el desarrollo de la actividad.







# COLEGIO AURORA DE CHILE

## CORMUN - RANCAGUA


Recordar contenidos trabajados

A través de los siguientes videos realizaremos un recorrido de los contenidos estudiados en la unidad. La dispersión del ser humano por el planeta , La etapa de la Prehistoria y el surgimiento de las Primeras Civilizaciones.

- <https://www.youtube.com/watch?v=01B1LGmyC2I>
- [https://www.youtube.com/watch?v=G2tUkEvo\\_IM](https://www.youtube.com/watch?v=G2tUkEvo_IM)
- <https://www.youtube.com/watch?v=P846e7QHFu8>




## Actividad de aplicación. La dispersión del hombre por el mundo



- 1.-Elabora un mapa sobre la dispersión del ser humano en el planeta. Para esto, realiza las siguientes actividades.
- a) Observa el mapamundi .Luego ubica los nombres de los continentes y océanos.







Elegir solo una opción de las que se presentan a continuación y trabajarla en el mismo mapa.

B) Completa el mapamundi, seleccionando uno de los siguientes fenómenos y representándolo en él:

opción 1 .- Proceso de hominización sus diferentes etapas. (recuerda hacer la simbología )

opción 2.- Teorías de poblamiento americano . (recuerda hacer la simbología )





## El agua como recurso fundamental

1.- Lee la siguiente fuente y, luego contesta las preguntas.




- Laguna de Aculeo se secó y soluciones podrían tardar años
- Un impactante panorama presenta actualmente la laguna de Aculeo, que se seco por completo en la comuna de Paine.
- El paisaje ,que antes solía ser un escenario habitual de deportes náuticos y actividades acuáticas para la Región Metropolitana , preocupa a los vecinos de la zona pues tardaría años en volver a ser como era antes.
- “Es la primera vez que ocurre en dos mil años “, aseguro a El Mercurio el hidrólogo de la Universidad de Chile, Pablo García , quien además es vecino del sector.
- Según la publicación , la causa de la sequía en la laguna divide a los habitantes de la zona, ya que algunos culpan a la falta de precipitaciones y otros culpan a la sobreexplotación de los recursos hídricos por parte de los dueños de parcelas de agrado, agrícolas y de cultivo.
- Mientras Vergara explicó que un canal de regadío y un estero de la zona comenzaran a proveer de agua a la laguna de Aculeo, también espera que lo ayuden las lluvias.
- Asimismo, otra solución involucra a un proyecto que busca invertir \$ 2 mil millones en mejoras. García, en tanto, cree que también es necesario reducir el consumo de agua en el sector. Se calcula que, si los planes funcionan, la laguna tardaría unos cuatro años en recuperarse.

COOPERATIVA.(09de Mayo de 2018) Laguna de Aculeo se seco y soluciones podrían tardar años En [www.cooperatva.cl](http://www.cooperatva.cl)



# COLEGIO AURORA DE CHILE CORMUN - RANCAGUA



Extraer la información  
de la fuente para  
responder

Laguna de Aculeo se  
secó y soluciones  
podrían tardar años

A) ¿Qué conflictos aborda la fuente?

---

B) ¿En que lugar y año ocurre el conflicto señalado en la fuente de información?

---

C) A tu juicio, ¿El agua es un recurso natural indispensable para el desarrollo de cualquier sociedad humana? Fundamenta tu respuesta.


D) \_\_\_\_\_

E) ¿Qué crees que hubiera sucedido si los primeros homínidos durante el paleolítico no hubiesen contado con fuentes de hídricas (agua) cercanas?



## Momento del Recreo cerebral

Sopa de letras interactiva de las civilizaciones del mundo



- <https://es.educaplay.com/recursos-educativos/?q=civilizaciones+del+mundo>





## Vestigios del pasado

Observa y analiza las imágenes .Luego responde ¿Qué muestra cada imagen?



Imagen 1	Imagen 2	Imagen 3	Imagen 4

1.- Pintura rupestre  
Abrigo de la Roca de los Moros, Cogul, Lérida España



3.- Monumento funerario de la cultura Talayótica, Mallorca España.



2.- Herramientas propias del Neolítico  
Cogul, Lérida ,España.



4.- Dolmen  
Lácara, Badajoz, España






## El surgimiento de la Primeras Civilizaciones

Completar la siguiente tabla comparativa de las primeras civilizaciones

Criterio	Mesopotamia	Antiguo Egipto	China
Ubicación Geográfica			
Ubicación Temporal			
Organización Política			
Organización Social			
Economía			







# COLEGIO AURORA DE CHILE CORMUN - RANCAGUA

Queridos estudiantes los felicito por el trabajo realizado en esta clase. Una vez terminada las actividades tomar fotografía al cuaderno y enviar a mi correo para revisar su trabajo.(Procure tomar la foto con la cámara enfocada sobre el cuaderno y verificar que se pueda leer por favor se lo agradeceré mucho)

**Les envío un abrazo a la distancia , los extraño.**

**Con cariño Profesora Rosita Díaz.**



# La hora del recreo

- *Hasta la próxima clase cuídense mucho*