





Colegio Aurora  
de Chile  
CORMUN RANCAGUA

# CÁLCULO MENTAL

## 5° BÁSICO

Semana 30 - 26 al 30 de octubre 2020

Profesora: Yessenia Ibarra



3

A

2

+

B

$2 \times 2$

\*

\*

.

\*

.

.

\*

\*



\*

\*

\*

\*

\*



\*

.

.

\*

\*


\*



# ¡Bienvenidos!



Queridos estudiantes: esperando que se encuentren muy bien en casa, los invito a participar en una nueva semana de trabajo.





# Recueda

“

Responder con letra clara.

Mantener tu cuaderno ordenado.

Escribir siempre la fecha y semana correspondiente.


”





# B

# Fracciones




3



2

La fracción se utiliza para representar las partes que se toman de un objeto que ha sido dividido en partes iguales. Por ejemplo, dividimos una pizza en 8 partes iguales y sacamos una. Esto se representa por la siguiente fracción:



Los términos de la fracción se denominan: numerador y denominador.

A



2x2

1



Hello!

# Resuelve en tu cuaderno

- 1- Durante la temporada de cosecha, Teresa recolectó  $\frac{3}{4}$  de frambuesas de un terreno; Miguel recolectó  $\frac{3}{6}$  y Ana,  $\frac{4}{5}$ . ¿Quién recolectó la mayor y la menor cantidad de frambuesas en ese terreno?



Resolución:

Respuesta:



# Resuelve en tu cuaderno

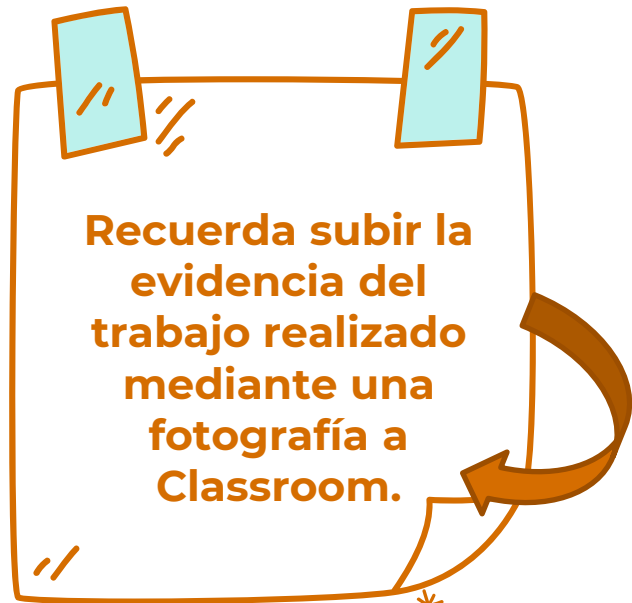
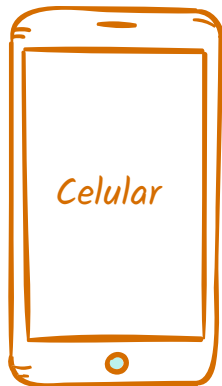
- 2- Maximiliano quiere pintar la reja de su casa. En el ático le quedan algunos galones de pintura con los siguientes colores: de pintura azul  $\frac{3}{4}$ ; de café  $\frac{2}{5}$ ; de amarillo  $\frac{3}{5}$ , y de verde,  $\frac{6}{9}$ . Maximiliano decide usar el galón que tenga más contenido. ¿De qué color pintará la reja? Justifica tu respuesta.



Resolución:

Respuesta:

# ¡Recuerda!



*No se envía al correo*



$$2 + 4 = 6$$

*Felicitaciones por el  
trabajo logrado, nos vemos  
la próxima semana.*

