




Colegio Aurora
de Chile
CORMUN RANCAGUA

CÁLCULO MENTAL

5° BÁSICO

Semana 29 - 19 al 23 de octubre 2020

Profesora: Yessenia Ibarra



2×2

B


2



3



A





¡Bienvenidos!



Queridos estudiantes: esperando que se encuentren muy bien en casa, los invito a participar en una nueva semana de trabajo.





Recueda

“

Responder con letra clara.

Mantener tu cuaderno ordenado.

Escribir siempre la fecha y semana correspondiente.

”



Fracciones

2

La fracción se utiliza para representar las partes que se toman de un objeto que ha sido dividido en partes iguales. Por ejemplo, dividimos una pizza en 8 partes iguales y sacamos una. Esto se representa por la siguiente fracción:



Los términos de la fracción se denominan: numerador y denominador.



Resuelve en tu cuaderno

1- Escribe el signo $>$ o $<$ donde corresponda.

$$\frac{3}{7} \square \frac{3}{9}$$

$$\frac{2}{5} \square \frac{6}{5}$$

$$\frac{3}{9} \square \frac{3}{4}$$

$$\frac{2}{7} \square \frac{5}{7}$$



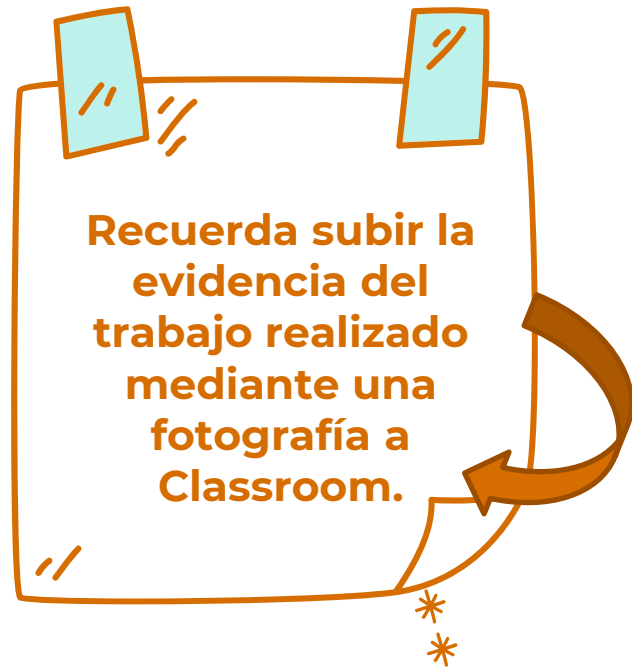
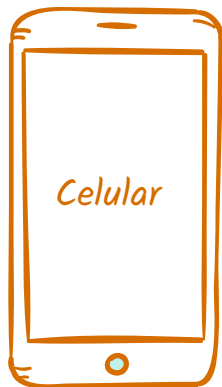
Resuelve en tu cuaderno

2- Ordenar de menor o mayor:



$$\frac{5}{12}' \quad \frac{2}{15}' \quad \frac{5}{4}' \quad \frac{7}{5}$$

¡Recuerda!



No se envía al correo



$$2 + 4 = 6$$

*Felicitaciones por el
trabajo logrado, nos vemos
la próxima semana.*

