



COLEGIO AURORA DE CHILE
CORMUN - RANCAGUA

Matemáticas Unidad 1



Programa De Integración
Escolar

ENSEÑANZA CENTRADA EN LA CALIDAD, AMOR Y DISCIPLINA



COLEGIO AURORA DE CHILE
CORMUN - RANCAGUA

Un saludo cordial, esperando se encuentren muy bien en sus casas junto a sus familias.


El trabajo de esta semana consiste en trabajar contenidos de la unidad 1, contenido fracciones.

Para esta clase solo necesitas energía para jugar y así comprenderás el contenido

Ojo no imprimir el material



ENSEÑANZA CENTRADA EN LA CALIDAD, AMOR Y DISCIPLINA



¿Qué ves en la
imágen?

¿En cuantos trozos se
dividio?

¿Cuantos trozos se
sacaron?



Objetivo de la clase: **Reconocer fracciones propias e impropias** mediante ppt explicativo demostrando una actitud de esfuerzo y orden.

¿Qué es una fracción?

Es una parte o porción de un todo y se puede representar de distintas formas gráficas.





¿Cuales son las partes de una fracción?

Una **fracción** tiene dos partes: La **parte de arriba** representa el **numerador** el cual **indica las partes en que se toman**, se **sacan** o se **colorean** de una fracción y el **denominador** indica las partes que se ha dividido la figura.



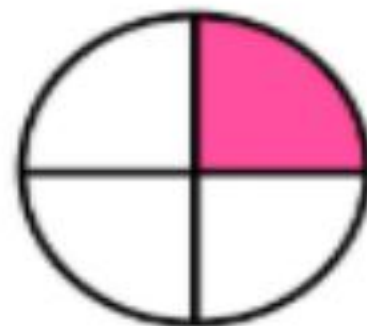
Menciona el numerador y el denominador de las siguientes fracciones:



$$\frac{1}{2}$$



$$\frac{1}{3}$$



$$\frac{1}{4}$$

Tipos de fracciones

- Las fracciones se clasifican en propias e impropias.

**FRACCIÓN
PROPIA**

El numerador es
menor que el
denominador

$\frac{3}{5}$

**FRACCIÓN
IMPROPIA**

El numerador es
mayor que el
denominador

$\frac{8}{3}$

Menciona el tipo de fracción representada en los siguientes ejercicios: (Fracción propia o impropia)

$$\frac{4}{5}$$

$$\frac{11}{7}$$

$$\frac{7}{3}$$

$$\frac{3}{4}$$

Actividad: Demuestra que aprendiste las fracciones.


- Define fracción propia:

- ---


- Define fracción impropia:

- ---

¿La siguiente imagen que fracción representa?

	a) $\frac{4}{5}$	b) $\frac{5}{4}$
	c) $\frac{9}{5}$	d) $\frac{5}{9}$

- Menciona el tipo de fracción representada:



Escribe la fracción representada (recuerda el nombre de la parte que indica lo pintado y la parte que indica lo dividido)









Preguntas de reflexión (Actividad de cierre)

- ¿Qué es una fracción?

¿Qué aprendí?



COLEGIO AURORA DE CHILE
CORMUN - RANCAGUA

¡Felicitaciones!

¡La actividad a finalizado, lo
lograste!

ENSEÑANZA CENTRADA EN LA CALIDAD, AMOR Y DISCIPLINA