

Uso de audífonos
 Activar cámaras
 Silenciar audio
Usar Correos Institucionales
 Cuaderno y texto CCNN
 Estar en lugar donde no existan distractores (TV, música, etc)
 Utilizar el chat solo para preguntas y asistencia

Asistencia
 Nombre Apellido curso
Ejemplo
 Felipe Pérez
 5ºA



5º Básico

OBJETIVO

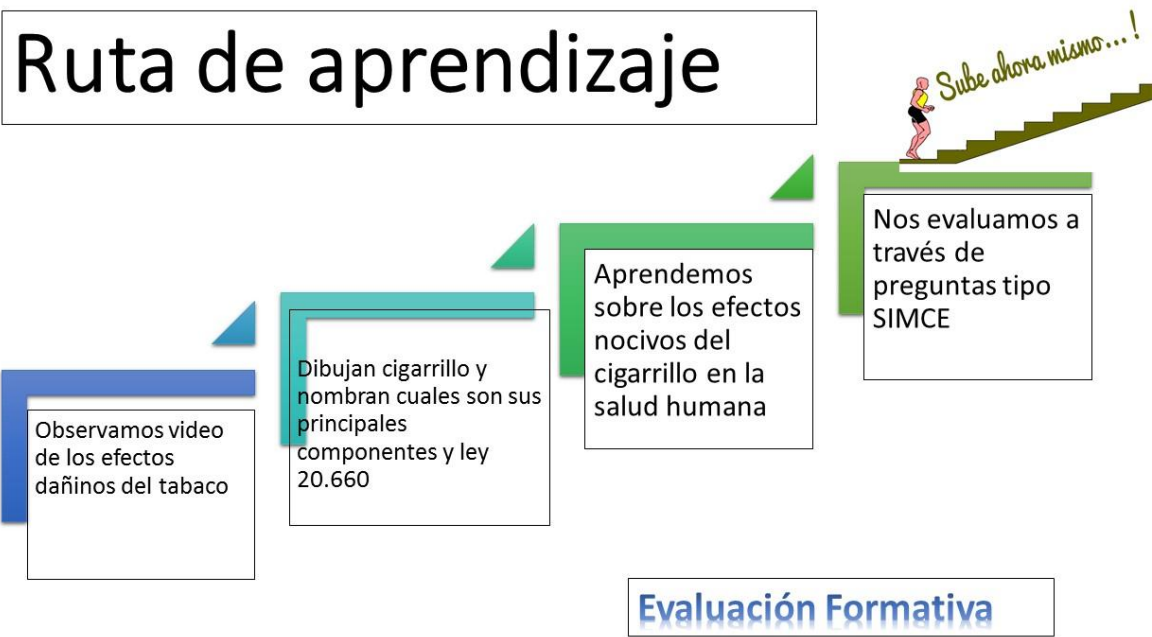
<https://www.youtube.com/watch?v=sjfO5dAXorQ>



Describir los efectos dañinos que produce el tabaquismo a los sistemas del cuerpo humano mediante análisis de video de campañas antitabaco y ppt, demostrando interés por la asignatura.

jose.salas@colegio-auroradechile.cl

Ruta de aprendizaje





Universidad
de Valparaíso
CHILE

NOTICIAS

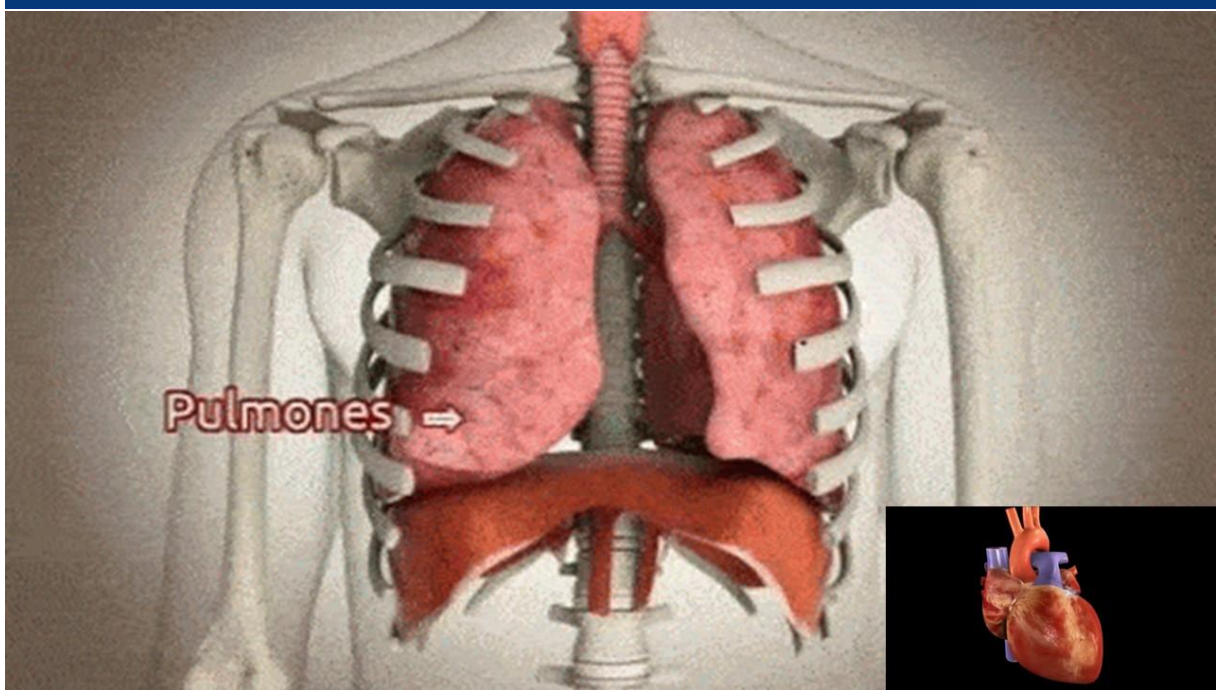


PREGRADO

POSTGRADO

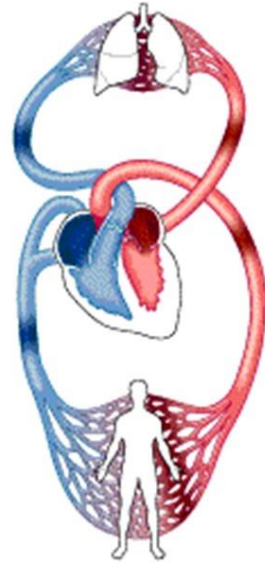
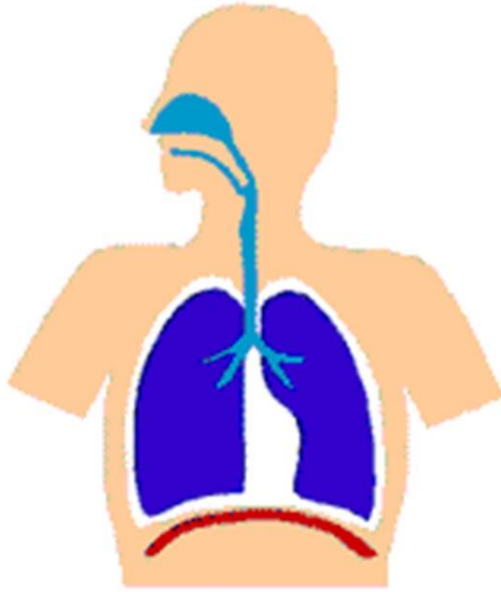
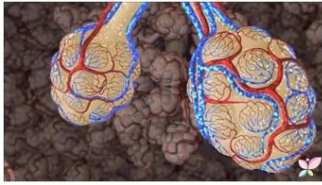
INVESTIGACIÓN

VINCULACIÓN



EN LATINOAMÉRICA
MUERTES POR EFERMEDADES
ATRIBUIBLES AL TABACO

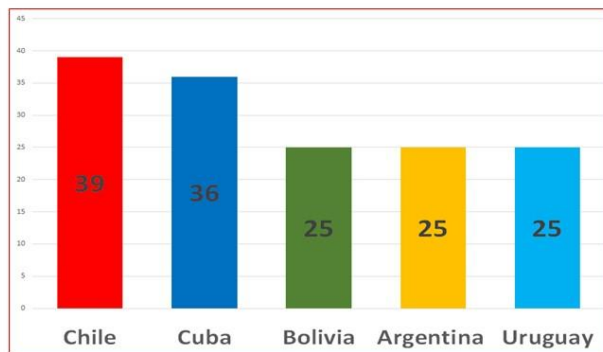




El consumo de cigarrillos en Chile

Chile es el país de Latinoamérica y de la OCDE (Organización para la Cooperación y el Desarrollo Económico) en donde más se consume tabaco.

Además, los adolescentes chilenos están entre los que más fuman en el mundo.



Formula una predicción a partir de los datos del grafico:

La **ley antitabaco (LEY 20660)**, que promueve la disminución y la regulación del consumo de tabaco entre la población de nuestro país. Entre otras regulaciones, esta ley establece lo siguiente:

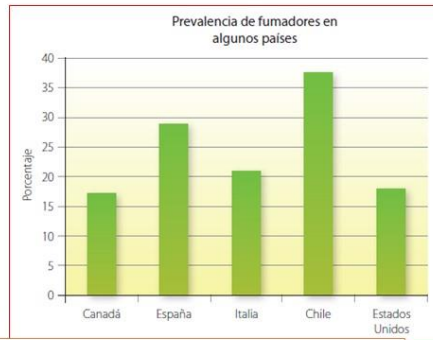


- Prohíbe la promoción y la publicidad del consumo de tabaco.
- Prohíbe el consumo de cigarrillo en lugares públicos y cerrados.
- Incluye en los envases de cigarrillo información sobre los efectos del tabaco en el organismo.
- Aumenta los impuestos al tabaco (hecho que incide en el precio de los cigarrillos).
- Prohíbe la venta de cigarrillos cerca de establecimientos educacionales.

Nombra 5 ejemplos en que se aplica la ley antitabaco:

Analizando un gráfico

En el siguiente gráfico se muestra la prevalencia de consumo de cigarrillos en la población de Chile respecto de algunos países desarrollados según datos de la OMS (Organización Mundial de la Salud). Obsérvenlo y luego respondan.



1. ¿En cuál de los países la prevalencia de consumo de cigarrillos es menor?, ¿a qué piensan que se deba?
2. ¿Creen que existe una relación entre el nivel de desarrollo de un país y el consumo de tabaco que se da en él? Justifiquen.
3. ¿Qué opinan sobre el nivel de consumo de cigarrillos en Chile respecto de los otros países que se presentan?
4. ¿De qué manera piensan que se puede reducir el consumo de tabaco en Chile? Hagan un listado con algunas medidas.

Pregunta de cierre N°1

La ley antitabaco, que promueve la disminución y la regulación del consumo de tabaco entre la población. ¿Qué prohíbe?

- a) La publicidad del consumo de tabaco.
- b) Consumo de cigarrillo en lugares públicos y cerrados.
- c) La venta de cigarrillos cerca de establecimientos educativos.
- d) Todas son correctas

Pregunta de cierre N°2

El consumo de cigarrillos ¿ Que enfermedades puede provocar?

- a) Enfermedades como el cáncer pulmonar
- b) Enfermedades cardiacas
- c) Adicción a la nicotina
- d) Todas son correctas

Pregunta de cierre N°3

Los estudios indican que el consumo de cigarrillos ¿ A que sistemas del cuerpo afecta?

- a) El sistema respiratorio
- b) Sistema digestivo
- c) Sistema circulatorio
- d) A todos los sistemas del cuerpo humano

5CIE_ACT_S32 (1)

Uso de audífonos

Activar cámaras

Silenciar audio

Cuaderno y texto CCNN

Estar en lugar donde no existan distractores (TV, música, etc)

Utilizar el chat solo para preguntas y asistencia

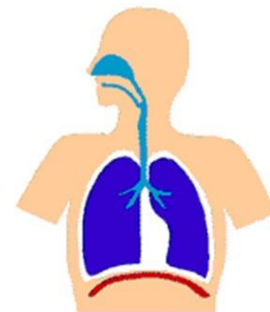
Usar Correos Institucionales

Asistencia
Nombre Apellido curso
Ejemplo
Felipe Pérez
5ºA



5º Básico

OBJETIVO




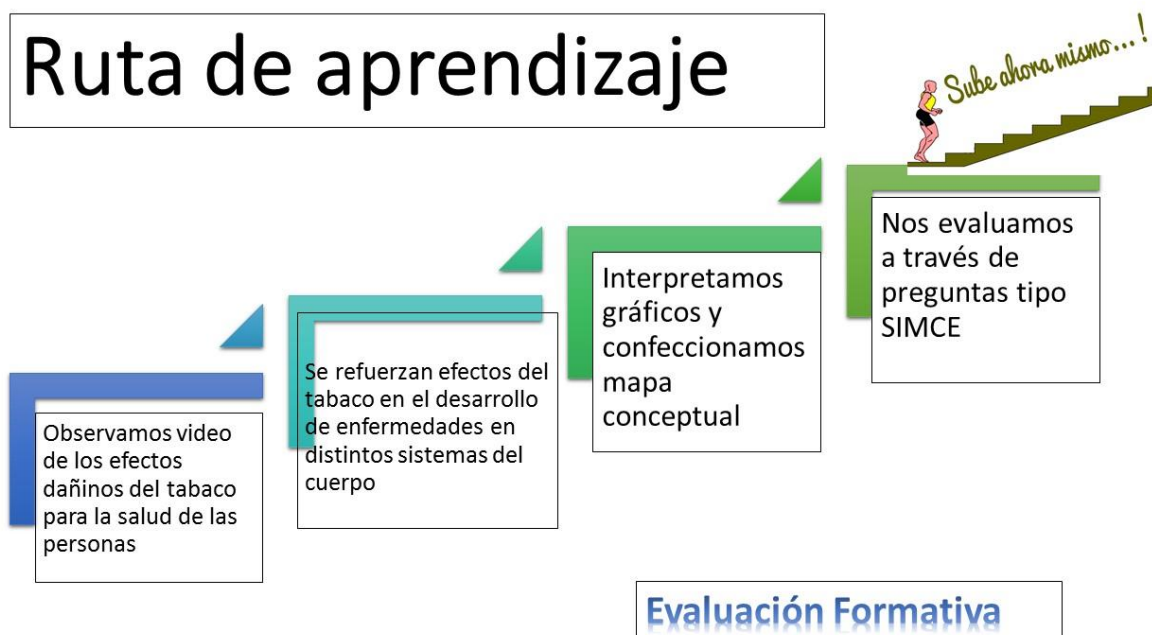
<https://www.youtube.com/watch?v=sjfO5dAXorQ>

Describir los efectos nocivos que produce el cigarrillo en la salud humana, mediante gráficos y ppt, demostrando interés por la asignatura.

<https://www.youtube.com/watch?v=n2BxkxLewwk>

jose.salas@colegio-auroradechile.cl

Ruta de aprendizaje



Drogas legales

- Dentro de las drogas legales tenemos dos muy destacadas:

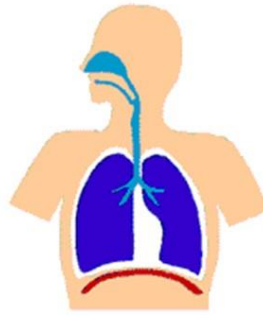
- El alcohol
- El tabaco
- fármacos

El consumo habitual de tabaco es una enfermedad que produce diferentes enfermedades, como cáncer, enfermedades cardiovasculares y enfermedades respiratorias.



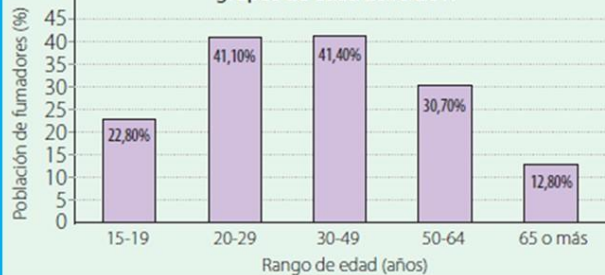
Efectos del tabaco

- Estimula receptores sensitivos.
- Acelera la frecuencia cardiaca.
- Eleva la presión arterial.
- Afecta el sistema nervioso
- Alterar la sangre en el corazón
- Alterar el ritmo respiratorio
- Produce enfermedades cardiacas, respiratorias y digestivas
- Disminuye los sentidos del olfato y del gusto



Según los datos del Ministerio de salud. ¿Entre qué edades se concentra más del 80% de la población fumadora?

Consumo de cigarrillo según grupos de edad 2016-2017

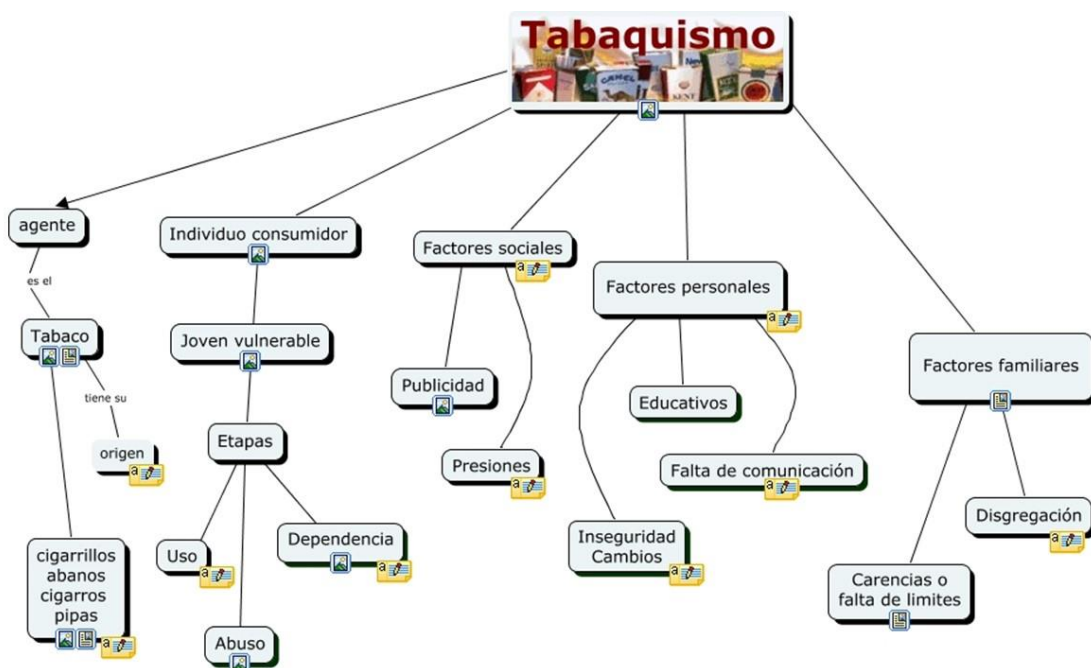


¿Qué datos se representan?

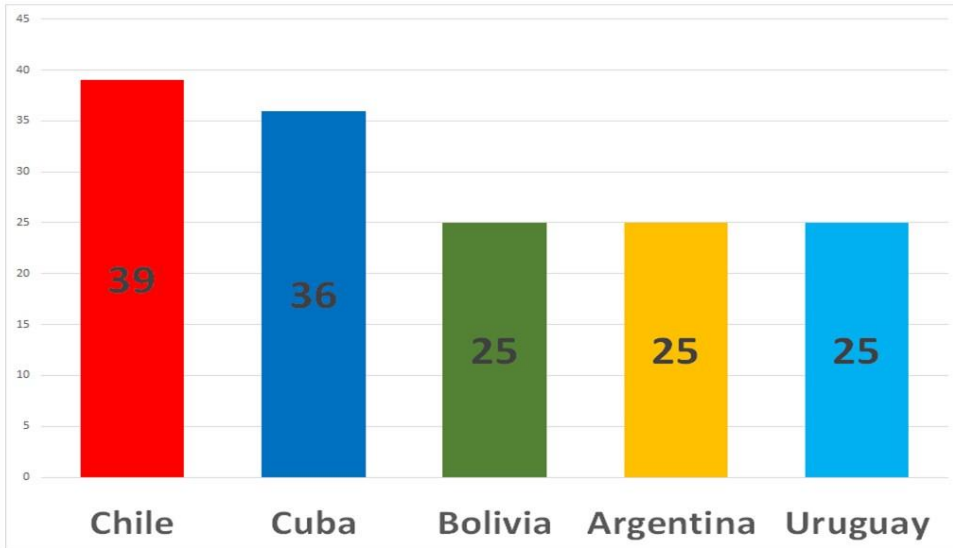
- En el eje Vertical
- El eje horizontal

¿Qué información relevante se puede extraer del gráfico?

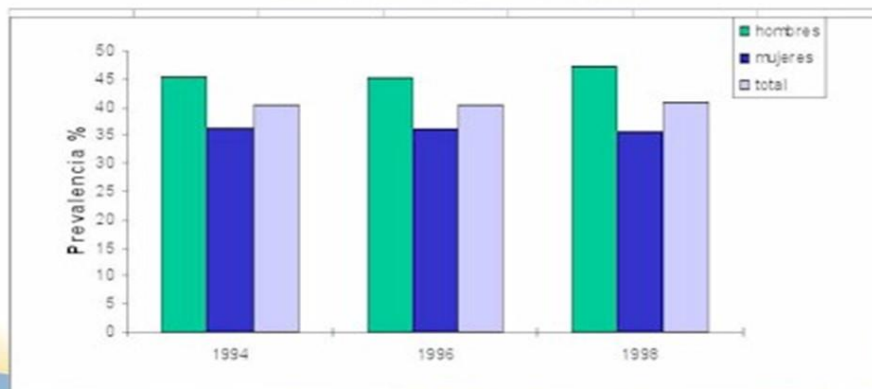
-
-



Consumo de tabaco

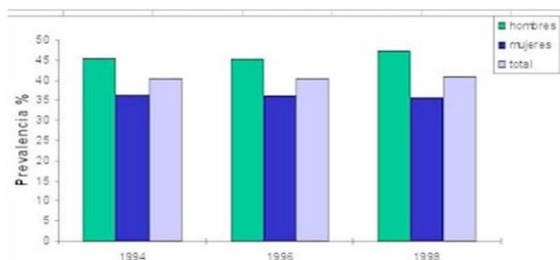


Prevalencia del Tabaquismo en Chile. Encuesta CONACE



www.portalesmedicos.com

Pregunta de cierre N°1



Según los datos estadísticos representados en grafico, se puede afirmar:

- a) El consumo de cigarrillos se mantiene en el tiempo
- b) Las mujeres consumen mas cigarrillos que los hombres
- c) Los hombres consumen mas cigarrillos que las mujeres
- d) Hombres y mujeres consumen por igual

Pregunta de cierre N°2

	Año	Hombres	Mujeres
Porcentaje de fumadores	2003	48 %	36 %
	2010	40 %	45 %

A partir de los datos de la tabla es correcto afirmar que:

- a). La cantidad de mujeres fumadoras ha ido disminuyendo desde el año 2003.
- b). La cantidad de hombres fumadores ha ido en aumento desde el año 2003.
- c). La cantidad de fumadores de ambos sexos aumentó desde el año 2003
- d). La cantidad de mujeres fumadoras ha ido en aumento desde el año 2003.

Pregunta de cierre N°3

El tabaquismo produce diversas consecuencias, entre ellas se encuentra:

- a) Acelera la frecuencia cardiaca.
- b) Eleva la presión arterial.
- c) Afecta el sistema nervioso
- d) Todas son correctas