



Colegio Aurora  
de Chile  
CORMUN RANCAGUA

# SEMANA 14

## PROYECTO DE EJERCITACIÓN DE MATEMÁTICA AL HOGAR

4° BÁSICO

PROFESORA ENCARGADA DE  
PROYECTO: MAYTE CARRASCO  
SEPÚLVEDA



The image features six stylized, cartoonish faces of children of various ethnicities and ages. They are arranged around a central blue speech bubble. The children have large, expressive eyes and simple, friendly expressions. The central text is written in a clean, sans-serif font.

## OBJETIVO DEL PROYECTO

MEJORAR EL DESEMPEÑO DE LOS ESTUDIANTES EN EL MANEJO ADECUADO DE LOS CONTENIDOS DE MATEMÁTICA A TRAVÉS DEL DESARROLLO DE GUÍAS DE TRABAJO ENVIADAS AL HOGAR DURANTE EL AÑO 2020 PARA POTENCIAR LA RESOLUCIÓN DE PROBLEMAS EN TAREAS ESCOLARES Y EN LA VIDA DIARIA.



# ¡HOLA QUERIDOS NIÑOS Y NIÑAS!



ESPERAMOS SE ENCUENTREN MUY BIEN EN SUS HOGARES JUNTO A SUS FAMILIAS. LOS Y LAS EXTRAÑAMOS MUCHO.



EN ESTE PROYECTO DE EJERCITACIÓN DE MATEMÁTICA AL HOGAR, REALIZARÁN ACTIVIDADES ENTRETENIDAS PARA REFORZAR LOS CONTENIDOS DE LA ASIGNATURA.



DEBEN SEGUIR LAS INSTRUCCIONES DE LAS ACTIVIDADES Y JUEGOS ONLINE.

# ¿QUÉ NECESITAS PARA DESARROLLAR LA ACTIVIDAD DE ESTE PROYECTO?

LO QUE TENGAS EN CASA...



COMPUTADORA



TABLET



CELULAR

E  
S  
E  
N  
C  
I  
A  
L



LÁPIZ DE MINA



GOMA DE BORRAR



CUADERNO DE ASIGNATURA DE MATEMÁTICA



UN LUGAR CÓMODO PARA ESTUDIAR

# ¿CÓMO LO HAREMOS?



RECORDAR CONTENIDO




OBSERVAR EJEMPLO



REALIZAR ACTIVIDAD



JUGAR ONLINE





## Recordar contenido



Las situaciones problema de adición y de sustracción entregan variada información. Para resolverlas se deben seguir estos pasos.

**Paso 1**

Leer y comprender la **situación** y la **pregunta**.

Matías quiere comprar un televisor que cuesta \$ 265.490 y un microondas que vale \$ 56.240. ¿Cuánto dinero gastará?

**Paso 2**

Seleccionar los **datos** que permiten responder la pregunta.

**Datos** \$ 265.490, precio del televisor.  
\$ 56.240, precio del microondas.

**Paso 3**

Determinar qué **operación** realizar y escoger una **estrategia** de cálculo.

Adición

$$\begin{array}{r} 111 \\ 265.490 \\ + 56.240 \\ \hline 321.730 \end{array}$$

**Paso 4**

Responder la pregunta.

Matías gastará \$ 321.730.



PIDE AYUDA A TU APODERADO PARA  
LEER Y RECORDAR EL CONTENIDO DE  
MATEMÁTICA




 **Observar ejemplo**



Felipe tenía ahorrado \$560 en una alcancía para comprar un juguete. Su papá le dio \$547 más para que comprara lo que quería ¿cuánto dinero tiene ahora Felipe para comprar el juguete?

**PARTES  
DE UN  
TODO**



**TOTAL**

$$560 + 547 = 1107$$

**Respuesta:** Felipe tiene ahora \$1.107 para comprar el juguete.

# Resolver problemas:

- a) La mamá de Esteban compró 158 metros de tela para hacer delantales. Ocupó 40 metros. ¿Cuánta tela le queda?


Cálculo:

Respuesta:

- b) En el supermercado hay 385 cepillos de dientes de diferentes colores; 85 son rojos. ¿Cuántos son de otros colores?


Cálculo:

Respuesta:

- c) La caja de huevos cuesta \$790 y una bandeja de frutillas cuesta \$484. ¿Cuánto más cara es la caja de huevos que la bandeja de frutillas?


Cálculo:

Respuesta:

- d) María y su amiga están haciendo chocolates caseros para vender. María dice: "¡Ya tenemos 168 chocolates! ¡Hagamos otros más hasta completar 250!". ¿Cuántos chocolates más tienen que hacer María y su amiga?


Cálculo:

Respuesta:



Realizar actividad

PIDE AYUDA A TU APODERADO

LA ACTIVIDAD SE REALIZA TRANSCRIBIENDO EN EL CUADERNO DE ASIGNATURA DE MATEMÁTICA

DEBES ENVIAR UNA FOTO DE TU ACTIVIDAD A TU PROFESORA DE MATEMÁTICA

ASÍ DEBE QUEDAR TU CUADERNO







## Realizar actividad

Completa según el dígito destacado en cada número.

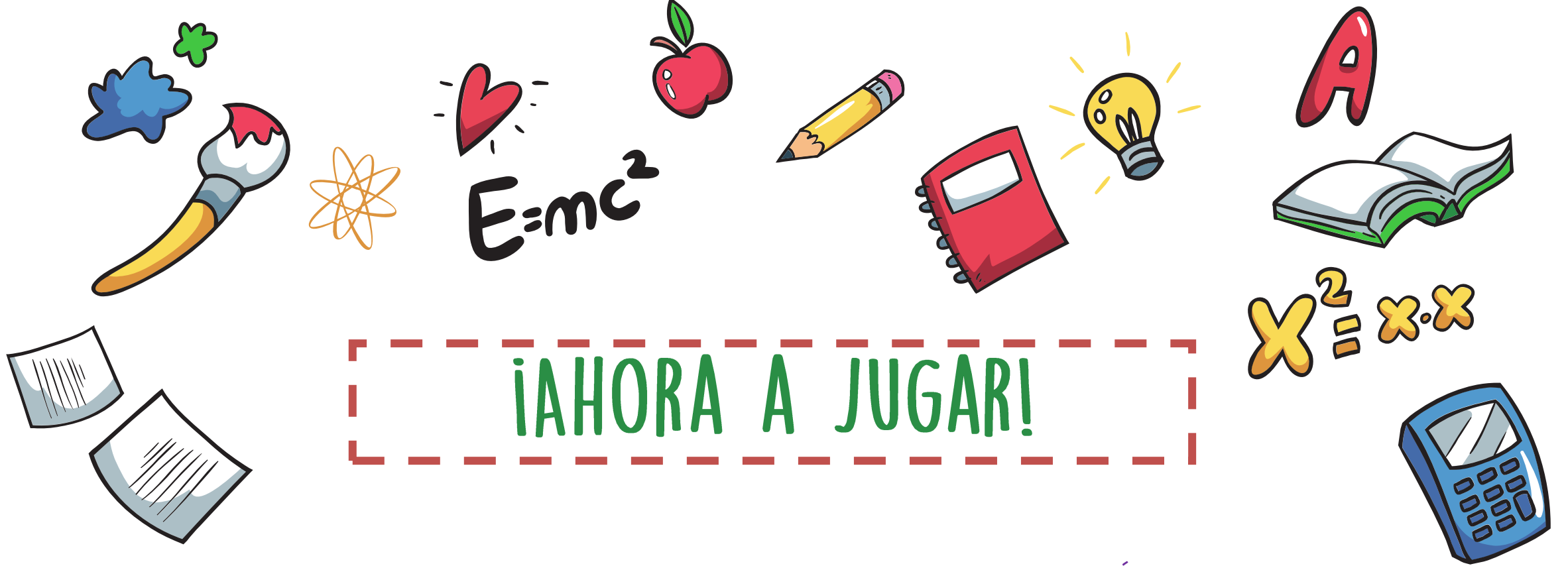
	Número	Posición	Valor posicional
a.	258		
b.	655		
c.	931		
d.	1.000		

PIDE AYUDA A TU APODERADO

LA ACTIVIDAD SE REALIZA TRANSCRIBIENDO EN EL CUADERNO DE ASIGNATURA DE MATEMÁTICA

DEBES ENVIAR UNA FOTO DE TU ACTIVIDAD A TU PROFESORA DE MATEMÁTICA





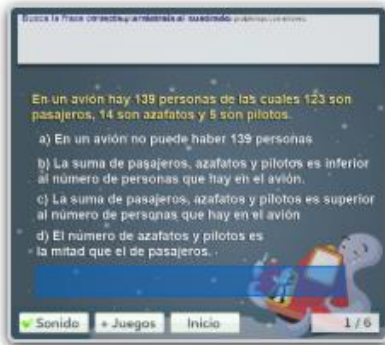
¡AHORA A JUGAR!

INGRESA AL LINK. JUEGA A RESOLVER PROBLEMAS DE ADICIÓN Y  
SUSTRACCIÓN:

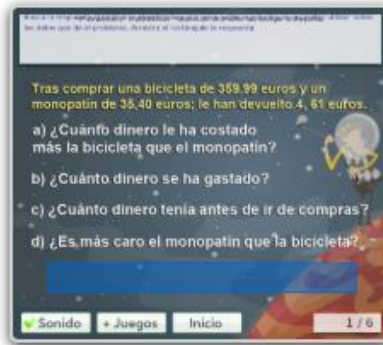
<https://www.mundoprimeria.com/juegos-educativos/juegos-matematicas/problemas/pro-cuarto>

<https://www.mundoprimeria.com/juegos-educativos/juegos-matematicas/problemas/pro-cuarto>

## Juegos de resolución de problemas 4º de primaria




Problemas con errores



Escoge la pregunta



Datos en carteles



PUEDES ESCOGER ENTRE VARIADOS JUEGOS Y SEGUIR LAS INSTRUCCIONES DE CADA UNO DE ELLOS



Colegio Aurora  
de Chile  
CORMUN RANCAGUA

¡ESPERAMOS QUE EJERCITES Y  
REFUERCES!  
¡UN ABRAZO CARIÑOSO A LA  
DISTANCIA!

