







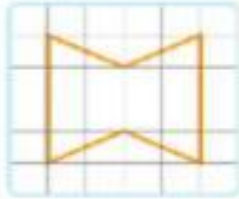





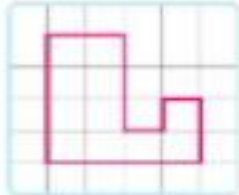

Hola queridos estudiantes: Espero se encuentren bien. Les envío los siguientes ejercicios para profundizar sus aprendizajes. Resuélvanlos en compañía de sus padres y, luego lo pegan en su cuaderno de Matemática. Un gran abrazo a todos.

Los extrañamos!!!!

NOMBRE : _____ CURSO: _____

Cálculo Mental Cuarto Básico Semana 28: 13 al 16 de octubre

1.- Pinta cada figura del lado derecho y luego reconocer si corresponde a una TRASLACIÓN, REFLEXIÓN o una ROTACIÓN.

| | | | |
|----|---|---|--|
| a) |  |  |  |
| b) |  |  |  |
| c) |  |  |  |
| d) |  |  |  |

Deberás enviar tu trabajo a mi correo para reporte a UTP.

anaveronica.maldonado@colegio-auroradechile.cl 4ºA

mayte.carrasco@colegio-auroradechile.cl 4ºB