


PROYECTO DE EJERCITACIÓN DE MATEMÁTICA AL HOGAR

SEMANA 23

3° BÁSICO

PROFESORA ENCARGADA DE
PROYECTO: MAYTE CARRASCO

Objetivo del proyecto: Mejorar el desempeño de los estudiantes en el manejo adecuado de los contenidos de matemática a través del desarrollo de guías de trabajo enviadas al hogar durante el año 2020 para potenciar la resolución de problemas en tareas escolares y en la vida diaria.

 **Recordar contenido**


PIDE AYUDA A TU APODERADO PARA LEER Y RECORDAR EL CONTENIDO DE MATEMÁTICA





Matemática al hogar – Semana 23

Nombre: _____ Curso: _____

1) Une cada cuerpo con su descripción:

Tiene 6 caras en total. 


Tiene 6 aristas. 

Tiene 5 vértices. 

2) Responde:

Si una pirámide tiene 8 aristas, ¿cuántas caras laterales tiene?

Tiene caras laterales.

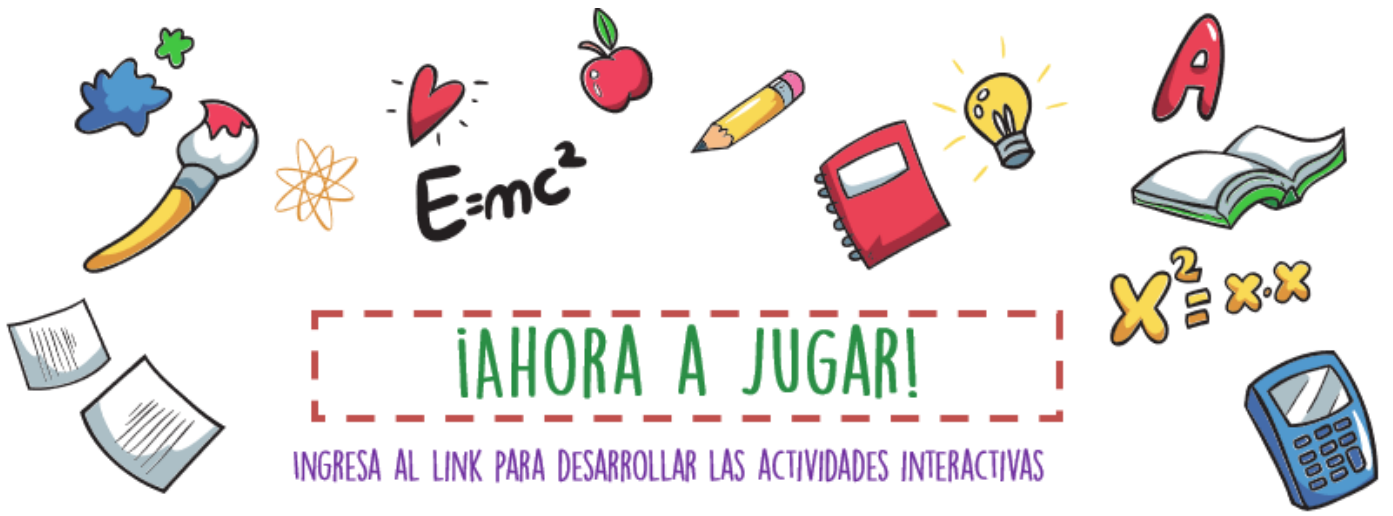
 **Realizar actividad**

PIDE AYUDA A TU APODERADO

DEBES ENVIAR TU TAREA A TRAVÉS DE LA PLATAFORMA CLASSROOM

PUEDES HACERLO EN TU CUADERNO O EN EL COMPUTADOR, EDITANDO ESTE DOCUMENTO





¡AHORA A JUGAR!

INGRESA AL LINK PARA DESARROLLAR LAS ACTIVIDADES INTERACTIVAS

<https://www.mundoprimeria.com/juegos-educativos/juegos-matematicas/juego-caras-figuras-geometricas>