



Colegio Aurora
de Chile
CORMUN RANCAGUA

SEMANA 14

PROYECTO DE EJERCITACIÓN DE MATEMÁTICA AL HOGAR

3° BÁSICO

PROFESORA ENCARGADA DE
PROYECTO: MAYTE CARRASCO
SEPÚLVEDA



The image features a central blue speech bubble containing text. Surrounding the bubble are six stylized, colorful cartoon faces of children with various features like glasses, hair, and clothing. The faces are arranged in a circle around the bubble, with some partially overlapping it.

OBJETIVO DEL PROYECTO

MEJORAR EL DESEMPEÑO DE LOS ESTUDIANTES EN EL MANEJO ADECUADO DE LOS CONTENIDOS DE MATEMÁTICA A TRAVÉS DEL DESARROLLO DE GUÍAS DE TRABAJO ENVIADAS AL HOGAR DURANTE EL AÑO 2020 PARA POTENCIAR LA RESOLUCIÓN DE PROBLEMAS EN TAREAS ESCOLARES Y EN LA VIDA DIARIA.



¡HOLA QUERIDOS NIÑOS Y NIÑAS!



ESPERAMOS SE ENCUENTREN MUY BIEN EN SUS HOGARES JUNTO A SUS FAMILIAS. LOS Y LAS EXTRAÑAMOS MUCHO.



EN ESTE PROYECTO DE EJERCITACIÓN DE MATEMÁTICA AL HOGAR, REALIZARÁN ACTIVIDADES ENTRETENIDAS PARA REFORZAR LOS CONTENIDOS DE LA ASIGNATURA.



DEBEN SEGUIR LAS INSTRUCCIONES DE LAS ACTIVIDADES Y JUEGOS ONLINE.

¿QUÉ NECESITAS PARA DESARROLLAR LA ACTIVIDAD DE ESTE PROYECTO?

LO QUE TENGAS EN CASA...



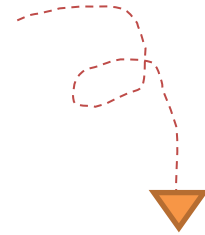
COMPUTADORA



TABLET



CELULAR



E
S
E
N
C
I
A
L



LÁPIZ DE MINA



GOMA DE BORRAR



CUADERNO DE ASIGNATURA DE MATEMÁTICA



UN LUGAR CÓMODO PARA ESTUDIAR

¿CÓMO LO HAREMOS?



RECORDAR CONTENIDO




OBSERVAR EJEMPLO



REALIZAR ACTIVIDAD



JUGAR ONLINE

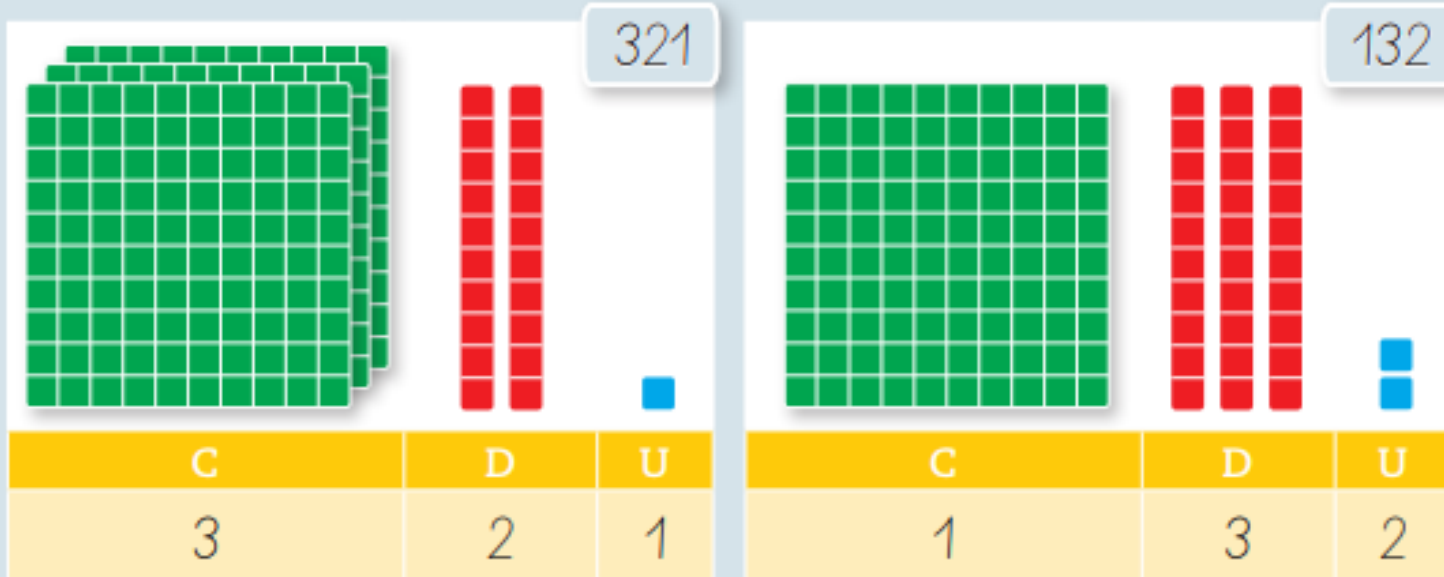




Recordar contenido



Los números 321 y 132 se formaron con los mismos dígitos, pero representan cantidades distintas.



El dígito **3** → en el número 321, se ubica en la centena y su valor posicional es 300.
→ en el número 132, se ubica en la decena y su valor posicional es 30.

El dígito **1** → en el número 321, se ubica en la unidad y su valor posicional es 1.
→ en el número 132, se ubica en la centena y su valor posicional es 100.



PIDE AYUDA A TU APODERADO PARA
LEER Y RECORDAR EL CONTENIDO DE
MATEMÁTICA



 **Observar ejemplo**



106

Posición

Centena

Valor posicional

100



Realizar actividad

Completa según el dígito destacado en cada número.

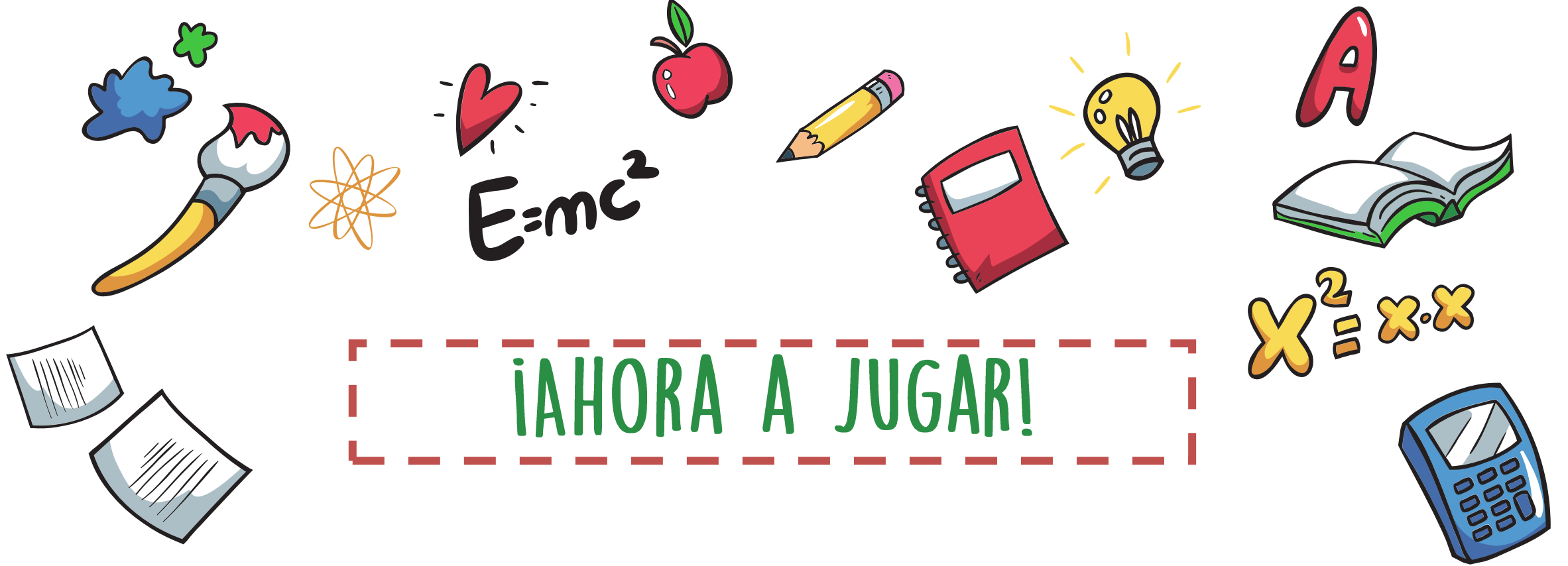
	Número	Posición	Valor posicional
a.	258		
b.	655		
c.	931		
d.	1.000		

PIDE AYUDA A TU APODERADO

LA ACTIVIDAD SE REALIZA TRANSCRIBIENDO EN EL CUADERNO DE ASIGNATURA DE MATEMÁTICA

DEBES ENVIAR UNA FOTO DE TU ACTIVIDAD A TU PROFESORA DE MATEMÁTICA






¡AHORA A JUGAR!

INGRESA AL LINK. JUEGA A IDENTIFICAR EL VALOR POSICIONAL:


<https://la.ixl.com/math/3-grado/modelos-de-valor-posicional-hasta-las-centenas>

<https://la.ixl.com/math/3-grado/modelos-de-valor-posicional-hasta-las-centenas>

¿Qué número es este?



Enviar



IDENTIFICA EL
VALOR POSICIONAL
A TRAVÉS DE LOS
DIBUJOS



Colegio Aurora
de Chile
CORMUN RANCAGUA

¡ESPERAMOS QUE EJERCITES Y
REFUERCES!
¡UN ABRAZO CARIÑOSO A LA
DISTANCIA!

