



Colegio Aurora  
de Chile  
CORMUN RANCAGUA

# PROYECTO DE EJERCITACIÓN DE MATEMÁTICA AL HOGAR



3º BÁSICO



¡HOLA QUERIDOS NIÑOS Y  
NIÑAS!



ESPERAMOS SE ENCUENTREN MUY BIEN EN SUS HOGARES JUNTO A SUS FAMILIAS. LOS Y LAS EXTRAÑAMOS MUCHO.



EN ESTE PROYECTO DE EJERCITACIÓN DE MATEMÁTICA AL HOGAR, REALIZARÁN ACTIVIDADES ENTRETENIDAS PARA REFORZAR LOS CONTENIDOS DE LA ASIGNATURA.



DEBEN SEGUIR LAS INSTRUCCIONES DE LAS ACTIVIDADES Y JUEGOS ONLINE.



# ¿QUÉ NECESITAS PARA DESARROLLAR LA ACTIVIDAD DE ESTE PROYECTO?

LO QUE TENGAS EN CASA...



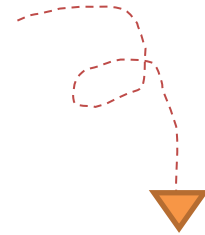
COMPUTADORA



TABLET



CELULAR



E  
S  
E  
N  
C  
I  
A  
L



LÁPIZ DE MINA



GOMA DE BORRAR



CUADERNO DE ASIGNATURA DE MATEMÁTICA



UN LUGAR CÓMODO PARA ESTUDIAR

# ¿CÓMO LO HAREMOS?



RECORDAR CONTENIDO




OBSERVAR EJEMPLO



REALIZAR ACTIVIDAD



JUGAR ONLINE





## Recordar contenido



Observa la resolución del siguiente problema

Ana María compró un yogur en \$ 560.

También compró un paquete de galletas que valía \$ 330 más que el yogur.

¿Cuál es el valor del paquete de galletas?

¿Cuánto dinero gastó en total Ana María?

### PASO 1

Identifica los datos y lo que se pregunta en el problema.

Dato 1: \$ 560 vale el yogur.

Dato 2: \$ 330 más que el yogur vale el paquete de galletas.

Preguntas: ¿Cuál es el valor del paquete de galletas?

¿Cuánto dinero gastó en total Ana María?



PIDE AYUDA A TU APODERADO PARA LEER Y RECORDAR EL CONTENIDO DE MATEMÁTICA

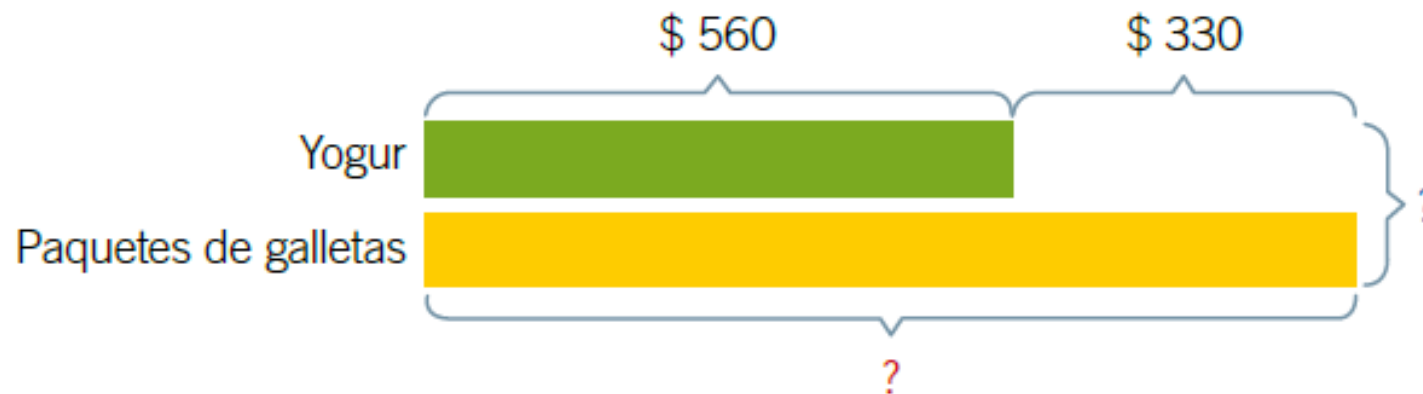


## Recordar contenido



**PASO 2**

Representa en un esquema los datos identificados.



PIDE AYUDA A TU APODERADO PARA LEER Y RECORDAR EL CONTENIDO DE MATEMÁTICA



## Recordar contenido



**PASO 3**

Escribe las operaciones y realiza los cálculos.

$$560 + 330 = 890$$

$$560 + 890 = 1.450$$



PIDE AYUDA A TU APODERADO PARA LEER Y RECORDAR EL CONTENIDO DE MATEMÁTICA



## Recordar contenido



**PASO 4**

Responde la pregunta.

Respuestas: El paquete de galletas vale \$ .

Ana María gastó en total \$ .



PIDE AYUDA A TU APODERADO PARA LEER Y RECORDAR EL CONTENIDO DE MATEMÁTICA





## Observar ejemplo



Si haces 43 caramelos para una fiesta y te comes 14, ¿cuántos caramelos quedan?



**Esquema:**

**Comí 14**

**¿Quedan?**

43 caramelos total

**Cálculo:**

$$43 - 14 = 29$$

**Respuesta:**


Quedan 29 caramelos para comer en la fiesta.



## Realizar actividad

**Resuelve los problemas utilizando el esquema:**

1. Si tienes 49 piezas de chocolate y regalas 24, ¿cuántas piezas te quedan?



2. Si ves 36 mariposas en el jardín y 11 más se unen al grupo, ¿cuántas mariposas hay en total?



PIDE AYUDA A TU APODERADO

LA ACTIVIDAD SE REALIZA TRANSCRIBIENDO EN EL CUADERNO DE ASIGNATURA DE MATEMÁTICA

DEBES ENVIAR UNA FOTO DE TU ACTIVIDAD A TU PROFESORA DE MATEMÁTICA





¡AHORA A JUGAR!

INGRESA AL LINK. JUEGA A RESOLVER PROBLEMAS MATEMÁTICOS:

<https://www.mundoprimary.com/juegos-educativos/juegos-matematicas/juego-eleccion-operaciones>

PUEDES CONSULTAR LAS SIGUIENTES DIAPOSITIVAS PARA OBSERVAR EL FUNCIONAMIENTO DEL JUEGO

<https://www.mundoprimeria.com/juegos-educativos/juegos-matematicas/juego-eleccion-operaciones>

Un equipo de rugby cuenta al iniciar el partido con 15 jugadoras. Antes de finalizar han expulsado a 3. ¿Con cuántas jugadoras ha terminado el equipo?

a)  $15 + 3$

b)  $15 - 3$



ESCOGE LA  
ALTERNATIVA CORRECTA

✔ Sonido

+ Juegos

Inicio

1 / 6



Colegio Aurora  
de Chile  
CORMUN RANCAGUA

¡ESPERAMOS QUE EJERCITES Y  
REFUERCES!  
¡UN ABRAZO CARIÑOSO A LA  
DISTANCIA!

