

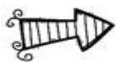
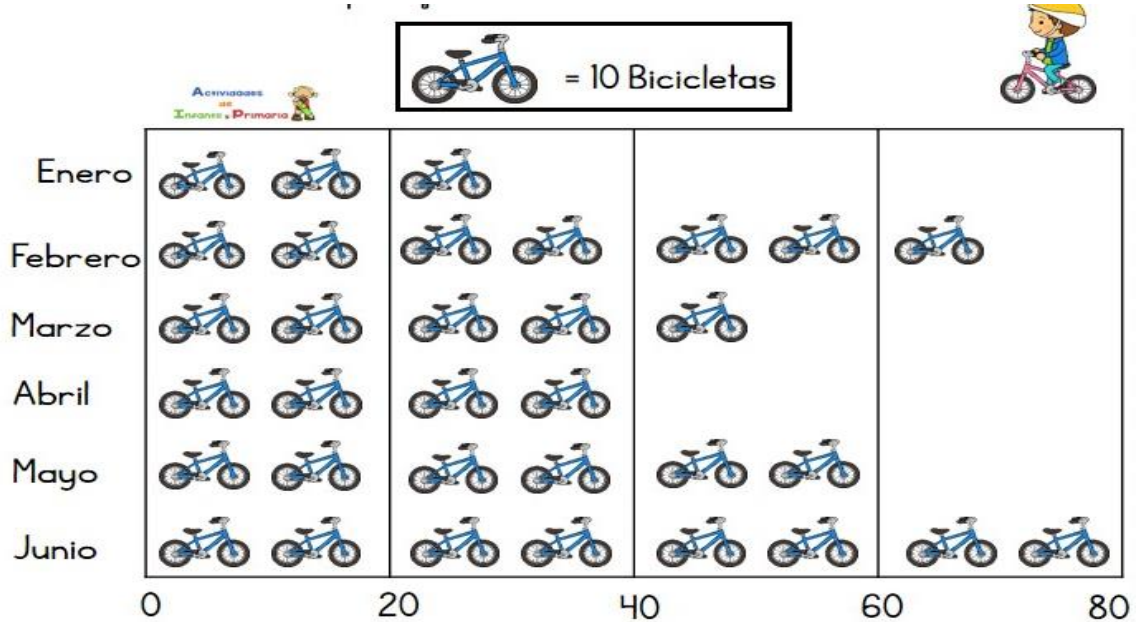


Hola queridos estudiantes: Espero se encuentren bien. Les envío los siguientes ejercicios para profundizar sus aprendizajes. Resuélvanlos en compañía de sus padres y, luego lo pegan en su cuaderno de Matemática. Un gran abrazo a todos.

Cálculo Mental Tercero Básico Semana 35: 30 al 4 de diciembre

NOMBRE: _____ CURSO: _____

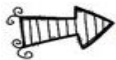
1.- Observa el siguiente pictograma y responde.



¿Cuántas bicicletas se han vendido cada mes?

<input type="text"/>	<input type="text"/>	<input type="text"/>	<input type="text"/>	<input type="text"/>	<input type="text"/>
----------------------	----------------------	----------------------	----------------------	----------------------	----------------------


enero febrero marzo abril mayo junio



¿Cuántas bicicletas se han vendido en total entre abril y mayo?

Se han vendido _____ bicicletas

<input type="text"/>	<input type="text"/>
<input type="text"/>	<input type="text"/>



¿Cuántas bicicletas se han vendido más en junio que en enero?

Se han vendido _____ bicicletas más

<input type="text"/>	<input type="text"/>
<input type="text"/>	<input type="text"/>

Deberás enviar la actividad a tu Profesora Jefe.