



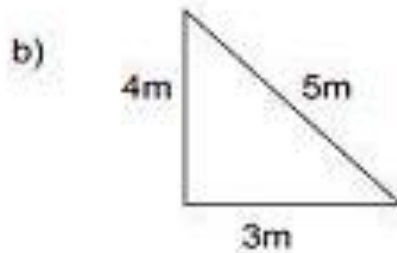
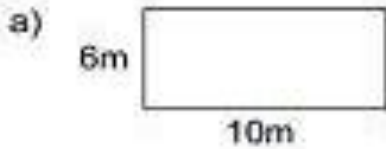
Hola queridos estudiantes: Espero se encuentren bien. Les envío los siguientes ejercicios para profundizar sus aprendizajes. Resuélvanlos en compañía de sus padres y, luego lo pegan en su cuaderno de Matemática. Un gran abrazo a todos.

Cálculo Mental Tercero Básico Semana 28: 13 al 16 de octubre

NOMBRE: _____ CURSO: _____

1.- Indica el perímetro de las siguientes figuras.

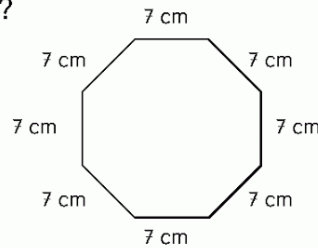
1.-



2.-

¿Cuál es el perímetro de esta figura?

- (A) 77 cm
- (B) 63 cm
- (C) 56 cm
- (D) 28 cm



Deberás enviar la actividad a tu Profesora Jefe.