




Colegio Aurora
de Chile
CORMUN RANCAGUA

Historia

NO
IMPRIMIR



- Material semana 26 - 3° básico.
- Profesoras:
 - Yessenia Ibarra
 - Michelle Cabello
- Colegio Aurora de Chile
- Rancagua



¡BIENVENIDOS!

Queridos Estudiantes: Esperamos estén muy bien en sus casas. Seleccionamos las actividades de ésta clase con mucha dedicación para que puedan aprender en sus hogares.

¡Los extrañamos y queremos mucho!



¿Qué necesitas para desarrollar esta clase?


Lo que tengas en casa...



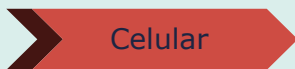
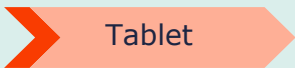
Computadora



Tablet



Celular



E
S
E
N
C
I
A
L



Lápiz de mina



Lápiz rojo para mayúsculas



Goma de borrar



Cuaderno de asignatura

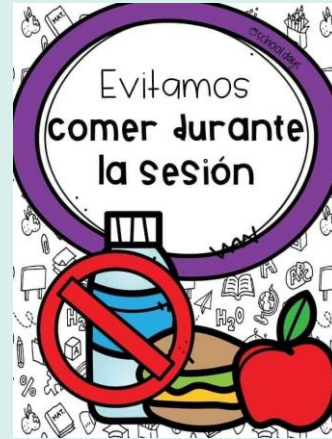



Texto escolar



Un lugar cómodo para estudiar

Normas de trabajo virtual



¡Iniciemos la clase!



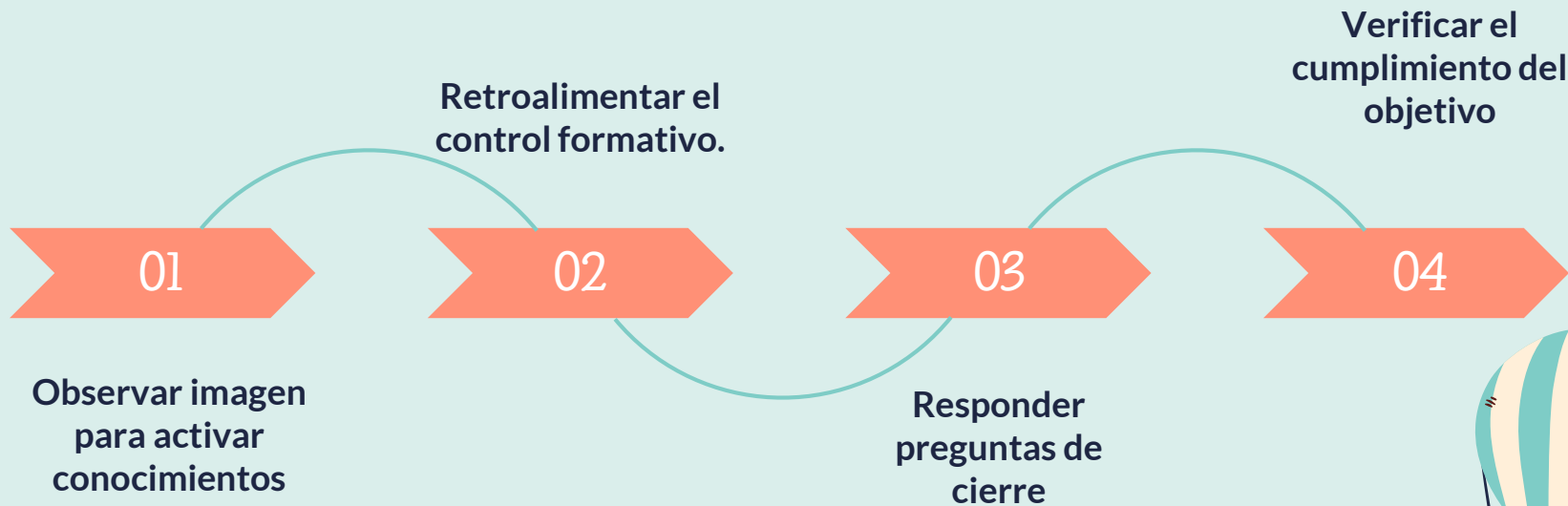
¿Qué hicieron los niños d 3° básico la semana pasada?

Objetivo de la clase

Revisar y retroalimentar el cuarto control formativo mediante apoyo visual.



Ruta de aprendizaje ¿Qué haremos hoy?



1- Observa el siguiente planisferio. ¿En qué continente se ubicaban griegos y romanos de la antigüedad?



- América
- Europa
- África
- Asia



Observa el siguiente mapa y responde las preguntas 2, 3 y 4.



2- ¿Qué mares rodean la península balcánica? *

Mediterráneo y Mar negro.

Mar Tirreno, Mar Jónico y Mar Adriático.

Mar Egeo y Mar Jónico.

Mar Tirreno y Mar Negro.

3- ¿En qué península se ubicaron principalmente los romanos de la antigüedad?

Península Mediterránea

Península balcánica

Península itálica

Península ibérica


4- ¿Cuál fue el mar más importante para griegos y romanos de la antigüedad?

Mar Mediterráneo

Mar Negro


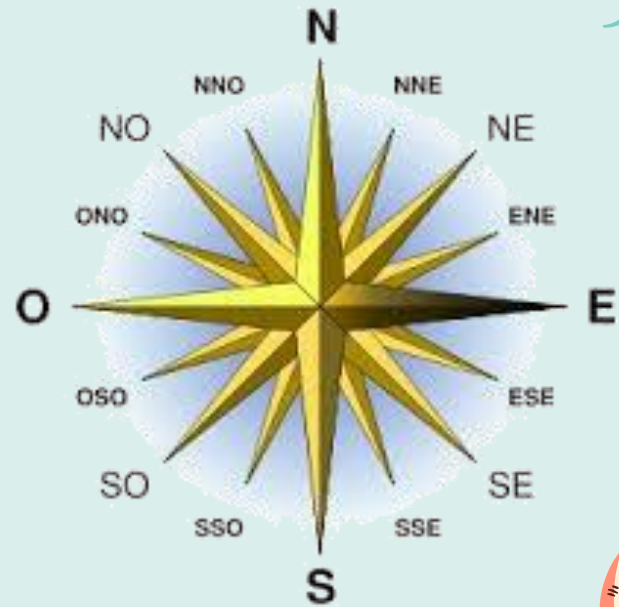
Mar Egeo

Mar Muerto



5- ¿Con qué continente limita Europa al este? *

- África
- Asia
- Oceanía
- Antártida



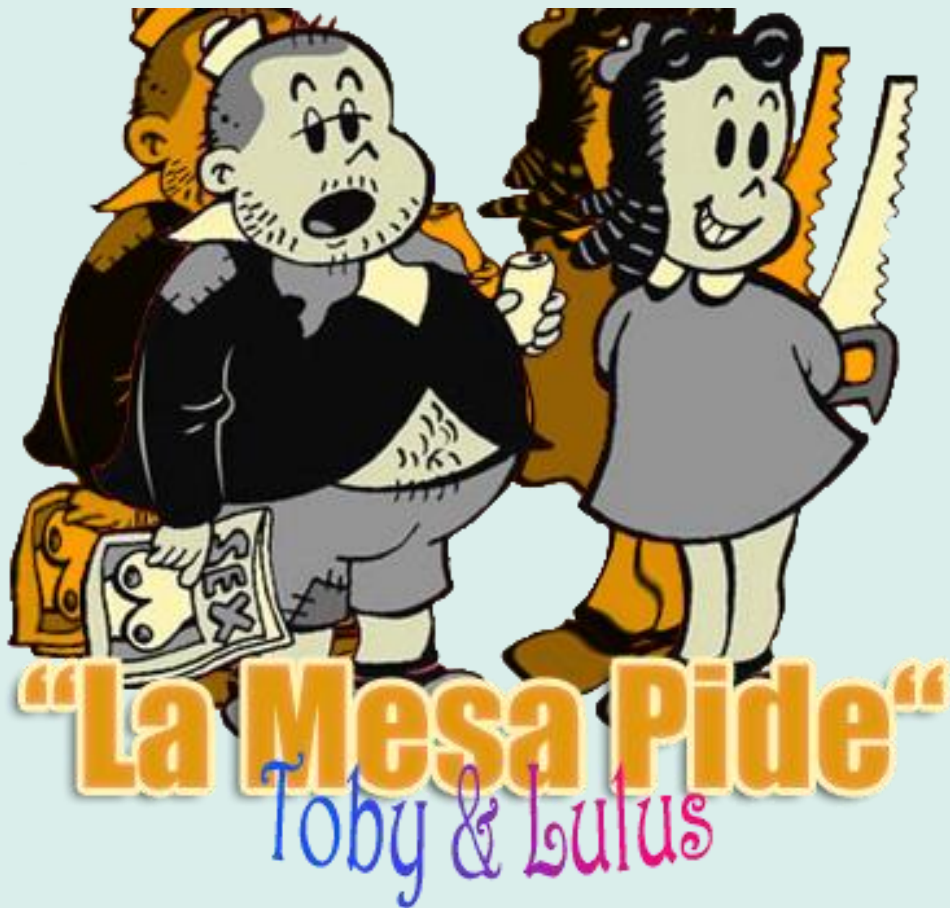
6- ¿Cuáles son las principales comidas de griegos y romanos de la antigüedad?

- Vino, olivo (aceite y aceitunas), cereales (trigo y cebada), queso y pescado.
- Cereales (trigo y avena), pan y verduras.
- Carne de vacuno, aceitunas y vino.
- Pescado, frutas y leche de vaca.



Recreo
Cerebral

¿CÓMO
TE FUE?



8- El Mar Mediterráneo fue fundamental para el desarrollo de la vida de griegos y romanos.
¿De qué manera utilizaron los beneficios que les otorgaba el Mar Mediterráneo?



- Para obtener parte de sus alimentos como pescado y mariscos.
- Para realizar actividades comerciales e, incluso, para la guerra.
- Para intercambiar productos con pueblos vecinos
- Todas las anteriores.



8- Los hombres griegos, llevaban una túnica que podía ser larga o corta. Esta se sujetaba en uno o los dos hombros con un nudo o un alfiler metálico. Además, solían usar un cinturón de cuero y una manta corta y gruesa o un manto de lana sobre sus hombros. Las mujeres usaban un vestido de lana que afirmaban con alfileres de metal, también sobre sus hombros, llevaban un manto. De acuerdo al texto ¿cuál de las siguientes afirmaciones es correcta?



- En la actualidad solo ha cambiado la vestimenta de los hombres.
- La vestimenta descrita, sólo la usaban en otoño.
- La vestimenta de hombres y mujeres era muy sencilla fabricada principalmente de lana.
- La vestimenta de hombres y mujeres era de color blanco.



9- Al igual que hoy, las personas del pasado tenían diversos oficios que les permitían subsistir y mantener a sus familias. Además de médicos, herreros, políticos, soldados y campesinos, en Grecia y Roma había arquitectos, artesanos, músicos y marinos, entre otras ocupaciones. ¿Qué actividades realizaban principalmente las mujeres en Grecia y Roma?



- Se dedicaban a la medicina.
- Iban a escuelas para ser grandes soldados.
- Realizaban las actividades del hogar y educar a sus hijos e hijas, tejían y confeccionaban las vestimentas.
- Se trasladaban mediante embarcaciones para intercambiaban productos con los otros pueblos.



10- ¿Qué diferencias existen entre los oficios de griegos y romanos y los del presente? *



- En la actualidad no existen diferencias.
- En la actualidad los oficios pueden ser realizados por hombres y mujeres.
- En la actualidad ya no existen los oficios.
- En la actualidad los oficios son realizados por los niños.

11- ¿Qué factor geográfico influyó en el desplazamiento y la comunicación de un lugar a otro entre las polis de la antigua Grecia?

- El relieve montañoso.
- El relieve plano.
- El relieve marítimo.
- Ninguna de las anteriores.

12- Una de las características de la Antigua Grecia y Roma, era su religión politeísta. ¿Qué significaba eso?

- Que creían en un solo dios.
- Que creían en muchos dioses.
- Que creían en la madre naturaleza.
- Que NO creían en dioses.

¿Cómo te sentiste realizando el control formativo? ¿Qué fue lo que más te costó y qué fue lo más fácil?



¡Cerramos la clase!

¡Wauu! Tú si que
sabes mucho



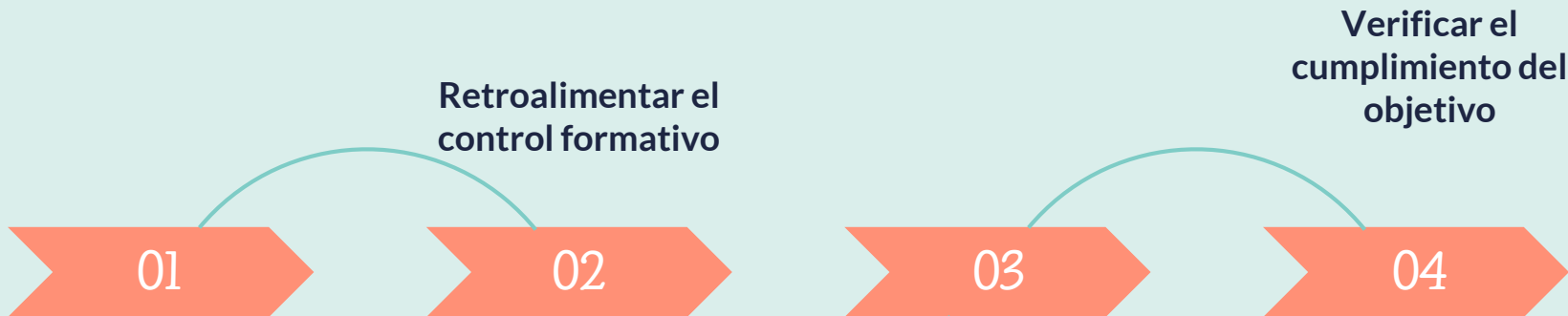
1. ¿Qué continente está al sur de Europa?

- A. América.
- B. África.
- C. Asia.
- D. Ninguna de las anteriores.

2. ¿Cuáles son las principales comidas de griegos y romanos de la antigüedad?

- A. Vino, olivo, cereales (trigo y cebada), queso y pescado..
- B. Cereales y pescado
- C. Carne de vacuno, olivo y vino.
- D. Pescado, frutas y leche de vaca.

Ruta de aprendizaje ¿Qué hicimos hoy?



Observar imagen
para activar
conocimientos

Retroalimentar el
control formativo

Responder
preguntas de
cierre

Verificar el
cumplimiento del
objetivo



Cuéntale a tu
apoderado qué
aprendiste





**Colegio Aurora
de Chile**
CORMUN RANCAGUA

Te mandamos un gran abrazo y
nos vemos pronto.



**Mantengamos
las distancias**

ENSEÑANZA CENTRADA EN LA CALIDAD, AMOR Y DISCIPLINA