



Colegio Aurora  
de Chile  
CORMUN RANCAGUA

# Historia

NO IMPRIMIR




Material semana 21 - 3° básico.

Profesoras:

- Yessenia Ibarra
- Michelle Cabello

Colegio Aurora de Chile

Rancagua



# ¡BIENVENIDOS!



Queridos Estudiantes: Esperamos estén muy bien en sus casas. Seleccionamos las actividades de ésta clase con mucha dedicación para que puedan aprender en sus hogares.


¡Los extrañamos y queremos mucho!



# Normas de trabajo virtual

Somos puntuales en los horarios de conexión.



 Normas trabajo Virtual

Pedimos ayuda a un adulto de ser necesario.



 Normas trabajo Virtual

Participamos activamente del encuentro de aprendizaje.



 Normas trabajo Virtual

Escucho con atención y respeto a quien habla.



 Normas trabajo Virtual

Mantenemos al alcance el material de la clase que corresponda.



 Normas trabajo Virtual

Silenciar micrófono cuando la profesora hable

Estudiamos y hacemos las actividades antes del encuentro.



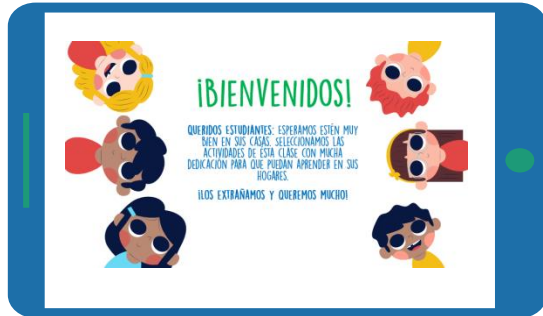
 Normas trabajo Virtual

# ¿Qué necesitas para desarrollar esta clase?

Lo que tengas en casa...



Computad



Tablet



Celula

E  
S  
E  
N  
C  
I  
A  
L



Lápiz de mina



Lápiz rojo para mayúsculas



Goma de borrar



Cuaderno de asignatura





Texto escolar



Un lugar cómodo para estudiar

# ¡Iniciemos la clase!

## LA EDAD ANTIGUA: GRIEGOS Y ROMANOS



¿De qué se tratará nuestra clase?

Escribir en cuaderno de  
asignatura

**O**bjetivo de la clase:

**R**evisar y retroalimentar el segundo control formativo para desarrollar la metacognición mediante apoyo visual.



# Ruta de aprendizaje, ¿qué haremos hoy?

Observar imagen para activar conocimientos.


Retroalimentar la evaluación formativa

Verificar el cumplimiento del objetivo de la clase.



Lee la ruta de aprendizaje para que conozcas qué actividades realizarás en la clase para lograr el objetivo

1- Observa el siguiente planisferio. ¿En qué continente se ubicaban griegos y romanos de la antigüedad?



- América
- Europa
- África
- Asia



Observa el siguiente mapa y responde las preguntas 2, 3, 4 y 5.



2- ¿Qué mares rodean la península itálica? \*

- Mediterráneo y Mar negro.
- Mar Tirreno, Mar Jónico y Mar Adriático.
- Mar Egeo y Mar Jónico.
- Mar Tirreno y Mar Negro.



3- ¿En qué península se ubicaron principalmente los griegos de la antigüedad? \*

- Península Mediterránea
- Península balcánica
- Península itálica
- Península ibérica




4- ¿Cuál fue el mar más importante para griegos y romanos de la antigüedad? \*

- Mar Mediterráneo
- Mar Negro
- Mar Egeo
- Mar Muerto




5- ¿Con qué continentes limita Europa? \*

- África y América
- África y Asia
- Asia y Oceanía
- Asia y Antártida




6- ¿Qué medios de transporte utilizaban griegos y romanos de la antigüedad? \*



- Barcos y carretas.
- Autos y aviones.
- Barcos y autos.
- Carretas y aviones.



# Recreo Cerebral



7- ¿Cuáles son las principales comidas de griegos y romanos de la antigüedad? \*

- Vino, olivo (aceite y aceitunas), cereales (trigo y cebada), queso y pescado.
- Cereales (trigo y avena) y verduras.
- Carne de vacuno, olivo (aceitunas) y vino.
- Pescado, frutas y leche de vaca.


---

8- El Mar Mediterráneo fue fundamental para el desarrollo de la vida de griegos y romanos. ¿De qué manera utilizaron los beneficios que les otorgaba el Mar Mediterráneo?

- Para obtener parte de sus alimentos como pescado y mariscos.
- Para realizar actividades comerciales e, incluso, para la guerra.
- Para intercambiar productos con pueblos vecinos
- Todas las anteriores.



9- Los hombres griegos, llevaban una túnica que podía ser larga o corta. Esta se sujetaba en uno o los dos hombros con un nudo o un alfiler metálico. Además, solían usar un cinturón de cuero y una manta corta y gruesa o un manto de lana sobre sus hombros. Las mujeres usaban un vestido de lana que afirmaban con alfileres de metal, también sobre sus hombros, llevaban un manto. De acuerdo al texto ¿cuál de las siguientes afirmaciones es correcta? \*



- La vestimenta de hombres y mujeres griegos, es la misma que se usa en la actualidad.
- La vestimenta descrita, sólo la usaban en otoño.
- La vestimenta de hombres y mujeres era muy sencilla fabricada principalmente de lana.
- La vestimenta de hombres y mujeres era de color blanco.



10- Al igual que hoy, las personas del pasado tenían diversos oficios que les permitían subsistir y <sup>\*</sup> mantener a sus familias. Además de médicos, herreros, políticos, soldados y campesinos, en Grecia y Roma había arquitectos, artesanos, músicos y marinos, entre otras ocupaciones. ¿Qué actividades realizaban principalmente las mujeres en Grecia y Roma?

- Se dedicaban a la medicina.
- Iban a escuelas para ser grandes soldados.
- Realizaban las actividades del hogar y educar a sus hijos e hijas, tejían y confeccionaban las vestimentas.
- Se trasladaban mediante embarcaciones para intercambiaban productos con los otros pueblos.





11- ¿Qué diferencias existen entre los oficios de griegos y romanos y los del presente? \*



- En la actualidad no existen diferencias.
- En la actualidad los oficios pueden ser realizados por hombres y mujeres.
- En la actualidad ya no existen los oficios.
- En la actualidad los oficios son realizados por los niños.



# ¿Cómo te sentiste realizando la evaluación formativa?



# Revisa la ruta de aprendizaje... ¿Qué hiciste hoy?

Observar imagen para activar conocimientos.

Retroalimentar la evaluación formativa

Verificar el cumplimiento del objetivo de la clase.



Cuéntale a tu apoderado qué aprendiste



**Colegio Aurora  
de Chile**  
CORMUN RANCAGUA

Te mandamos un gran abrazo y  
nos vemos pronto.



**¡Excelente trabajo!**



**ENSEÑANZA CENTRADA EN LA CALIDAD, AMOR Y DISCIPLINA**