


PROYECTO DE EJERCITACIÓN DE MATEMÁTICA AL HOGAR

SEMANA 23

2º BÁSICO





PROFESORA ENCARGADA DE
PROYECTO: MAYTE CARRASCO

Objetivo del proyecto: Mejorar el desempeño de los estudiantes en el manejo adecuado de los contenidos de matemática a través del desarrollo de guías de trabajo enviadas al hogar durante el año 2020 para potenciar la resolución de problemas en tareas escolares y en la vida diaria.

 **Recordar contenido**



Las figuras geométricas pueden ser descritas a partir de sus elementos. En este caso, la descripción se hace de acuerdo con sus lados y sus vértices.

<p>Cuadrado</p>  <p>Tiene 4 lados de igual medida. Tiene 4 vértices.</p>	<p>Rectángulo</p>  <p>Tiene 4 lados. Los lados enfrentados son de igual medida. Tiene 4 vértices.</p>
<p>Círculo</p>  <p>No tiene lados. No tiene vértices.</p>	<p>Triángulo</p>  <p>Tiene 3 lados. Tiene 3 vértices.</p>






PIDE AYUDA A TU APODERADO PARA LEER Y RECORDAR EL CONTENIDO DE MATEMÁTICA


Matemática al hogar – Semana 23

Nombre: _____ Curso: _____

1) Descubrir:


Descubre la figura en la que están pensando  y . Escribe su nombre.

a.  Es una figura de 4 lados y todos ellos de igual medida.
Respuesta ►

b.  Es una figura que no tiene lados.
Respuesta ►

2) Dibuja la respuesta:

¿Con qué figuras geométricas podrías construir un cuadrado?

 **Realizar actividad**

PIDE AYUDA A TU APODERADO

DEBES ENVIAR TU TAREA A TRAVÉS DE LA PLATAFORMA CLASSROOM

PUEDES HACERLO EN TU CUADERNO O EN EL COMPUTADOR, EDITANDO ESTE DOCUMENTO





<https://www.mundoprimeria.com/juegos-educativos/juegos-matematicas/juego-lados-y-vertices>