



Colegio Aurora
de Chile
CORMUN RANCAGUA

SEMANA 16

PROYECTO DE EJERCITACIÓN DE MATEMÁTICA AL HOGAR

2º BÁSICO

PROFESORA ENCARGADA DE
PROYECTO: MAYTE CARRASCO
SEPÚLVEDA



The image features six stylized, cartoonish faces of children of various ethnicities and ages arranged around a central blue speech bubble. The children include a blonde girl with a red bow, a boy with a red beard and glasses, a girl with dark hair and glasses, a girl with dark hair and a blue headband, and a boy with dark hair and a yellow shirt. The central bubble contains the project's objective in Spanish.

OBJETIVO DEL PROYECTO


MEJORAR EL DESEMPEÑO DE LOS ESTUDIANTES EN EL MANEJO ADECUADO DE LOS CONTENIDOS DE MATEMÁTICA A TRAVÉS DEL DESARROLLO DE GUÍAS DE TRABAJO ENVIADAS AL HOGAR DURANTE EL AÑO 2020 PARA POTENCIAR LA RESOLUCIÓN DE PROBLEMAS EN TAREAS ESCOLARES Y EN LA VIDA DIARIA.



¡HOLA QUERIDOS NIÑOS Y NIÑAS!



ESPERAMOS SE ENCUENTREN MUY BIEN EN SUS HOGARES JUNTO A SUS FAMILIAS. LOS Y LAS EXTRAÑAMOS MUCHO.



EN ESTE PROYECTO DE EJERCITACIÓN DE MATEMÁTICA AL HOGAR, REALIZARÁN ACTIVIDADES ENTRETENIDAS PARA REFORZAR LOS CONTENIDOS DE LA ASIGNATURA.



DEBEN SEGUIR LAS INSTRUCCIONES DE LAS ACTIVIDADES Y JUEGOS ONLINE.

¿QUÉ NECESITAS PARA DESARROLLAR LA ACTIVIDAD DE ESTE PROYECTO?

LO QUE TENGAS EN CASA...



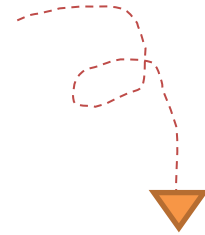
COMPUTADORA



TABLET



CELULAR



E
S
E
N
C
I
A
L



LÁPIZ DE MINA



GOMA DE BORRAR



CUADERNO DE ASIGNATURA DE MATEMÁTICA



UN LUGAR CÓMODO PARA ESTUDIAR

¿CÓMO LO HAREMOS?



RECORDAR CONTENIDO




OBSERVAR EJEMPLO



REALIZAR ACTIVIDAD



JUGAR ONLINE





Recordar contenido



Las adiciones y las sustracciones se pueden resolver utilizando diversos algoritmos.

Se suman o restan las cifras ubicadas en la misma posición.

Siempre se debe comenzar sumando o restando las cifras de la unidad.

$$\begin{array}{|c|c|} \hline \mathbf{D} & \mathbf{U} \\ \hline 2 & 5 \\ \hline + & 2 & 3 \\ \hline 4 & 8 \\ \hline \end{array} \quad \downarrow$$

$$\begin{array}{|c|c|} \hline \mathbf{D} & \mathbf{U} \\ \hline 2 & 8 \\ \hline - & 1 & 2 \\ \hline 1 & 6 \\ \hline \end{array} \quad \downarrow$$



PIDE AYUDA A TU APODERADO PARA LEER Y RECORDAR EL CONTENIDO DE MATEMÁTICA



 **Observar ejemplo**



RECUERDA
SIEMPRE REALIZAR
LAS ADICIONES Y
SUSTRACCIONES DE
FORMA VERTICAL
PARTIENDO DESDE
LA UNIDAD

	D	U
	3	2
+	1	2
<hr/>		
	4	4



	D	U
	5	7
-	1	5
<hr/>		
	4	2



Matemática al hogar – Semana 16

Nombre: _____ Curso: _____

Resuelve las adiciones y sustracciones:



	D	U
	5	7
+	4	2



	D	U
	6	3
+	1	2

	D	U
	9	9
-	8	8

	D	U
	8	9
-	7	7

Resuelve el problema:

En el jardín de mamá hay  y .

Si hay 30  y 19 , ¿cuántas flores hay en total?



Realizar actividad

PIDE AYUDA A TU
APODERADO

LA ACTIVIDAD SE REALIZA
TRANSCRIBIENDO EN EL
CUADERNO DE ASIGNATURA
DE MATEMÁTICA

DEBES ENVIAR UNA FOTO DE TU
ACTIVIDAD A TU PROFESORA DE
MATEMÁTICA

ASÍ DEBE
QUEDAR EN
TU CUADERNO





¡AHORA A JUGAR!

INGRESA A LOS LINKS. JUEGA A DESARROLLAR LAS ADICIONES Y SUSTRACCIONES:

<https://www.cokitos.com/mates-divertidas/play/>

PUEDES CONSULTAR LAS SIGUIENTES DIAPOSITIVAS PARA OBSERVAR EL FUNCIONAMIENTO DEL JUEGO

<https://www.cokitos.com/mates-divertidas/play/>



PUEDES ESCOGER
LAS ADICIONES O
SUSTRACCIONES
PARA JUGAR.



Colegio Aurora
de Chile
CORMUN RANCAGUA

¡ESPERAMOS QUE EJERCITES Y
REFUERCES!
¡UN ABRAZO CARIÑOSO A LA
DISTANCIA!

