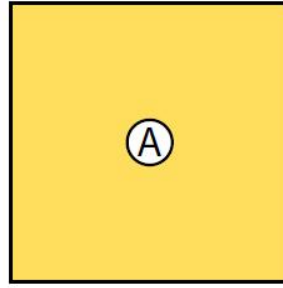


GUIA DE TRABAJO CLASE 1 - EDUCACIÓN MATEMÁTICA SEGUNDOS BÁSICOS - SEMANA 23


5 ¿Cuál es la diferencia entre el rectángulo y la figura (A)?



¿En qué se parecen?



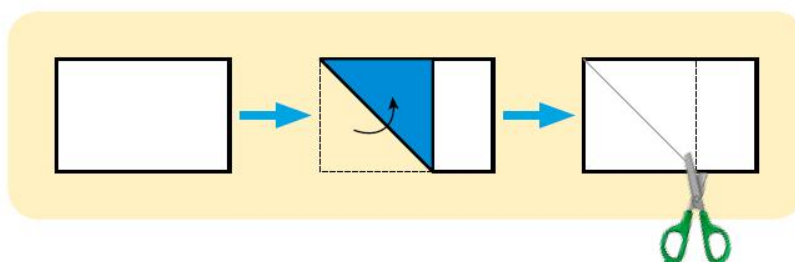
Un cuadrilátero que tiene 4 lados de igual longitud y 4 esquinas "iguales" se llama "cuadrado".



6 Busquemos objetos con forma de cuadrado.



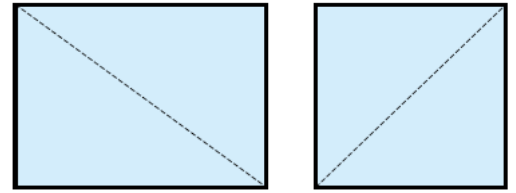
7 Transformemos un rectángulo en cuadrado.



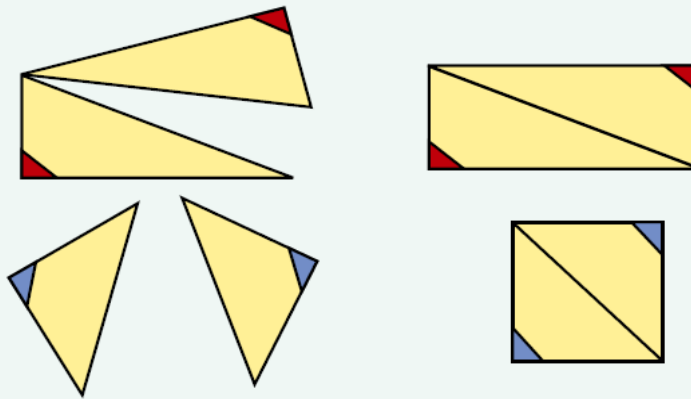
Más triángulos

- 1** Cortemos rectángulos y cuadrados por las líneas punteadas.

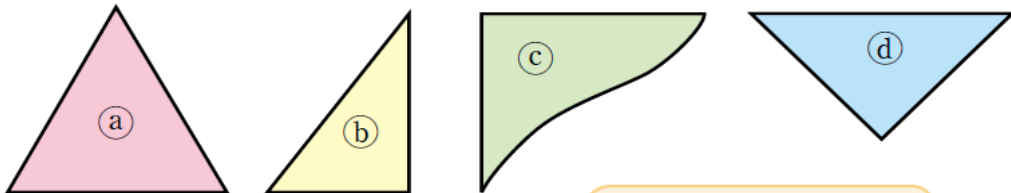
Pensemos en la forma de las esquinas.



Con estos triángulos podemos formar cuadrados y rectángulos.



- 2** ¿Podemos formar cuadrados o rectángulos usando dos triángulos de cada tipo?



¿Puedes adivinarlo antes de probar?



