



Colegio Aurora
de Chile
CORMUN RANCAGUA

**NO
IMPRIMIR**

Matemática

Material semana 14 - 2° básico.

Profesoras:

Daniela Cordero Chacana

Lina Vidal Valenzuela

Colegio Aurora de Chile

Rancagua

¡Hola queridos alumnos
y alumnas!



¡Bienvenidos!

Queridos Estudiantes: Esperamos
estén muy bien en sus casas.
Seleccionamos las actividades de ésta
clase con mucha dedicación para que
puedan aprender en sus hogares.

¡Los extrañamos y queremos mucho!



¡Los extrañamos!



¿Qué necesitas para desarrollar esta clase?



Lápiz de mina



Goma de borrar



Cuaderno de asignatura



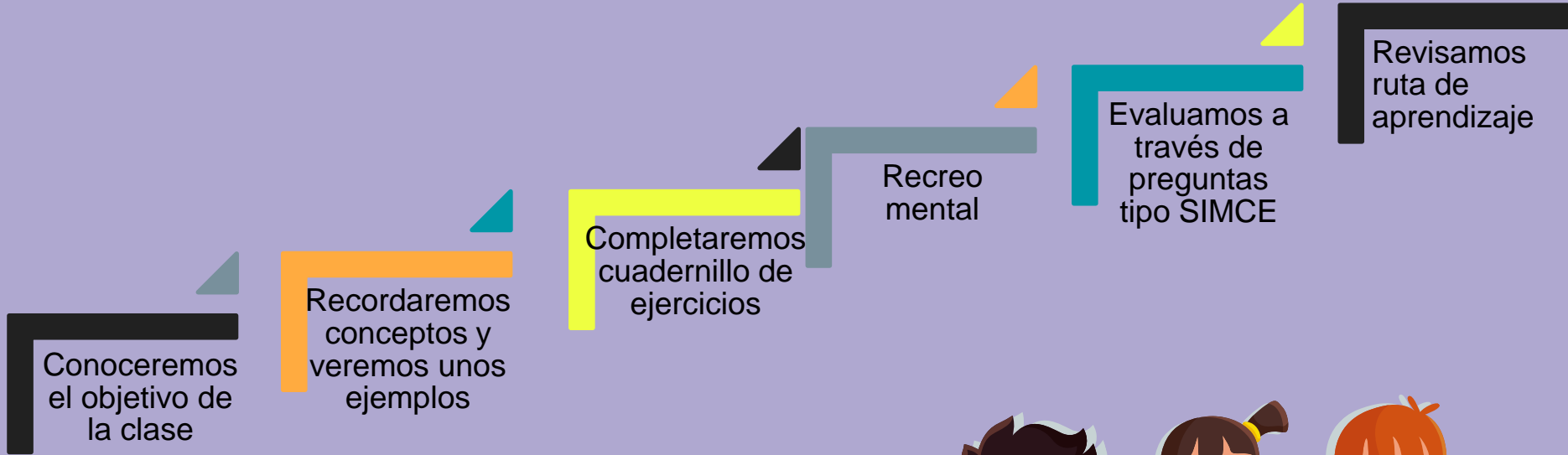
Cuaderno de actividades



Un lugar cómodo para estudiar



Ruta de aprendizaje



Lee la ruta de aprendizaje para que conozcas qué actividades realizarás en la clase para lograr el objetivo

Escribir en cuaderno de
asignatura

Objetivo:

Resolver ejercicios de adición y sustracción en
situaciones cotidianas.



Recordemos



Cómo sumar $13+24$ usando la forma vertical

$$\begin{array}{|c|c|} \hline 1 & 3 \\ \hline + & 2 & 4 \\ \hline \end{array}$$



$$\begin{array}{|c|c|} \hline 1 & 3 \\ \hline + & 2 & 4 \\ \hline 3 & 7 \\ \hline \end{array}$$

$$1+2=3$$

$$3+4=7$$

Alinea los números de acuerdo a su valor posicional.

Suma los números en el lugar de las unidades, y los números en el lugar de las decenas.

Recordemos



Cómo restar $38-12$ usando la forma vertical

$$\begin{array}{|c|c|} \hline 3 & 8 \\ - & 1 & 2 \\ \hline & & \\ \hline \end{array}$$



$$\begin{array}{|c|c|} \hline 3 & 8 \\ - & 1 & 2 \\ \hline 2 & 6 \\ \hline \end{array}$$


$$3 - 1 = 2$$

$$8 - 2 = 6$$

Escribe los números en cada columna.

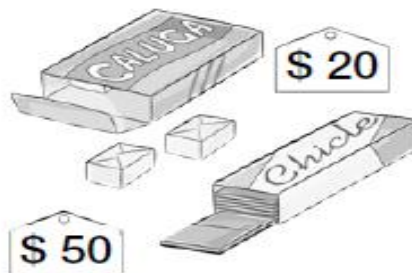
Resta los números en la misma columna.

Ahora que ya recordamos las adiciones y las sustracciones comenzaremos a trabajar en el **cuaderno de actividades**.





- 1** Compré calugas por 20 pesos y chicles por 50 pesos. ¿Cuánto pagué en total?



$$\square + \square = \square$$

Respuesta: pesos.



2 Inventa sumas.

$$\square + \square = 90$$

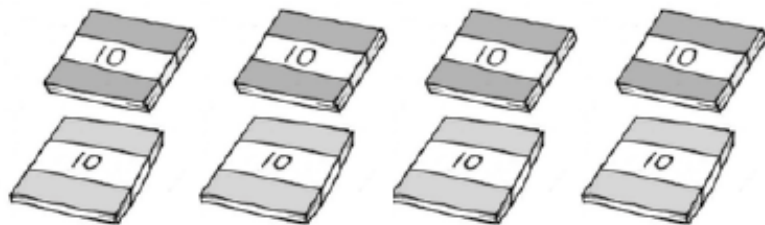
$$\square + \square = 100$$

$$\square + \square = 70$$

$$\square + \square = 80$$



3 De 80 hojas de colores usé 30.
¿Cuántas me quedan?



$$\square - \square = \square$$

Respuesta: hojas.



4 Inventa restas para estos resultados.

$$\square - \square = 10$$

$$\square - \square = 40$$

$$\square - \square = 30$$

$$\square - \square = 80$$



5 Hernán compra 4 hojas chicas y 4 hojas grandes de papel.
Una hoja chica vale \$5, una grande vale \$10.
El tiene una moneda de \$50 y tres monedas de \$10
Después de pagar, ¿cuánto dinero le queda?

Respuesta: le quedan pesos.

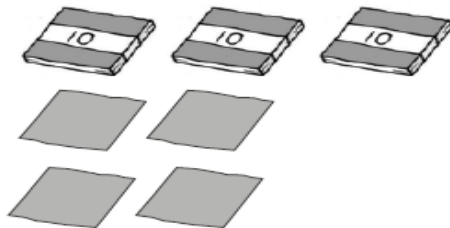
Vamos muy bien, realicemos un recreo mental.
Encuentra el repetido





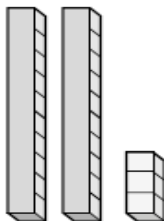
1 ¿Cuántos hay?

a)



Respuesta: personas.

b)



Respuesta: unidades.



2 Completa.

a) 9 decenas y
4 unidades son:

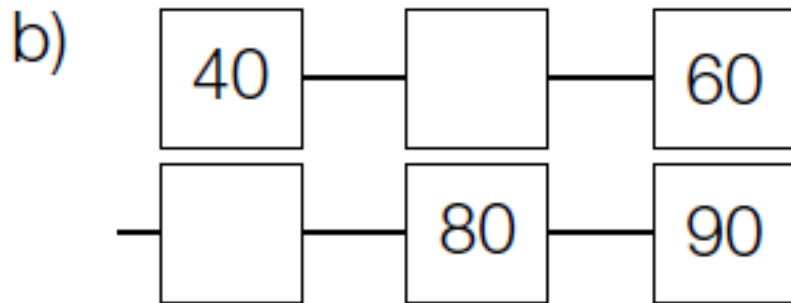
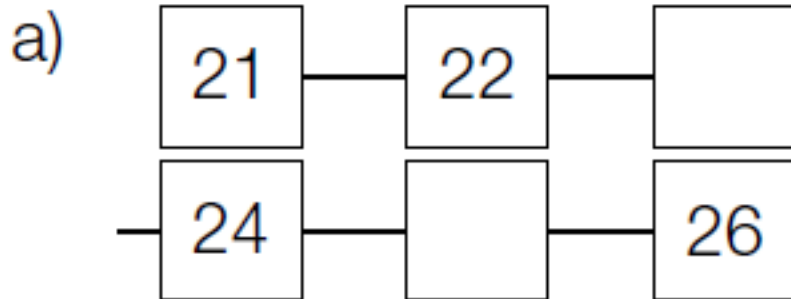
b) 7 decenas, y
9 unidades son:

c) 3 unidades menos
que 60 es:

d) 2 más que 98 son:



3 Escribe.



4 Calcula.

a) $30 + 50$

b) $80 - 40$

c) $85 - 5$

d) $43 + 6$

e) $100 - 30$

f) $9 + 30$



5 En el bus hay 7 adultos y 28 niños. ¿Cuál es la diferencia entre adultos y niños?

Respuesta: personas.



Hemos trabajado muy bien,
vamos a cerrar la clase.

¡Cerramos la clase!



Si compro 5 dulces a frutilla, 2 de plátano, 22 de piña y luego regalo 5 de piña. ¿Cuántos dulces tengo ahora?

- a) 25**
- b) 24**
- c) 34**



¡Cerramos la clase!

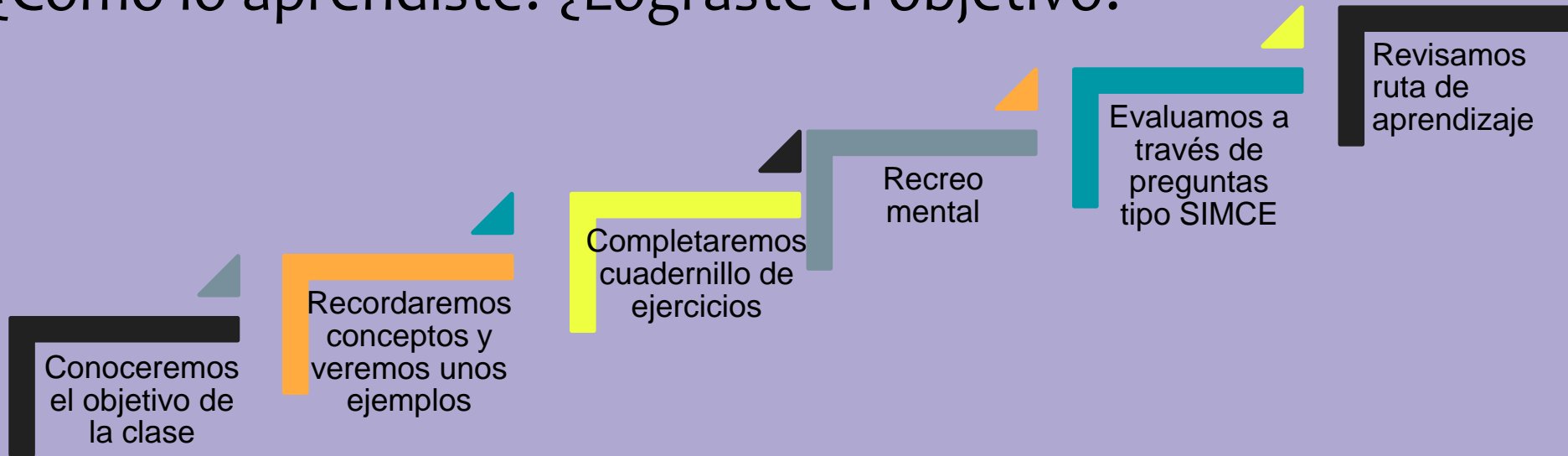
En un zoológico hay 50 aves dentro de una gran jaula, el cuidador de aves decidió sacar 20 aves para dejarlas en otro lugar al zoológico.

¿Cuántas aves quedan en la jaula inicial?

- a) 50**
- b) 20**
- c) 30**



Revisa la ruta de aprendizaje... Qué aprendiste hoy? ¿Cómo lo aprendiste? ¿Lograste el objetivo?



Cuéntale a tu apoderado qué aprendiste

¡Envíame tu tarea!

daniela.cordero@colegio-auroradechile.cl



Mail Profesora 2°A
Daniela Cordero Chacana

¡Envíame tu tarea!

lina.vidal@colegio-auroradechile.cl

Mail Profesora 2°B
Lina Vidal Valenzuela

