



Colegio Aurora  
de Chile  
CORMUN RANCAGUA

**NO  
IMPRIMIR**

# Matemática

Material semana 12 - 2° básico.

Profesoras:

Daniela Cordero Chacana

Lina Vidal Valenzuela

Colegio Aurora de Chile

Rancagua

¡Hola queridos alumnos  
y alumnas!



# ¡Bienvenidos!

**Queridos Estudiantes:** Esperamos  
estén muy bien en sus casas.  
Seleccionamos las actividades de ésta  
clase con mucha dedicación para que  
puedan aprender en sus hogares.

**¡Los extrañamos y queremos mucho!**



¡Los extrañamos!



# ¿Qué necesitas para desarrollar esta clase?



Lápiz de mina



Goma de borrar



Cuaderno de asignatura



Un lugar cómodo  
para estudiar



# Ruta de aprendizaje



**Lee la ruta de aprendizaje para que conozcas qué actividades realizarás en la clase para lograr el objetivo**

Escribir en cuaderno de  
asignatura

Objetivo:

Retroalimentar control de la asignatura.





**Hoy vamos a  
retroalimentar el control  
de matemática .**

1. Mirando esta imagen de frente, marca la alternativa correcta. \*



- El sol se encuentra arriba de la casa al lado derecho.
- La laguna se encuentra delante de la casa.
- El árbol se encuentra al lado derecho y delante de la casa

2. Observa detenidamente la imagen del zoológico y los animales. \*



- El león está dentro de una jaula
- El león se encuentra al lado izquierdo de la puerta
- El oso panda esta sentado a la izquierda de la imagen.




3. Observa la imagen y lee atentamente cada enunciado. \*



- La sala de clase está siendo observada desde atrás.
- La pizarra se encuentra sobre el reloj mural.
- La ventana se encuentra al lado derecho de la sala.

4. ¿Qué mano están levantando los niños? \*



Derecha

Izquierda

No se puede saber

5. Observa atentamente la imagen. Si estoy entrando a esta sala y me quedo parado en la puerta. ¿En qué posición veo la pizarra?

\*



Adelante de mi

A mi Izquierda

A mi Derecha

6. ¿En cuál de estas imágenes se observa una silla desde arriba? \*

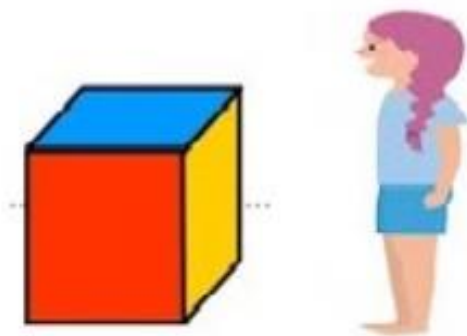


1

2

3

7. Una niña observa un cubo que tiene caras de diferentes colores. Ahora está observando el lado amarillo, si ella se mueve hacia su izquierda. ¿Qué color verá? \*




Azul

Rojo

Amarillo

Recreo mental

Encuentra  
el distinto



8. ¿Qué número representa la imagen? \*

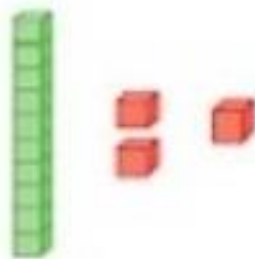


8

80

800

9. ¿Qué número representa la imagen? \*



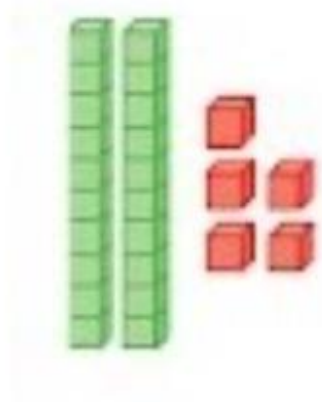
1, 2 y 1

13

10, 21



10. ¿Qué número representa la imagen?



2 y 5

205

25

11. ¿Cuál es el número mayor? \*

56

65

84

12. ¿Cuál es número mayor? \*

27

37

17

13. ¿Cuál es el número menor? \*

43

44

34

14. ¿Cuál es el número menor? \*

98

89

96

15. Marca la alternativa donde los siguientes números estén ordenados de menor a mayor. \*

55      29      35      68

55 - 35 - 68 - 29

68 - 55 - 35 - 29

29 - 35 - 55 - 68

16. Marca la alternativa donde los siguientes números estén ordenados de mayor a menor. \*

14

55

27

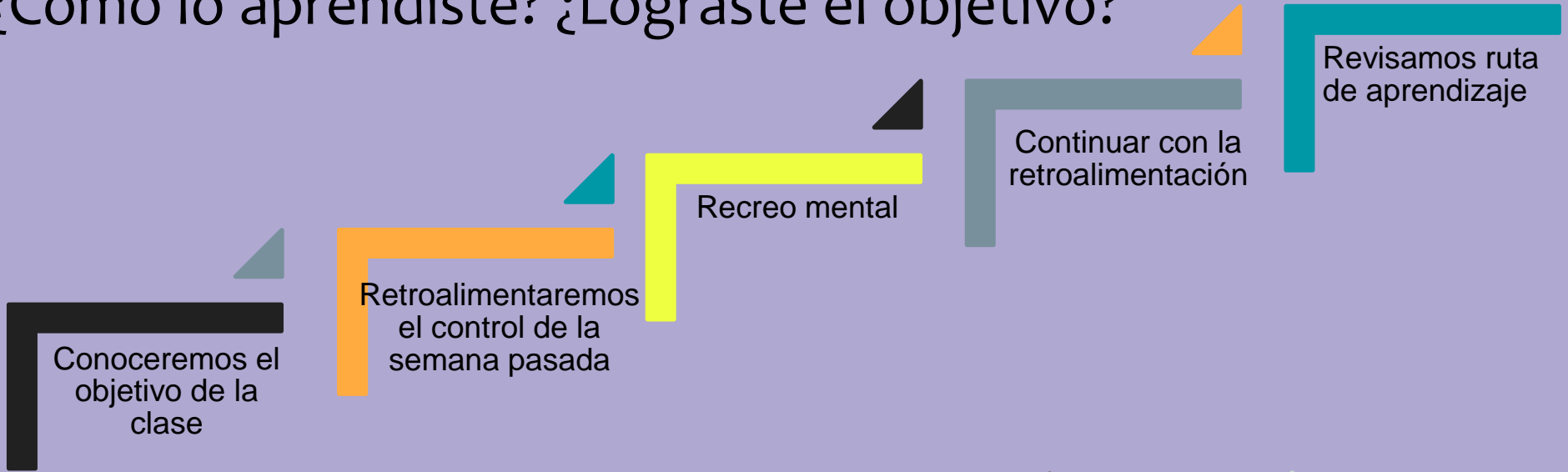
85

14 - 27 - 55 - 85

85 - 55 - 27 - 14

55 - 85 - 27 - 14

Revisa la ruta de aprendizaje... ¿Qué aprendiste hoy?  
¿Cómo lo aprendiste? ¿Lograste el objetivo?



**Cuéntale a tu apoderado qué aprendiste**