




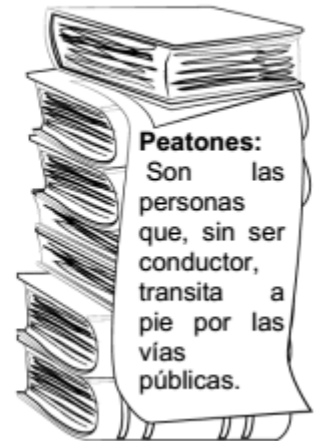
GUIA CLASE 27 HISTORIA, GEOGRAFÍA Y CS. SOCIALES 2° BÁSICO

Objetivo de la clase: Identificar normas destinadas a la protección en la vía pública



Hay normas de seguridad que nos ayudan a prevenir accidentes. Las normas de seguridad que deben aplicarse en el **hogar**, en el **colegio** y también en la **vía pública**.

Las señales de tránsito son signos y símbolos que sirven de guía para los conductores de los vehículos y los peatones en las vías y calles públicas. Para nuestra seguridad en la vía pública es de vital importancia conocer las señales del tránsito, así podrán cumplir con las normas que nos rigen y que nos ayudan a evitar accidentes.




1. Pinta cada señal de tránsito con el color que le corresponda:

- a) De rojo las de ordenamiento o prohibición.
- b) De azul las de información.
- c) De amarillo las de prevención.



2. Marca con una X los dibujos que muestran peatones.



3. Responde en forma clara y ordenada.

a) ¿Por qué será importante esperar que el semáforo este en rojo para los autos y verde para los peatones?

b) ¿Por qué crees que los ciclistas deben utilizar cascos en la vía pública?



c) ¿Por dónde se debe cruzar en la calle? ¿Por qué?

4. Elige una norma de seguridad vial para los dibujos que se presentan a continuación y escribe el número que la representa donde corresponda.

1. Cruzar de la mano de un adulto las calles.

2. Esperar el transporte en el paradero y subir a él sin correr.

3. Cruzar las esquinas cuando el semáforo esté en verde.

4. El ciclista debe circular por la derecha de la calzada y señalizar al doblar.

