



COLEGIO AURORA DE CHILE
RANCAGUA


Historia Semana 7

Profesoras:
- Daniela Cordero Chacana.
- Lina Vidal Valenzuela



Encuentra el video de esta clase en:

<https://youtu.be/UNsFOA0SA84>



Objetivo de la clase

Clasificar y describir paisajes de las zonas naturales de Chile, asociando la ubicación de los paisajes en las distintas zonas del país con sus características propias.



Ruta de aprendizaje

Repasamos lo visto
las clases
anteriores



Aprendemos sobre
los elementos del
paisaje y las zonas
naturales de Chile



Trabajamos en
guía de ejercicios



RECORDEMOS



HOY VEREMOS LOS ELEMENTOS DEL PAISAJE Y LAS ZONAS DE CHILE

Esto lo puedes encontrar de la página 28 a la 40
de tu texto




ELEMENTOS DEL PAISAJE

ELEMENTOS NATURALES

Son parte de la naturaleza.

ELEMENTOS CULTURALES

Son creados por el ser humano.





Parque nacional Lauca,
Región de Arica y Parinacota.

Existen paisajes donde la presencia de elementos naturales es mayor.



Dalcahue, isla de Chiloé.
Región de Los Lagos.

En otros paisajes conviven elementos naturales y culturales.



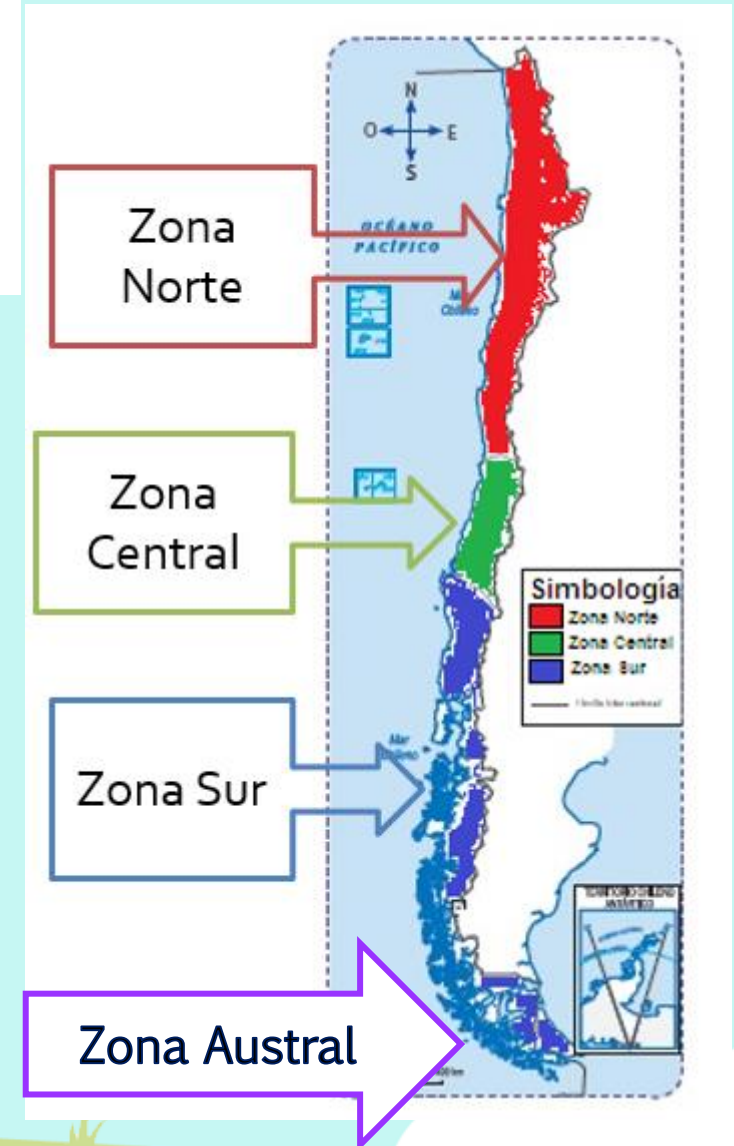
Puerto de Arica visto desde el morro.
Región de Arica y Parinacota.

También hay paisajes donde los elementos culturales son mayores a los naturales. Por lo general, esto se produce en las ciudades.



¿Cómo son los paisajes de las zonas naturales de Chile?

Debido a su extensión, en Chile existe una gran variedad de paisajes. Estos se agrupan en cuatro grandes zonas. En ellas se combinan elementos naturales y culturales, los que dan características particulares a cada una.



ZONA NORTE

Se divide en Norte Grande y Norte Chico. Los paisajes de la zona Norte son muy áridos. Presentan un clima desértico (seco y caluroso): llueve muy poco, las temperaturas son altas de día y bajas de noche.



Iquique desde la cordillera de la Costa.
Región de Tarapacá.

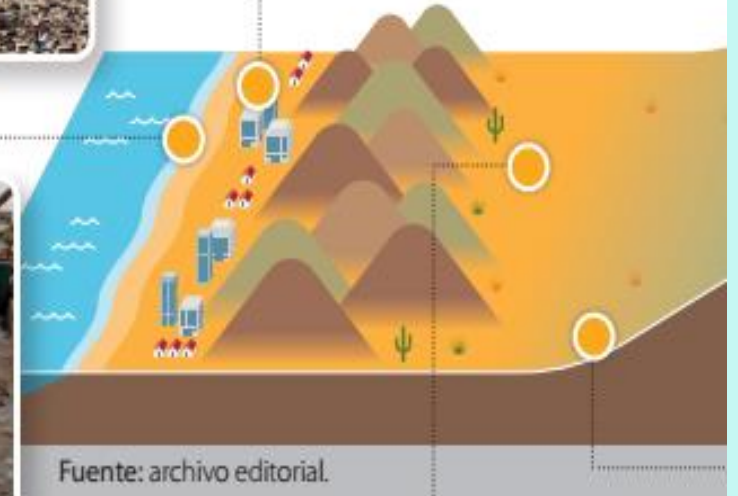
La mayoría de la población de esta zona vive en la costa. La **cordillera de la Costa** es alta y cae abruptamente al mar.



Pescadores en Arica.
Región de Arica y Parinacota.

Los **productos del mar** son uno de los principales recursos de la zona.

La **vegetación** se adapta a las escasas lluvias del desierto.



Fuente: archivo editorial.



Pampa del Tamarugal, Región de Tarapacá.



Socaire, Región de Antofagasta.



» Vocabulario

Árido: seco.

La **cordillera de los Andes** toma forma de una planicie en altura (**Altiplano**). Los **animales** se adaptan a la sequedad.



Mina de Chuquicamata.



La industria **minera** se ha desarrollado por largo tiempo en el **desierto** de Chile.

Valle del Elqui, Región de Coquimbo.



Hacia el Sur, aparecen **valles** que reemplazan el desierto.



ZONA CENTRAL

En esta zona vive más gente que en otras zonas, debido a que presenta temperaturas moderadas (no hace ni mucho frío ni calor), lloviendo principalmente en invierno. Tiene un clima templado.



Puerto de Valparaíso.

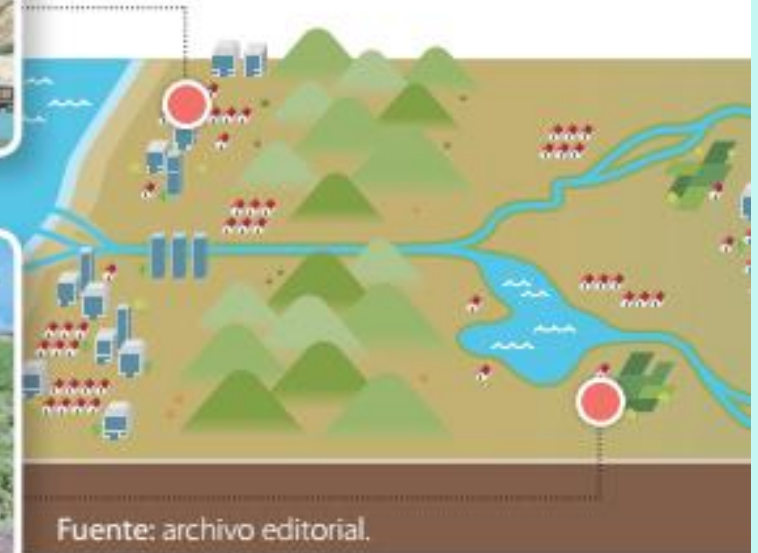
Los **puertos** en las ciudades de la costa permiten el comercio con países de otros continentes.



Campeños de la Zona Central.

La **agricultura** se ve favorecida por el clima templado y la fertilidad de sus valles.

1 ¿Por qué la **vegetación** es más abundante en esta zona que en la Zona Norte?




Fuente: archivo editorial.



Santa Cruz en el valle de Colchagua.



Cajón del Maipo en San José de Maipo.



La **cordillera de los Andes** tiene altas cumbres y de ella nacen ríos que desembocan en el mar (océano Pacífico). A medida que se avanza hacia el Sur la vegetación aumenta.



La Moneda, Región Metropolitana.



Foto panorámica de la ciudad de Santiago, capital de Chile.



Existen **grandes ciudades** donde vive gran parte de la población de Chile. Por ejemplo: Santiago, Valparaíso y Concepción.



ZONA SUR

Se divide en zona Sur y zona Austral. La lluvia y la humedad son características de esta zona. Mientras más avanzas hacia el sur, las temperaturas son más bajas y aumentan las lluvias. Esta zona presenta un clima frío y húmedo, por lo que hay una gran vegetación.



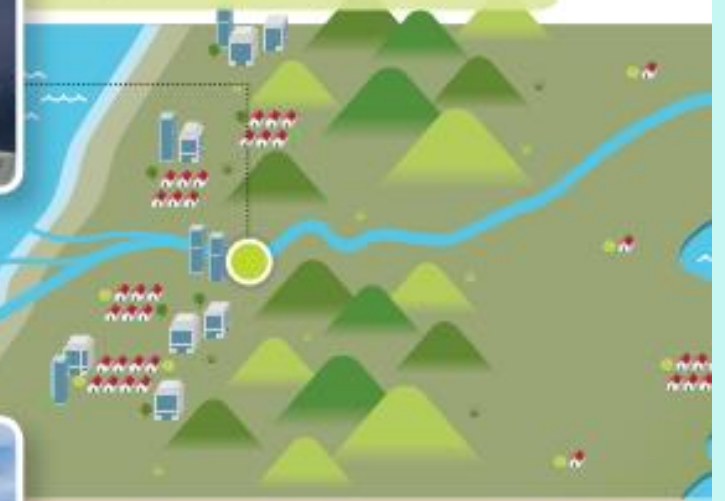
Río Valdivia, Región de Los Ríos.

Existen grandes **ríos** y **lagos** en toda la zona. La **costa** es ancha, pero se va haciendo más angosta hacia el sur.



Ciudad de Temuco,
Región de la Araucanía.

Esta ciudad es de las más pobladas de la zona y tiene una gran importancia para el comercio, la economía y la cultura de la región.



Fuente: archivo editorial.

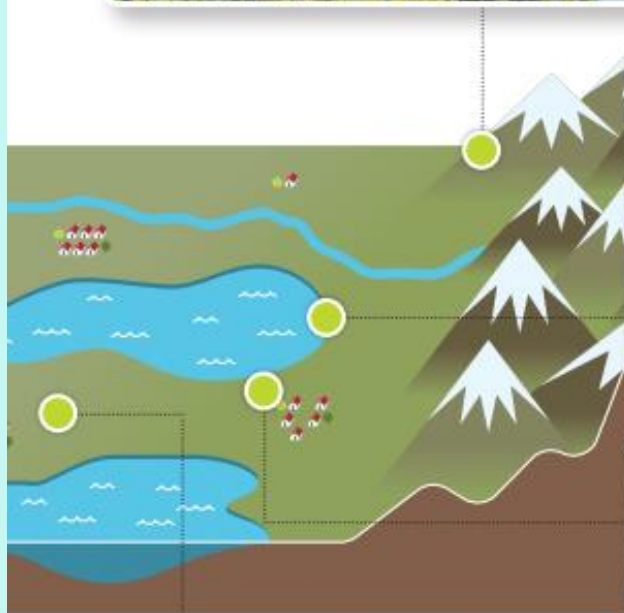
- 1 Plantea tres razones por las que vivirías en esta zona. Explícalas.
- 2 Explica con dibujos qué son las actividades agrícolas, forestales y ganaderas. ¿Por qué crees que se desarrollan en esta zona?





Araucarias en Conguillio,
Región de la Araucanía.

La cordillera de los Andes disminuye su altura, sus cumbres son **volcanes**. La gran cantidad de lluvia permite una **abundante vegetación**.



Lago Llanquihue, Frutillar.



Actividad forestal
en Temuco.



Ganadería en Osorno,
Región de Los Lagos.

La **actividad forestal**, la **agricultura** y la **ganadería** son actividades importantes para la zona.



ZONA AUSTRAL

En esta zona las temperaturas son muy bajas, a veces cae nieve, la que cubre varios paisajes presentes en ella. Presenta clima polar.



Turistas en la laguna San Rafael.

La cordillera de la Costa se hunde en el mar, formando **islas** y **archipiélagos**. Aparecen **glaciares** y extensas zonas cubiertas de hielo.



Pingüinos rey en la isla de Tierra del Fuego.



La **pesca** se practica en los canales que existen en la zona.

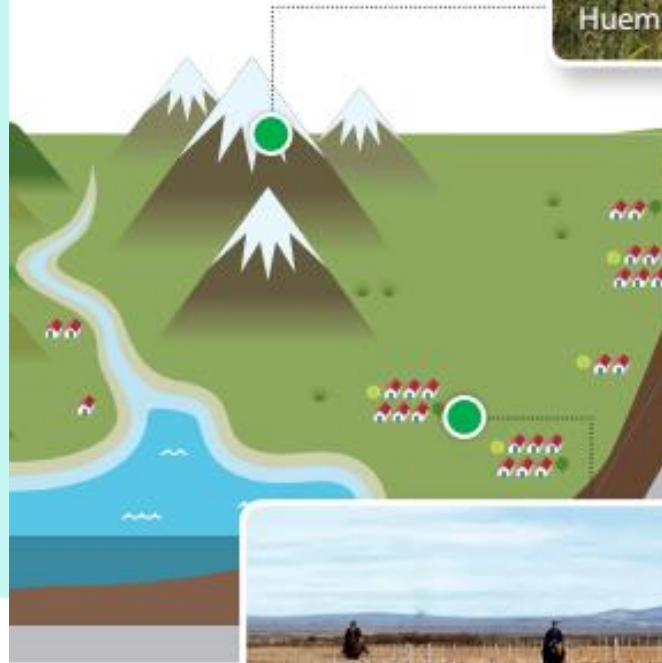
- 1 ¿Por qué en esta zona vive una menor cantidad de personas? Conversa con tus compañeros.



Lanchas en Puerto Aysén.



Existen grandes ríos,
abundante vegetación
y especies animales.
Aparece la **Patagonia**,
una zona plana cubierta
de pastos duros y
fuertes vientos.



La crianza de ovejas es
muy importante para
esta zona.



¿Por qué el paisaje de la isla Rapa Nui es único en Chile?

La isla Rapa Nui tiene un **paisaje tropical**. Existen altas temperaturas y gran cantidad de precipitaciones.

Recurso 1 Los paisajes de la isla Rapa Nui. —
Los paisajes de la isla se han visto afectados por el aumento de la población, el cambio climático y la excesiva explotación de sus recursos.



Trabajemos con guías



1.- Observa el mapa y, pinta en el mapa cada zona con el color que se te indica y completa la simbología.

- Verde oscuro la zona Norte.
- Amarillo la zona centro
- Naranja la zona Sur

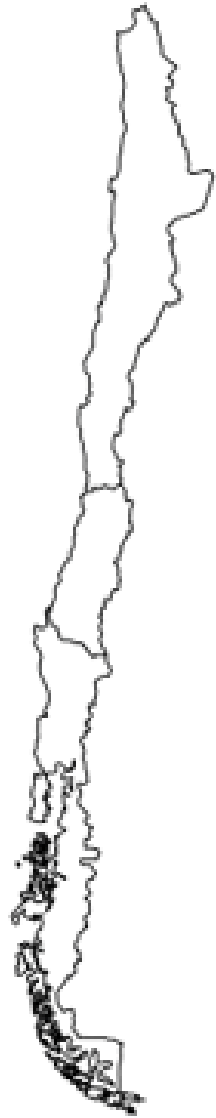


Chile se divide en tres zonas naturales o regiones geográficas naturales muy características:

- **Zona Norte:** La cual se subdivide en:
 - **Norte Grande:** Abarca desde la XV región de Arica y Parinacota hasta la II de Antofagasta
 - **Norte chico:** Desde la III región de Atacama a la IV región de Coquimbo.
- **Zona Centro:** Abarca desde la V región hasta los límites del río Biobío en la VIII región.
- **Zona Sur:** La cual se subdivide en:
 - **Zona Sur:** desde el río Biobío cerca de Concepción hasta la península de Taitao en la XI región.
 - **Zona Austral:** desde la península de Taitao hasta Magallanes.



2. De acuerdo a lo observado en el video, une cada clima con la zona que corresponde.



Templado

Polar

Seco y caluroso




Húmedo y frío



3. De las imágenes observadas en el PowerPoint identifica a que zona pertenece cada paisaje. Únelos con diferentes colores por cada zona




4. Escribe una característica de cada paisaje de Chile según su ubicación en la zona norte, centro y sur del país.

Paisaje	Zona natural	Clima	Relieve
 <p data-bbox="644 639 1047 718">Parque Nacional Pan de Azúcar</p>	Zona		
 <p data-bbox="644 965 988 1001">Viñedos de Curacaví</p>	Zona		
 <p data-bbox="644 1248 1090 1282">Parque Nacional Conguillío</p>	Zona		



EVALUAMOS



¿Cuáles son los elementos del paisaje?

- a) Elementos artificiales y naturales
- b) Elementos naturales y culturales
- c) Zona Norte, Centro, Sur y Austral.



¿Cuáles son las zonas naturales en las que se divide nuestro país?

- a) Zonas naturales y zonas artificiales
- b) Zona Norte, Centro, Sur y Austral.
- c) Zonas de mar y cordillera.



¿Por qué en Chile hay variedad de paisajes?

- a) Por su extensión (es muy largo)
- b) Porque en el sur llueve mucho.
- c) Porque en la zona central no llueve.



Envíale un mail a tu profesora
jefe con una foto de tu guía
terminada.

Tienes plazo hasta el martes 19
de mayo





daniela.cordero@colegio-auroradechile.cl

Mail Profesora 2°A
Daniela Cordero Chacana





lina.vidal@colegio-auroradechile.cl

Mail Profesora 2°B
Lina Vidal Valenzuela

