

# PROYECTO DE EJERCITACIÓN DE MATEMÁTICA AL HOGAR

SEMANA 19

1º BÁSICO

PROFESORA ENCARGADA DE  
PROYECTO: MAYTE CARRASCO

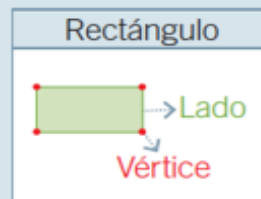
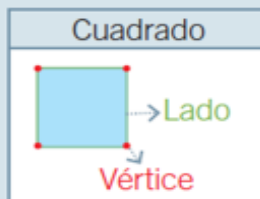
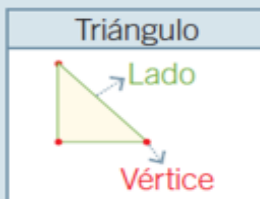
**Objetivo del proyecto:** Mejorar el desempeño de los estudiantes en el manejo adecuado de los contenidos de matemática a través del desarrollo de guías de trabajo enviadas al hogar durante el año 2020 para potenciar la resolución de problemas en tareas escolares y en la vida diaria.



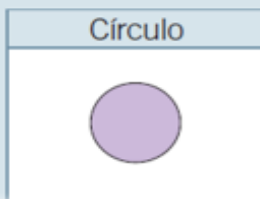
## Recordar contenido

Las figuras geométricas tienen 2 dimensiones y se pueden dibujar usando líneas rectas y curvas.

- Figuras geométricas con líneas rectas.



- Figura geométrica con líneas curvas.



PIDE AYUDA A TU APODERADO PARA LEER Y RECORDAR EL CONTENIDO DE MATEMÁTICA

### Matemática al hogar – Semana 19

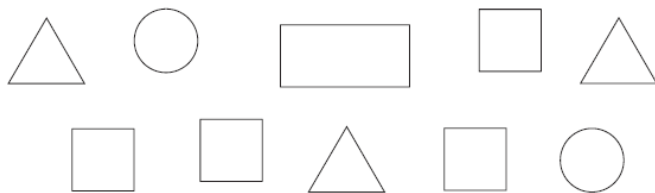
Nombre: \_\_\_\_\_ Curso: \_\_\_\_\_

1) Pinta las figuras geométricas según las claves:

Círculos

Triángulos

Cuadrados



2) Dibuja una figura geométrica que contiene tres líneas rectas y tres vértices:



## Realizar actividad

PIDE AYUDA A TU APODERADO

DEBES ENVIAR TU TAREA A TRAVÉS DE LA PLATAFORMA CLASSROOM

PUEDES HACERLO EN TU CUADERNO O EN EL COMPUTADOR, EDITANDO ESTE DOCUMENTO





¡AHORA A JUGAR!

INGRESA AL LINK. JUEGA A CREAR FIGURAS GEOMÉTRICAS

<https://arbolabc.com/juegos-de-figuras-geometricas/trazar-las-formas>