



Colegio Aurora  
de Chile  
CORMUN RANCAGUA

SEMANA 16

# PROYECTO DE EJERCITACIÓN DE MATEMÁTICA AL HOGAR

1º BÁSICO

PROFESORA ENCARGADA DE  
PROYECTO: MAYTE CARRASCO  
SEPÚLVEDA



The image features a central blue speech bubble containing text, surrounded by six stylized, colorful cartoon children's faces. The children have various hair colors (yellow, brown, black) and styles (braids, ponytails, short hair), and some are wearing glasses. The overall style is bright and friendly.

## OBJETIVO DEL PROYECTO

MEJORAR EL DESEMPEÑO DE LOS ESTUDIANTES EN EL MANEJO ADECUADO DE LOS CONTENIDOS DE MATEMÁTICA A TRAVÉS DEL DESARROLLO DE GUÍAS DE TRABAJO ENVIADAS AL HOGAR DURANTE EL AÑO 2020 PARA POTENCIAR LA RESOLUCIÓN DE PROBLEMAS EN TAREAS ESCOLARES Y EN LA VIDA DIARIA.



# ¡HOLA QUERIDOS NIÑOS Y NIÑAS!



ESPERAMOS SE ENCUENTREN MUY BIEN EN SUS HOGARES JUNTO A SUS FAMILIAS. LOS Y LAS EXTRAÑAMOS MUCHO.



EN ESTE PROYECTO DE EJERCITACIÓN DE MATEMÁTICA AL HOGAR, REALIZARÁN ACTIVIDADES ENTRETENIDAS PARA REFORZAR LOS CONTENIDOS DE LA ASIGNATURA.



DEBEN SEGUIR LAS INSTRUCCIONES DE LAS ACTIVIDADES Y JUEGOS ONLINE.

# ¿QUÉ NECESITAS PARA DESARROLLAR LA ACTIVIDAD DE ESTE PROYECTO?

LO QUE TENGAS EN CASA...



COMPUTADORA



TABLET



CELULAR

E  
S  
E  
N  
C  
I  
A  
L



LÁPIZ DE MINA



GOMA DE BORRAR



CUADERNO DE ASIGNATURA DE MATEMÁTICA



UN LUGAR CÓMODO PARA ESTUDIAR

# ¿CÓMO LO HAREMOS?



RECORDAR CONTENIDO




OBSERVAR EJEMPLO



REALIZAR ACTIVIDAD



JUGAR ONLINE






## Recordar contenido



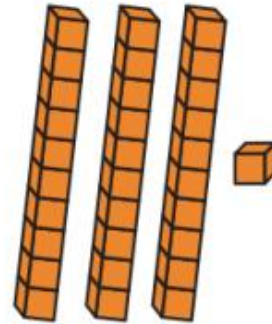
Los números están formados por **dígitos**, los cuales tienen diferente valor según la **posición** que tienen en el número.



D	U
1	3



10	3
----	---



D	U
3	1



30	1
----	---




PIDE AYUDA A TU APODERADO PARA LEER Y RECORDAR EL CONTENIDO DE MATEMÁTICA



PIDE AYUDA A TU APODERADO PARA LEER Y RECORDAR EL CONTENIDO DE MATEMÁTICA







## Recordar contenido



 10 y  10 20 veinte

 20 y  10 30 treinta

 30 y  10 40 cuarenta


 40 y  10 50 cincuenta

Ya sabes contar con los números hasta el 20. Ahora sigue contando con los nuevos números que has aprendido.






 **Observar ejemplo**



D	U
2	7



EN LA IMAGEN SE OBSERVAN DOS CONJUNTOS DE 10 NIÑAS MÁS 7 NIÑAS MÁS ES DECIR, DOS DECENAS DE NIÑAS MÁS 7 UNIDADES DE NIÑAS.




# Matemática al hogar – Semana 16

Nombre: \_\_\_\_\_ Curso: \_\_\_\_\_


Encierra en conjuntos las decenas y unidades. Coloca el número correcto en los cuadros del costado:




D	U



D	U



D	U

 Realizar actividad

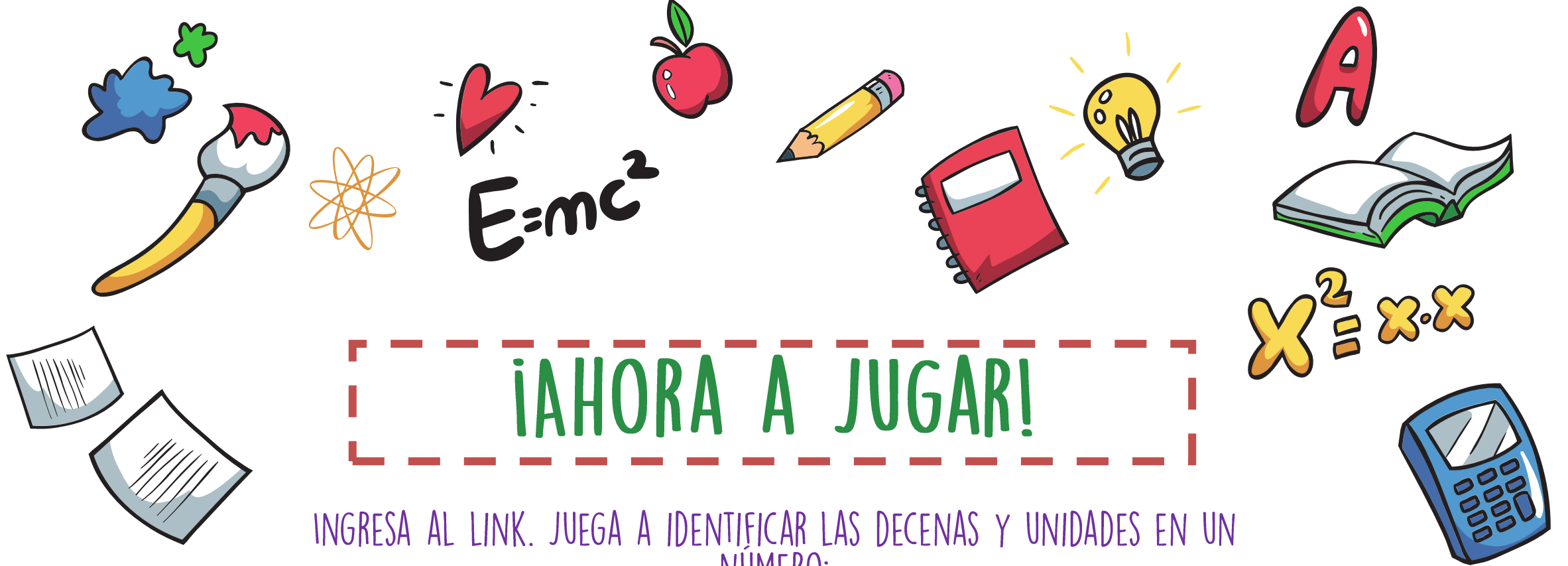
PIDE AYUDA A TU APODERADO

LA ACTIVIDAD SE REALIZA TRANSCRIBIENDO EN EL CUADERNO DE ASIGNATURA DE MATEMÁTICA

DEBES ENVIAR UNA FOTO DE TU ACTIVIDAD A TU PROFESORA DE MATEMÁTICA

ASÍ DEBE QUEDAR EN TU CUADERNO






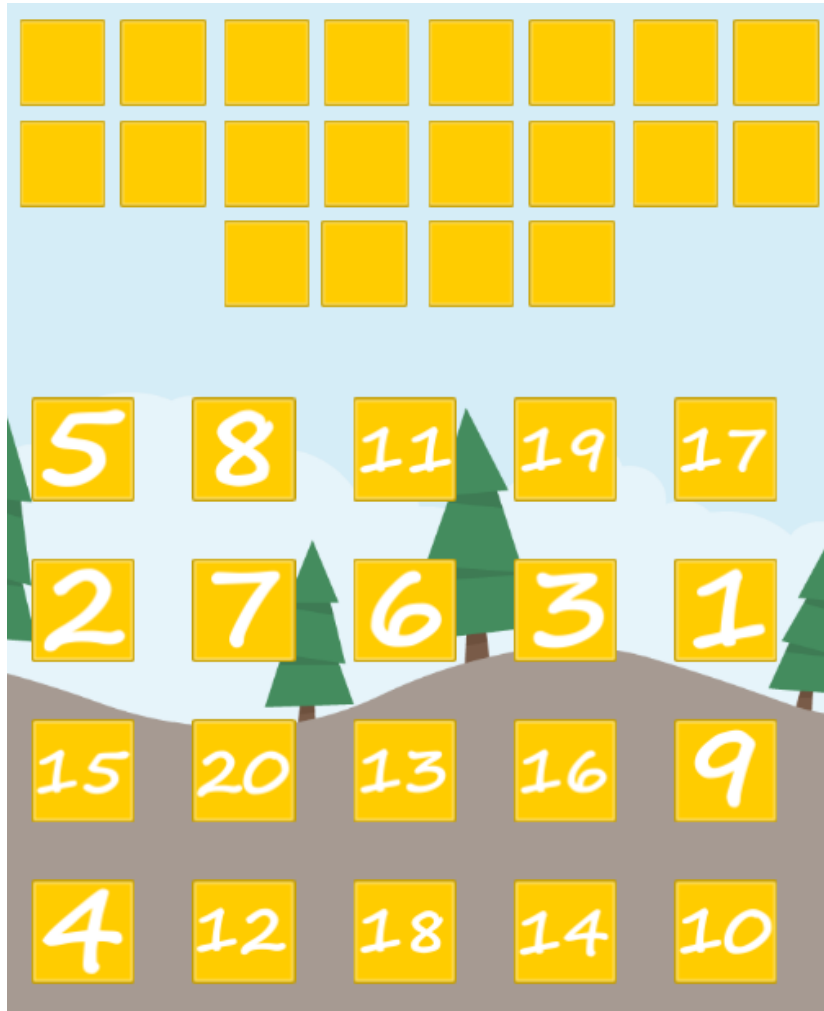
¡AHORA A JUGAR!

INGRESA AL LINK. JUEGA A IDENTIFICAR LAS DECENAS Y UNIDADES EN UN NÚMERO:

<https://juegosinfantiles.bosquedefantasias.com/juegos/matematicas/cuenta-numeros-hasta-20/index.html>

PUEDES CONSULTAR LAS SIGUIENTES DIAPOSITIVAS PARA OBSERVAR EL FUNCIONAMIENTO DEL JUEGO

<https://juegosinfantiles.bosquedefantasias.com/juegos/matematicas/cuenta-numeros-hasta-20/index.html>



CUENTA LOS CUADRADOS E IDENTIFICA EL NÚMERO REPRESENTADO



Colegio Aurora  
de Chile  
CORMUN RANCAGUA

¡ESPERAMOS QUE EJERCITES Y  
REFUERCES!  
¡UN ABRAZO CARIÑOSO A LA  
DISTANCIA!

