



Colegio Aurora
de Chile
CORMUN RANCAGUA

PROYECTO DE EJERCITACIÓN DE MATEMÁTICA AL HOGAR



1º BÁSICO

The image features a central blue speech bubble containing text. Surrounding the bubble are six stylized, colorful cartoon faces of children with various features like glasses, hair, and clothing. The faces are arranged in a circle around the central text.

OBJETIVO DEL PROYECTO

MEJORAR EL DESEMPEÑO DE LOS ESTUDIANTES EN EL MANEJO ADECUADO DE LOS CONTENIDOS DE MATEMÁTICA A TRAVÉS DEL DESARROLLO DE GUÍAS DE TRABAJO ENVIADAS AL HOGAR DURANTE EL AÑO 2020 PARA POTENCIAR LA RESOLUCIÓN DE PROBLEMAS EN TAREAS ESCOLARES Y EN LA VIDA DIARIA.



¡HOLA QUERIDOS NIÑOS Y NIÑAS!



ESPERAMOS SE ENCUENTREN MUY BIEN EN SUS HOGARES JUNTO A SUS FAMILIAS. LOS Y LAS EXTRAÑAMOS MUCHO.



EN ESTE PROYECTO DE EJERCITACIÓN DE MATEMÁTICA AL HOGAR, REALIZARÁN ACTIVIDADES ENTRETENIDAS PARA REFORZAR LOS CONTENIDOS DE LA ASIGNATURA.



DEBEN SEGUIR LAS INSTRUCCIONES DE LAS ACTIVIDADES Y JUEGOS ONLINE.

¿QUÉ NECESITAS PARA DESARROLLAR LA ACTIVIDAD DE ESTE PROYECTO?

LO QUE TENGAS EN CASA...



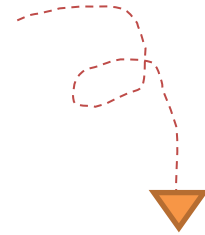
COMPUTADORA



TABLET



CELULAR



E
S
E
N
C
I
A
L



LÁPIZ DE MINA



GOMA DE BORRAR



CUADERNO DE ASIGNATURA DE MATEMÁTICA



UN LUGAR CÓMODO PARA ESTUDIAR

¿CÓMO LO HAREMOS?



RECORDAR CONTENIDO




OBSERVAR EJEMPLO



REALIZAR ACTIVIDAD



JUGAR ONLINE





Recordar contenido



Cuando se agregan elementos a una colección, se **suman**.
Agregar se relaciona con la **adición**.

Hay



Agrego



5 más 2 son 7

$$5 + 2 = 7$$

Ahora hay



PIDE AYUDA A TU APODERADO PARA LEER Y
RECORDAR EL CONTENIDO DE MATEMÁTICA



Recordar contenido



Cuando se quitan elementos a una colección, se restan.
Quitar se relaciona con la sustracción.

Hay



Quito



5 menos 2 son 3

$$5 - 2 = 3$$

Quedan



PIDE AYUDA A TU APODERADO PARA LEER Y
RECORDAR EL CONTENIDO DE MATEMÁTICA




Observar ejemplo



Tenía 4 cartas y me regalaron 1 carta más.



¿Cuántas cartas tiene  ahora?

$$4 + 1 = 5$$



Observar ejemplo



Tengo **8** juguetes en total. **2** son aviones y los demás son autos.



¿Cuántos autos tiene  ?

8

-

2

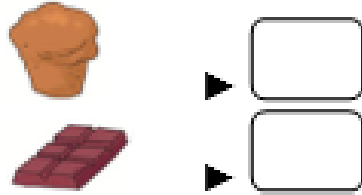
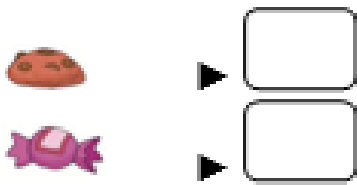

=

6



Realizar actividad

Cuenta y escribe la cantidad de elementos que hay.



Encierra tu respuesta.

¿De qué tipo de postre hay más?

¿De qué tipo de postre hay menos?



¿De qué tipo de postre hay más?

¿De qué tipo de postre hay menos?

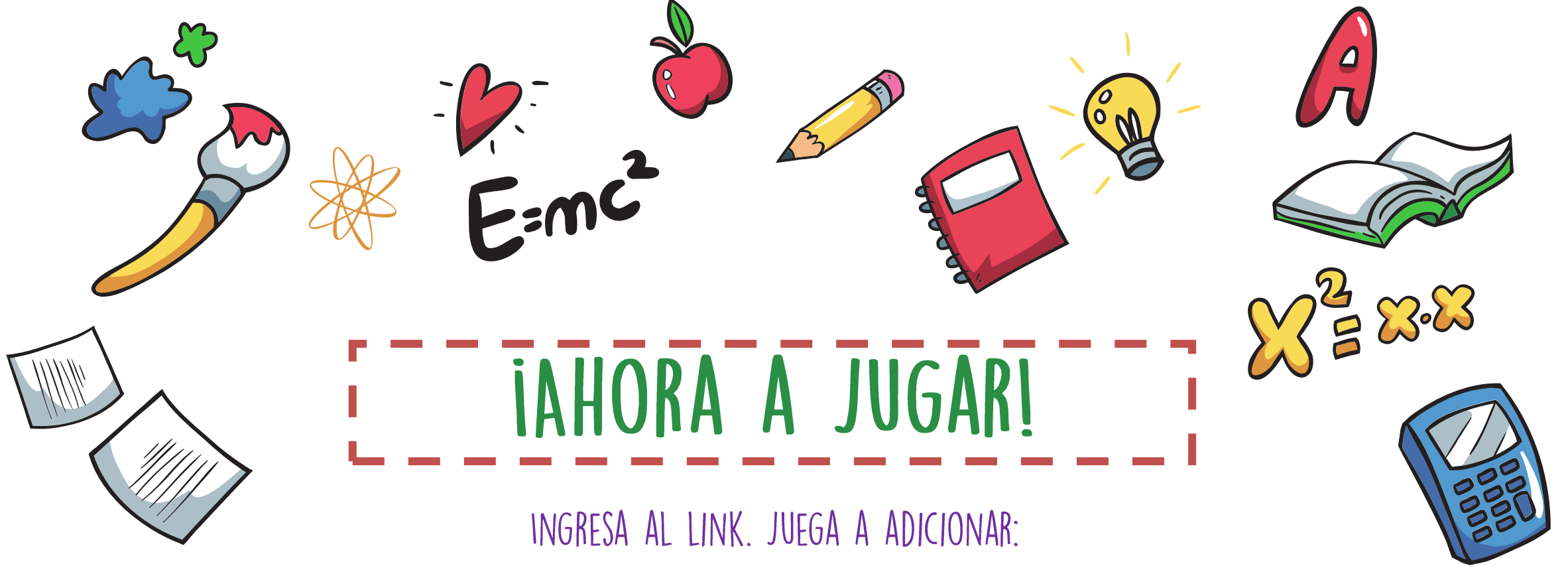


PIDE AYUDA A TU APODERADO

LA ACTIVIDAD SE REALIZA TRANSCRIBIENDO EN EL CUADERNO DE ASIGNATURA DE MATEMÁTICA

DEBES ENVIAR UNA FOTO DE TU ACTIVIDAD A TU PROFESORA DE MATEMÁTICA





¡AHORA A JUGAR!


INGRESA AL LINK. JUEGA A ADICIONAR:

[https://www.liveworksheets.com/worksheets/es/Educaci%C3%B3n Infantil/
L%C3%B3gico-matem%C3%A1ticas/Suma_10_ml82264uj](https://www.liveworksheets.com/worksheets/es/Educaci%C3%B3n%20Infantil/L%C3%B3gico-matem%C3%A1ticas/Suma_10_ml82264uj)


PUEDES CONSULTAR LAS SIGUIENTES DIAPOSITIVAS PARA OBSERVAR EL FUNCIONAMIENTO DEL JUEGO

https://www.liveworksheets.com/worksheets/es/Educaci%C3%B3n_Infantil/L%C3%B3gico-matem%C3%A1ticas/Suma_10_ml82264uj


¿Cuántas flores faltan para hacer 10?




$$8 + \underline{\quad} = 10$$



$$4 + \underline{\quad} = 10$$



$$10 + \underline{\quad} = 10$$



COLOCA EL
NÚMERO QUE FALTA
PARA COMPLETAR LA
ADICIÓN



Colegio Aurora
de Chile
CORMUN RANCAGUA

¡ESPERAMOS QUE EJERCITES Y
REFUERCES!
¡UN ABRAZO CARIÑOSO A LA
DISTANCIA!

