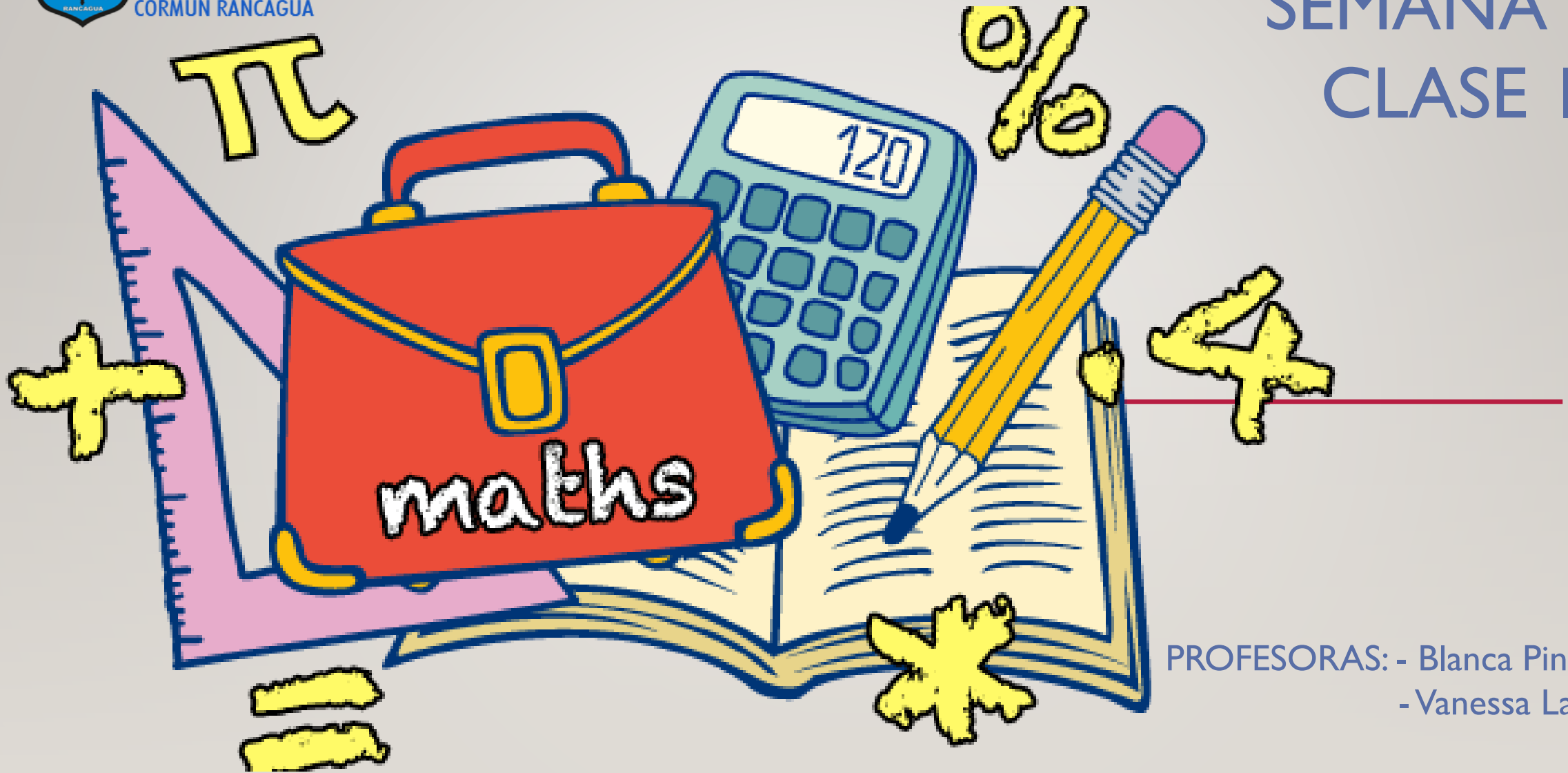




Colegio Aurora
de Chile
CORMUN RANCAGUA

SEMANA 37 CLASE I



PROFESORAS: - Blanca Pino
- Vanessa Laiño

ENSEÑANZA CENTRADA EN LA CALIDAD, AMOR Y DISCIPLINA



Colegio Aurora
de Chile
CORMUN RANCAGUA



BIENVENIDOS



A la asignatura de
Matemática

ENSEÑANZA CENTRADA EN LA CALIDAD, AMOR Y DISCIPLINA



Colegio Aurora
de Chile
CORMUN RANCAGUA



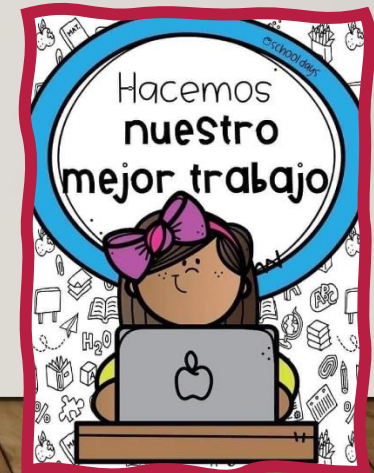
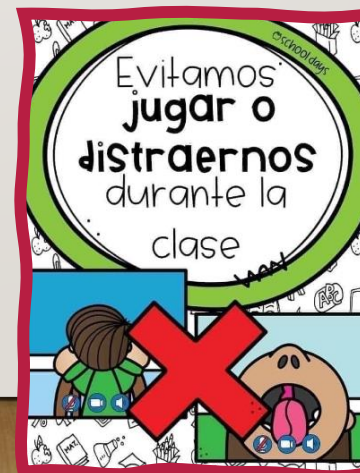
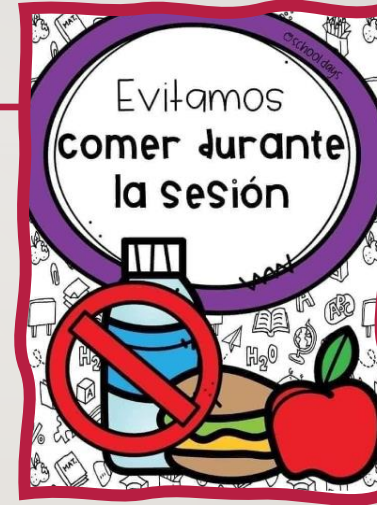
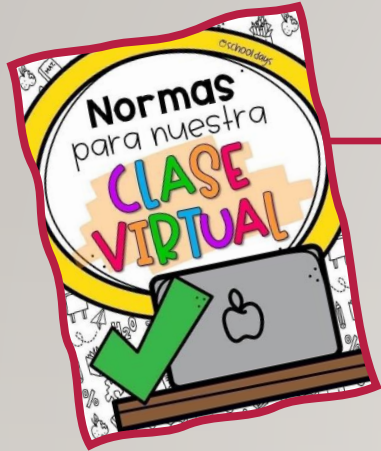
¡HOLA QUERIDOS ESTUDIANTES Y
APODERADOS! ESTA SEMANA SEGUIREMOS
APRENDIENDO NUEVAS COSAS. POR
FAVOR, SEGUIR CON ESE MARAVILLOSO
ENTUSIASMO Y ESFUERZO. NO OLVIDEN
PREGUNTAR ANTE CUALQUIER DUDA.

RECUERDEN QUE ILES EXTRAÑAMOS Y
QUEREMOS MUCHO!




ENSEÑANZA CENTRADA EN LA CALIDAD, AMOR Y DISCIPLINA

NORMAS DE TRABAJO VIRTUAL



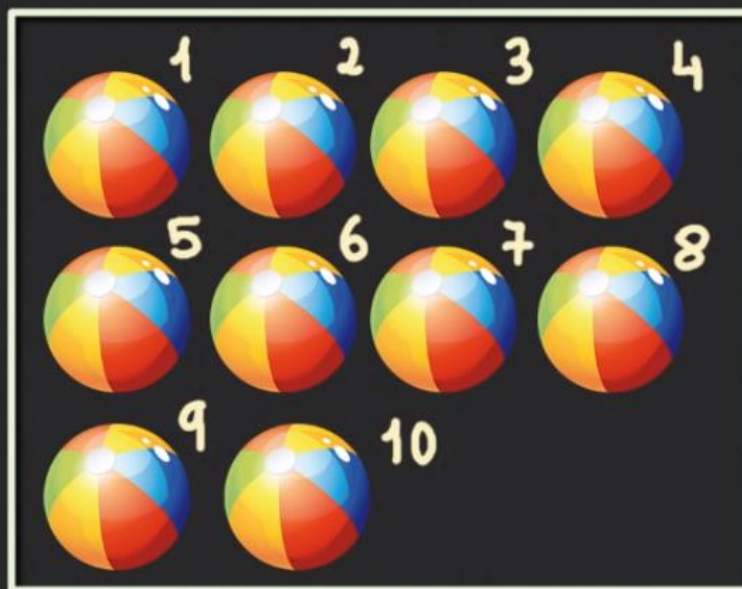
RECORDEMOS LAS
CLASES
ANTERIORES...



Decena. 1° de Primaria

DECENA:

Agrupación de diez unidades



⇒ 1 Decena de Pelotas

$$\underline{10u} = \underline{1d}$$

u = Unidades

d = Decenas



¿Qué
realizaremos
esta
semana?





¡A jugar descubriendo restas!




[HTTPS://LA.IXL.COM/MATH/1-GRADO/SUMAR-UN-N%C3%BAMERO-DE-UN-D%C3%ADGITO-A-UNO-DE-DOS-SIN-LLEVADAS](https://la.ixl.com/math/1-grado/sumar-un-n%C3%BAmero-de-un-d%C3%ADgito-a-uno-de-dos-sin-llevadas)



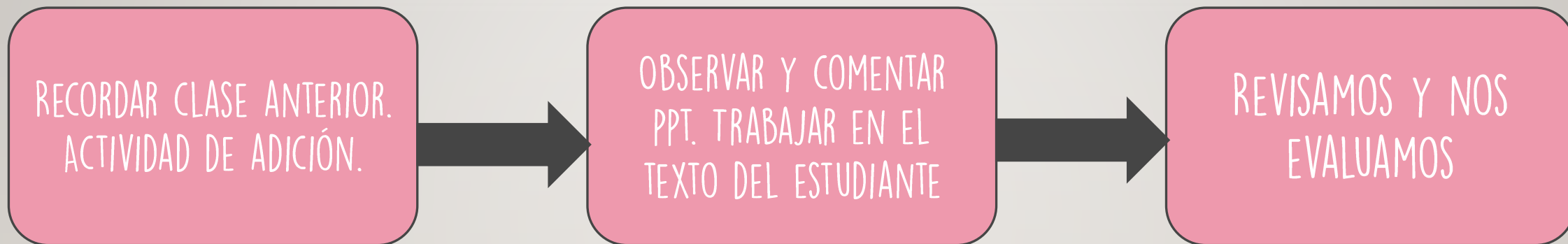
OBJETIVO DE HOY!



EJERCITAR NÚMEROS Y OPERACIONES,
MEDIANTE EL TEXTO DEL ESTUDIANTE,
MANIFESTANDO UN ESTILO DE TRABAJO
RIGUROSO Y PERSEVERANTE.



RUTA DE APRENDIZAJE...



LEE LA RUTA DE APRENDIZAJE PARA QUE
CONOZCAS QUÉ ACTIVIDADES REALIZARÁS EN LA
CLASE PARA LOGRAR EL OBJETIVO

¿Qué número es mayor que 88?

79 80 87 76 98

¿Qué número es menor que 34?

85 22 92 35 40

¿Qué número es mayor que 11?

5 8 10 7 12

¿Qué número es mayor que 63?

31 60 36 83 15

¿Qué número es menor que 77?


79 80 95 76 70

¿Qué número es mayor que 39?

33 18 25 46 12

RECREO CEREBRAL

ENCUENTRA LAS 5
DIFERENCIAS







EN ESTA OPORTUNIDAD DEBES
DESARROLLAR LAS PÁGINAS 32 Y 33
DEL LIBRO TOMO 2.



Escalera al éxito...





¿CUÁL ES LA SUMA REPRESENTADA EN LA IMAGEN?



A) $3 + 2$

B) $5 - 3$

C) $5 + 3$





SEÑALA LA ADICIÓN QUE NO TIENE EL MISMO RESULTADO.

$$12 + 4$$

$$A) 8 + 8$$

$$B) 10 + 6$$

$$C) 7 + 6$$





¡FELICITACIONES!



RINCÓN MATEMÁTICO...



Los Números 1 a 20

1 uno	2 dos	3 tres	4 cuatro
5 cinco	6 seis	7 siete	8 ocho
9 nueve	10 diez	11 once	12 doce
13 trece	14 catorce	15 quince	16 diez y seis
17 diez y siete	18 diez y ocho	19 diez y nueve	20 veinte

Adición y Sustracción

Operaciones básicas

Aurora de Chile

Formas en 2D mata focal

círculo	triángulo	rectángulo	óvalo
octógono	cuadrado	heptágono	
pentágono	hexágono		

Pasos para resolver PROBLEMAS

- LEO atentamente el enunciado.
- Busco la PREGUNTA y la subrayo de azul.
- Rodeo los DATOS de rojo y los DIBUJO.
- Pienso una ESTRATEGIA.
- Realizo las OPERACIONES.
- Escribo una oración con la SOLUCIÓN.
- Reviso y compruebo.
- Me felicito.

Las palabras izquierda, derecha, arriba, abajo, delante y atrás ayudan a indicar la posición donde se ubica una persona, animal o cosa respecto de ti.

Para medir la longitud de un objeto se pueden utilizar unidades de medida corporales u objetos. A estas unidades de medida se les llama informales.

Corporales		Objetos	
	Cuarta		Pie
	Pasos		Clip

Según su longitud, un objeto es más largo o más corto que otro.

DECENA:

Agrupación de diez unidades

⇒ 1 Decena de Pelotas

$10u = 1d$

u = Unidades
d = Decenas



Colegio Aurora
de Chile
CORMUN RANCAGUA



¡FELICITACIONES!
QUERIDOS NIÑOS Y NIÑAS! HICIERON
UN GRAN TRABAJO.
NOS VEMOS LA PRÓXIMA SEMANA PARA
SEGUIR APRENDIENDO.

RECUERDEN QUE LES EXTRAÑAMOS Y
QUEREMOS MUCHO!



ENSEÑANZA CENTRADA EN LA CALIDAD, AMOR Y DISCIPLINA