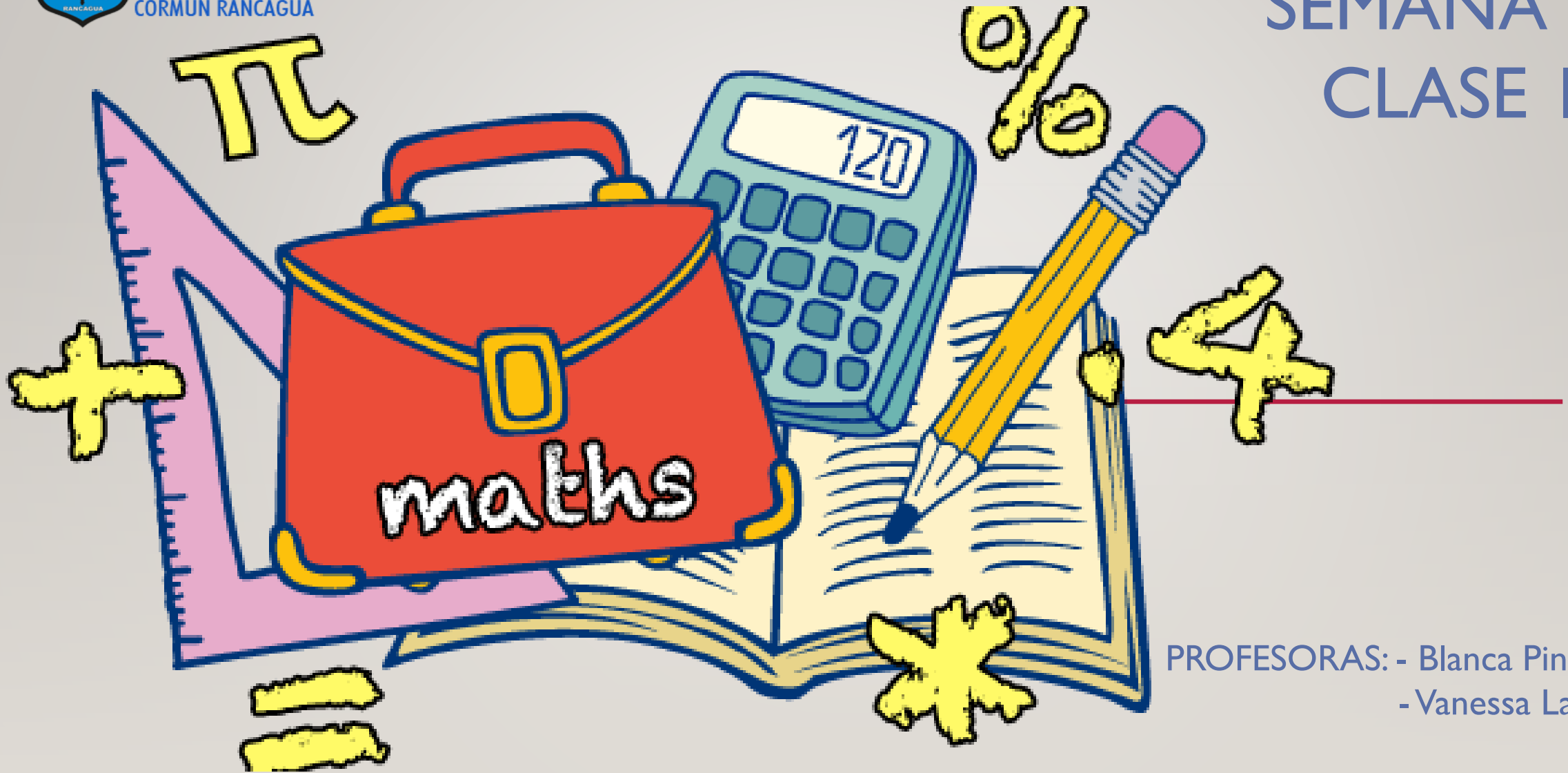




Colegio Aurora
de Chile
CORMUN RANCAGUA

SEMANA 36 CLASE I



PROFESORAS: - Blanca Pino
- Vanessa Laiño

ENSEÑANZA CENTRADA EN LA CALIDAD, AMOR Y DISCIPLINA



Colegio Aurora
de Chile
CORMUN RANCAGUA



BIENVENIDOS



A la asignatura de
Matemática

ENSEÑANZA CENTRADA EN LA CALIDAD, AMOR Y DISCIPLINA



Colegio Aurora
de Chile
CORMUN RANCAGUA



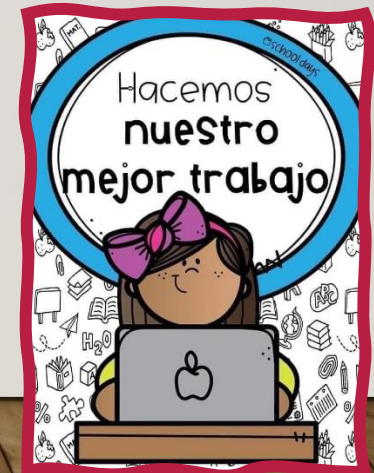
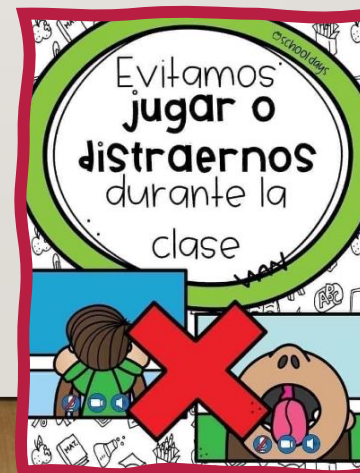
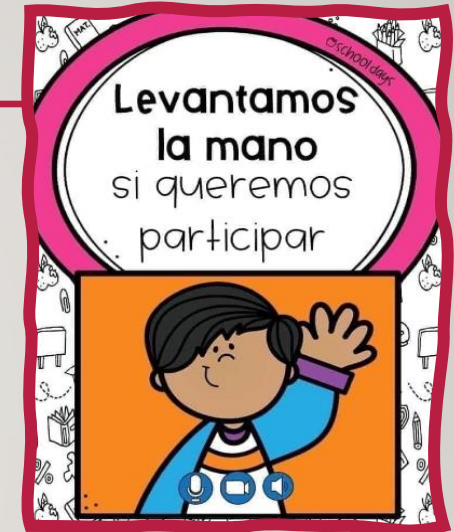
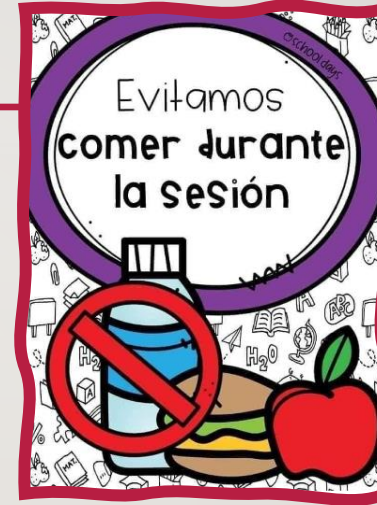
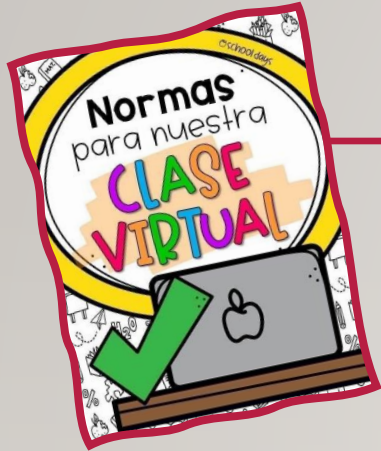
¡HOLA QUERIDOS ESTUDIANTES Y
APODERADOS! ESTA SEMANA SEGUIREMOS
APRENDIENDO NUEVAS COSAS. POR
FAVOR, SEGUIR CON ESE MARAVILLOSO
ENTUSIASMO Y ESFUERZO. NO OLVIDEN
PREGUNTAR ANTE CUALQUIER DUDA.

RECUERDEN QUE ILES EXTRAÑAMOS Y
QUEREMOS MUCHO!



ENSEÑANZA CENTRADA EN LA CALIDAD, AMOR Y DISCIPLINA

NORMAS DE TRABAJO VIRTUAL



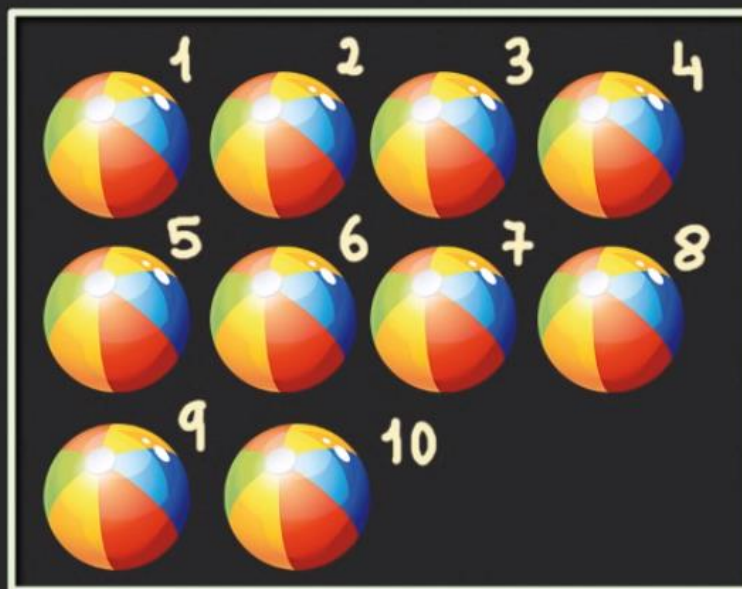
RECORDEMOS LAS
CLASES
ANTERIORES...



Decena. 1° de Primaria

DECENA:

Agrupación de diez unidades



⇒ 1 Decena de Pelotas

$$\underline{10u} = \underline{1d}$$

u = Unidades

d = Decenas



¿Qué
realizaremos
esta
semana?





¡A jugar descubriendo restas!



[HTTPS://LA.IXL.COM/MATH/1-GRADO/HALLAR-UN-N% C3% BAMERO-USANDO-RESTAS-N% C3% BAMEROS-HASTA-18](https://la.ixl.com/math/1-grado/hallar-un-n%C3%BAmero-usando-restas-n%C3%BAmeros-hasta-18)



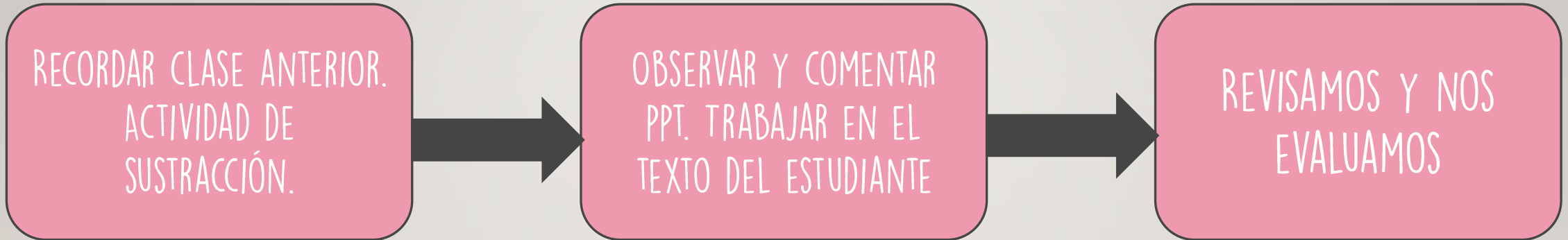
OBJETIVO DE HOY!



EJERCITAR NÚMEROS Y OPERACIONES,
MEDIANTE EL TEXTO DEL ESTUDIANTE,
MANIFESTANDO UN ESTILO DE TRABAJO
RIGUROSO Y PERSEVERANTE.



RUTA DE APRENDIZAJE...



LEE LA RUTA DE APRENDIZAJE PARA QUE
CONOZCAS QUÉ ACTIVIDADES REALIZARÁS EN LA
CLASE PARA LOGRAR EL OBJETIVO

¿QUÉ NÚMERO
CORRESPONDE EN
CADA CASO?

$$15 + \underline{\quad\quad} = 20$$

5

15

$$38 + \underline{\quad\quad} = 45$$

25

$$50 + \underline{\quad\quad} = 70$$

20

7

$$25 + \underline{\quad\quad} = 50$$

$$15 + \underline{\quad\quad} = 30$$



IDENTIFIQUEMOS
DECENAS Y
UNIDADES...

$$18 - \underline{\quad\quad} = 10$$

5

13

$$38 - \underline{\quad\quad} = 25$$

25

$$50 - \underline{\quad\quad} = 30$$

20

8


$$25 - \underline{\quad\quad} = 50$$

$$15 + \underline{\quad\quad} = 30$$



RECREO CEREBRAL


ENCUENTRA LAS 5
DIFERENCIAS







EN ESTA OPORTUNIDAD DEBES
DESARROLLAR LAS PÁGINAS 29 DE
TU CUADERNILLO DE ACTIVIDADES.





Escalera
al éxito...




¿CUÁL ES LA RESTA REPRESENTADA EN LA IMAGEN?

A) $11 + 5$

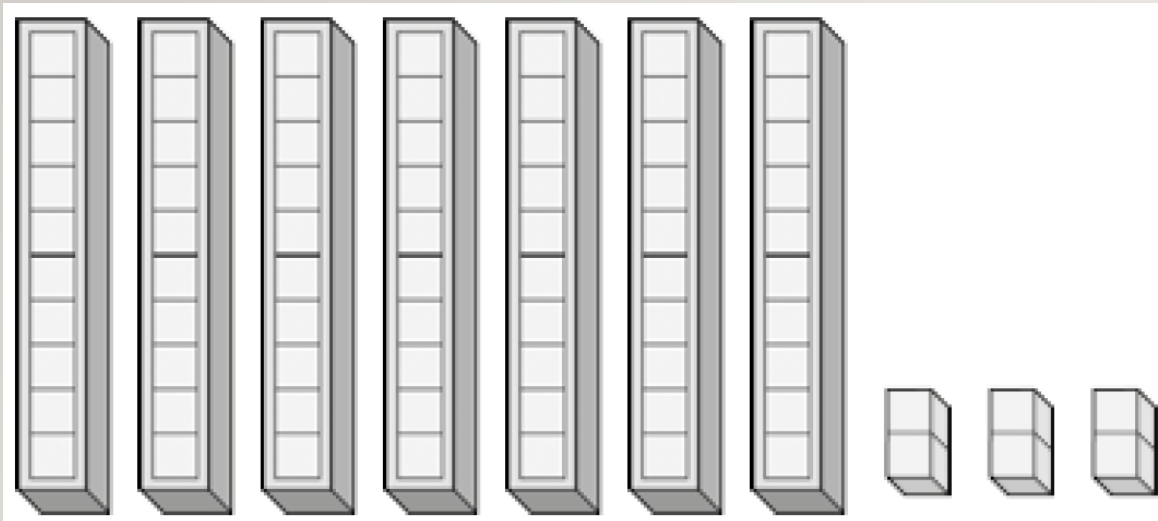
B) $11 - 5$

C) $10 - 5$





OBSERVA LA IMAGEN ¿QUÉ NÚMERO ESTÁ REPRESENTADO?



A) 73

B) 63

C) 76





¡FELICITACIONES!



RINCÓN MATEMÁTICO...



Los Números 1 a 20

1 uno	2 dos	3 tres	4 cuatro
5 cinco	6 seis	7 siete	8 ocho
9 nueve	10 diez	11 once	12 doce
13 trece	14 catorce	15 quince	16 diez y seis
17 diez y siete	18 diez y ocho	19 diez y nueve	20 veinte

Adición y Sustracción

Operaciones básicas

Aurora de Chile

Formas en 2D mata focal

círculo	triángulo	rectángulo	óvalo
octógono	cuadrado	heptágono	
pentágono	hexágono		

Pasos para resolver PROBLEMAS

- LEO atentamente el enunciado.
- Busco la PREGUNTA y la subrayo de azul.
- Rodeo los DATOS de rojo y los DIBUJO.
- Pienso una ESTRATEGIA.
- Realizo las OPERACIONES.
- Escribo una oración con la SOLUCIÓN.
- Reviso y compruebo.
- Me felicito.

Las palabras izquierda, derecha, arriba, abajo, delante y atrás ayudan a indicar la posición donde se ubica una persona, animal o cosa respecto de ti.

Para medir la longitud de un objeto se pueden utilizar unidades de medida corporales u objetos. A estas unidades de medida se les llama informales.

Corporales		Objetos	
Cuarta	Pie	Pasos	Clip

Según su longitud, un objeto es más largo o más corto que otro.

DECENA:

Agrupación de diez unidades

⇒ 1 Decena de Pelotas

$$10u = 1d$$

u = Unidades
d = Decenas



Colegio Aurora
de Chile
CORMUN RANCAGUA



¡FELICITACIONES!
QUERIDOS NIÑOS Y NIÑAS! HICIERON
UN GRAN TRABAJO.
NOS VEMOS LA PRÓXIMA SEMANA PARA
SEGUIR APRENDIENDO.

RECUERDEN QUE LES EXTRAÑAMOS Y
QUEREMOS MUCHO!



ENSEÑANZA CENTRADA EN LA CALIDAD, AMOR Y DISCIPLINA