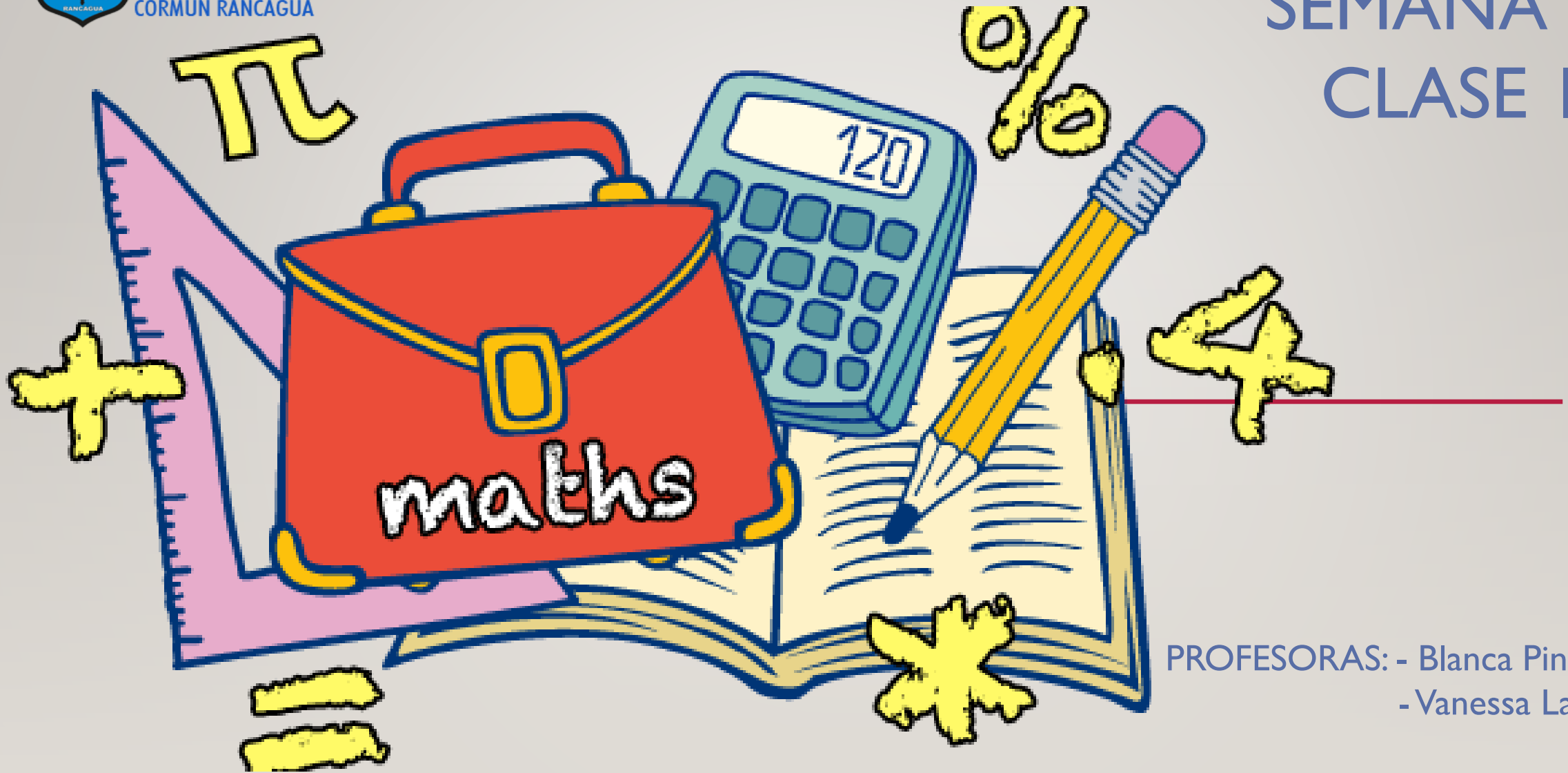




Colegio Aurora  
de Chile  
CORMUN RANCAGUA

# SEMANA 30 CLASE I



PROFESORAS: - Blanca Pino  
- Vanessa Laiño

ENSEÑANZA CENTRADA EN LA CALIDAD, AMOR Y DISCIPLINA



Colegio Aurora  
de Chile  
CORMUN RANCAGUA



**BIENVENIDOS**



A la asignatura de  
**Matemática**

ENSEÑANZA CENTRADA EN LA CALIDAD, AMOR Y DISCIPLINA



Colegio Aurora  
de Chile  
CORMUN RANCAGUA



¡HOLA QUERIDOS ESTUDIANTES Y  
APODERADOS! ESTA SEMANA SEGUIREMOS  
APRENDIENDO NUEVAS COSAS. POR  
FAVOR, SEGUIR CON ESE MARAVILLOSO  
ENTUSIASMO Y ESFUERZO. NO OLVIDEN  
PREGUNTAR ANTE CUALQUIER DUDA.

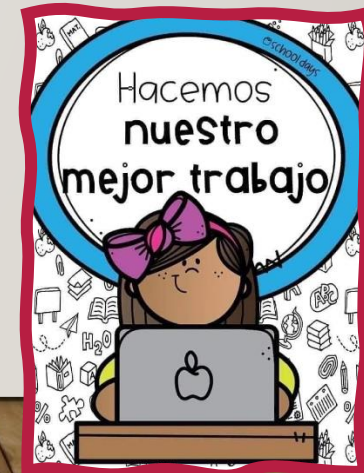
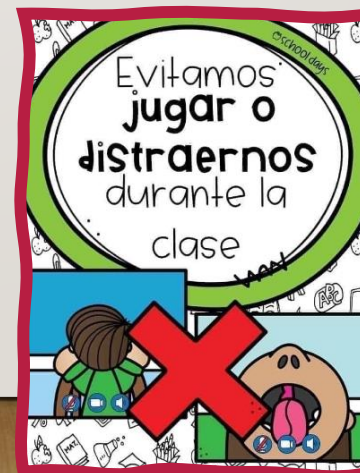
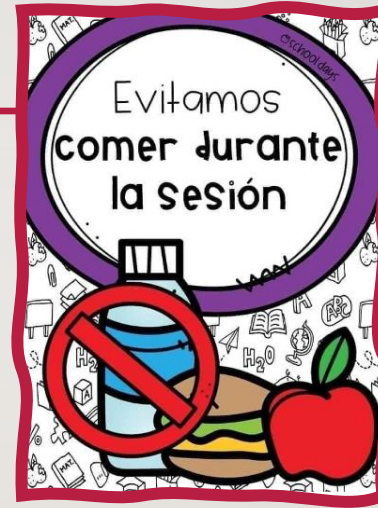
RECUERDEN QUE ILES EXTRAÑAMOS Y  
QUEREMOS MUCHO!



ENSEÑANZA CENTRADA EN LA CALIDAD, AMOR Y DISCIPLINA



# NORMAS DE TRABAJO VIRTUAL





# Pasos para resolver PROBLEMAS

RECORDEMOS  
LA CLASE  
ANTERIOR



**1** LEO atentamente el enunciado.



**2** Busco la PREGUNTA y la subrayo de azul.



**3** Rodeo los DATOS de rojo y los DIBUJO



**4** Pienso una ESTRATEGIA

$$\begin{array}{r} 2 \\ + 3 \\ \hline 5 \end{array}$$

**5** Realizo las OPERACIONES

Solución



**6** Escribo una oración con la SOLUCIÓN




**7** Reviso y compruebo.



**8** Me felicito.

Estos



Si tengo 4 perros, 5 gatos y 12 gallinas,  
¿Cuántos animales tengo en total?



¿V o F?

1. \_\_\_\_ LOS DATOS QUE DEBO RODEAR SON LAS 12 GALLINAS Y LOS 4 PERROS.
2. \_\_\_\_ LO PRIMERO QUE DEBO HACER ANTE UN PROBLEMA ES PENSAR EN UNA ESTRATEGIA.
3. \_\_\_\_ DEBO SUBRAYAR CON AZUL LA PREGUNTA ¿CUÁNTOS ANIMALES TENGO EN TOTAL?
4. \_\_\_\_ LA OPERACIÓN PARA RESOLVER ESTE PROBLEMA ES LA SUSTRACCIÓN O RESTA.
5. \_\_\_\_ LA SOLUCIÓN DE ESTE PROBLEMA ES : TENGO 17 ANIMALES EN TOTAL.
6. \_\_\_\_ LO ÚLTIMO QUE DEBO HACER ES FELICITARME.
7. \_\_\_\_ NO SIRVE PENSAR EN UNA ESTRATEGIA.





¿Qué  
realizaremos  
esta  
semana?





**1** **LEE** el  
enunciado!  
(MUY ATENTAMENTE!)





RUBI  
KIDS  


**2** Busca la  
**PREGUNTA**





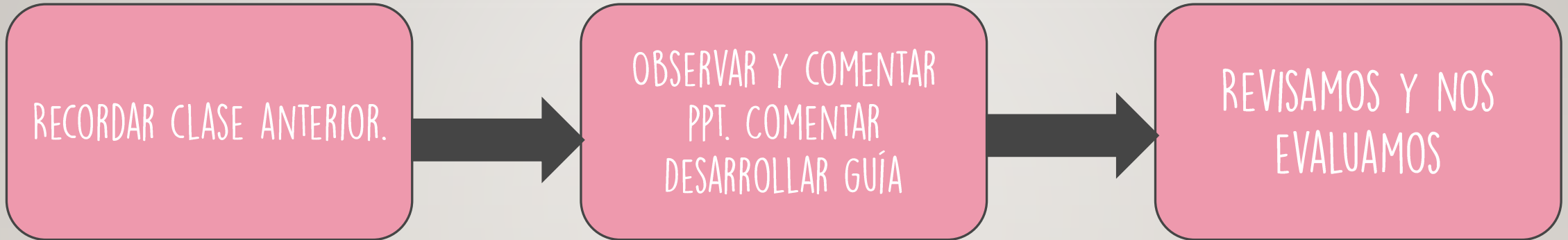
# OBJETIVO DE HOY!



REFORZAR PROCESO DE RESOLUCIÓN DE PROBLEMAS MATEMÁTICOS, A TRAVÉS DEL DESARROLLO DE GUÍA, DEMOSTRANDO CURIOSIDAD E INTERÉS EN EL APRENDIZAJE.



# RUTA DE APRENDIZAJE...



LEE LA RUTA DE APRENDIZAJE PARA QUE CONOZCAS QUÉ ACTIVIDADES REALIZARÁS EN LA CLASE PARA LOGRAR EL OBJETIVO



APLIQUEMOS LOS  
PASOS PARA RESOLVER

MIGUEL TRABAJA COMO JARDINERO Y PLANTÓ 18 FLORES EN UN JARDÍN. DE ELLAS 7 FLORECIERON DE COLOR AZUL Y EL RESTO, DE COLOR AMARILLO.

¿CUÁNTAS FLORES FLORECIERON DE COLOR AMARILLO?

SUMA

~~RESTA~~

$$\begin{array}{r} \text{D} \quad \text{U} \\ 1 \quad 8 \\ - \quad 7 \\ \hline 1 \quad 1 \end{array}$$

Respuesta:

Florecieron 11 flores de color amarillo.

MUCHAS  
FELICIDADES

APLIQUEMOS LOS  
PASOS PARA RESOLVER

MARÍA INFLA 12 GLOBOS PARA UNA FIESTA DE CUMPLEAÑOS, PERO  
AUN LE FALTAN 5 GLOBOS POR INFLAR.  
¿CUÁNTOS GLOBOS INFLARÁ MARÍA EN TOTAL?



~~SUMA~~

RESTA

$$\begin{array}{r} \text{D} \quad \text{U} \\ 1 \quad 2 \\ - \quad 5 \\ \hline 1 \quad 7 \end{array}$$

Respuesta:

María inflará 17 globos en total.

MUCHAS  
FELICIDADES



APLIQUEMOS LOS  
PASOS PARA RESOLVER

JAVIERA ABRE EL REFRIGERADOR DE SU CASA Y CUENTA 17  
HUEVOS. SACÓ 7 HUEVOS PARA PREPARAR PARA ELLA  
Y SUS HERMANOS.

¿QUÉ CANTIDAD DE HUEVOS QUE QUEDAN EN EL REFRIGERADOR?

SUMA

~~RESTA~~

$$\begin{array}{r} \text{D} \quad \text{U} \\ 1 \quad 7 \\ - \quad 7 \\ \hline 1 \quad 0 \end{array}$$

Respuesta:


Quedan 10 huevos en el refrigerador.

MUCHAS  
FELICIDADES

# RECREO CEREBRAL

ENCUENTRA EL REPETIDO

54	15	18	75	82	48
90	68	82	28	43	46
91	21	43	57	74	92
73	45	85	88	98	92
51	70	58	37	23	16
95	72	13	69	24	43










EN ESTA OPORTUNIDAD DEBES  
DESCARGAR LA GUÍA Y  
DESARROLLAR





# Escalera al éxito...





FELIPE TIENE 10 BOLITAS Y LE REGANA 5 MÁS  
¿CUÁNTAS BOLITAS TIENE EN TOTAL?



A) 12

B) 15

C) 14



JAVIER TIENE 10 GALLETAS Y SE  
COMIÓ 3 ¿CUÁNTAS GALLETAS  
TIENE AHORA?



A) 5 GALLETAS

B) 10 GALLETAS

C) 7 GALLETAS



# RINCÓN MATEMÁTICO...



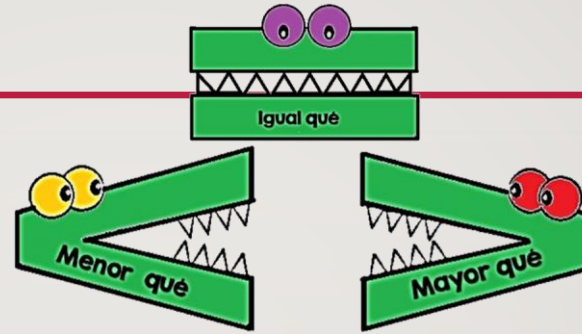
## Los Números 1 a 20

1 uno	2 dos	3 tres	4 cuatro
5 cinco	6 seis	7 siete	8 ocho
9 nueve	10 diez	11 once	12 doce
13 trece	14 catorce	15 quince	16 diez y seis
17 diez y siete	18 diez y ocho	19 diez y nueve	20 veinte

## Adición y Sustracción

Operaciones básicas

Aurora de Chile




### Formas en 2D mata focal

círculo	triángulo	rectángulo	óvalo
octógono	cuadrado	heptágono	
	pentágono	hexágono	

### Las palabras izquierda, derecha, arriba, abajo, delante y atrás ayudan a indicar la posición donde se ubica una persona, animal o cosa respecto de ti.

Para medir la longitud de un objeto se pueden utilizar unidades de medida corporales u objetos. A estas unidades de medida se les llama informales.



Según su longitud, un objeto es más largo o más corto que otro.

PRISMAS	PIRAMIDES
CILINDROS	CONOS
ESFERAS	





¡FELICITACIONES!





Colegio Aurora  
de Chile  
CORMUN RANCAGUA



¡FELICITACIONES!  
QUERIDOS NIÑOS Y NIÑAS! HICIERON  
UN GRAN TRABAJO.  
NOS VEMOS LA PRÓXIMA SEMANA PARA  
SEGUIR APRENDIENDO.  
  
RECUERDEN QUE LES EXTRAÑAMOS Y  
QUEREMOS MUCHO!



ENSEÑANZA CENTRADA EN LA CALIDAD, AMOR Y DISCIPLINA