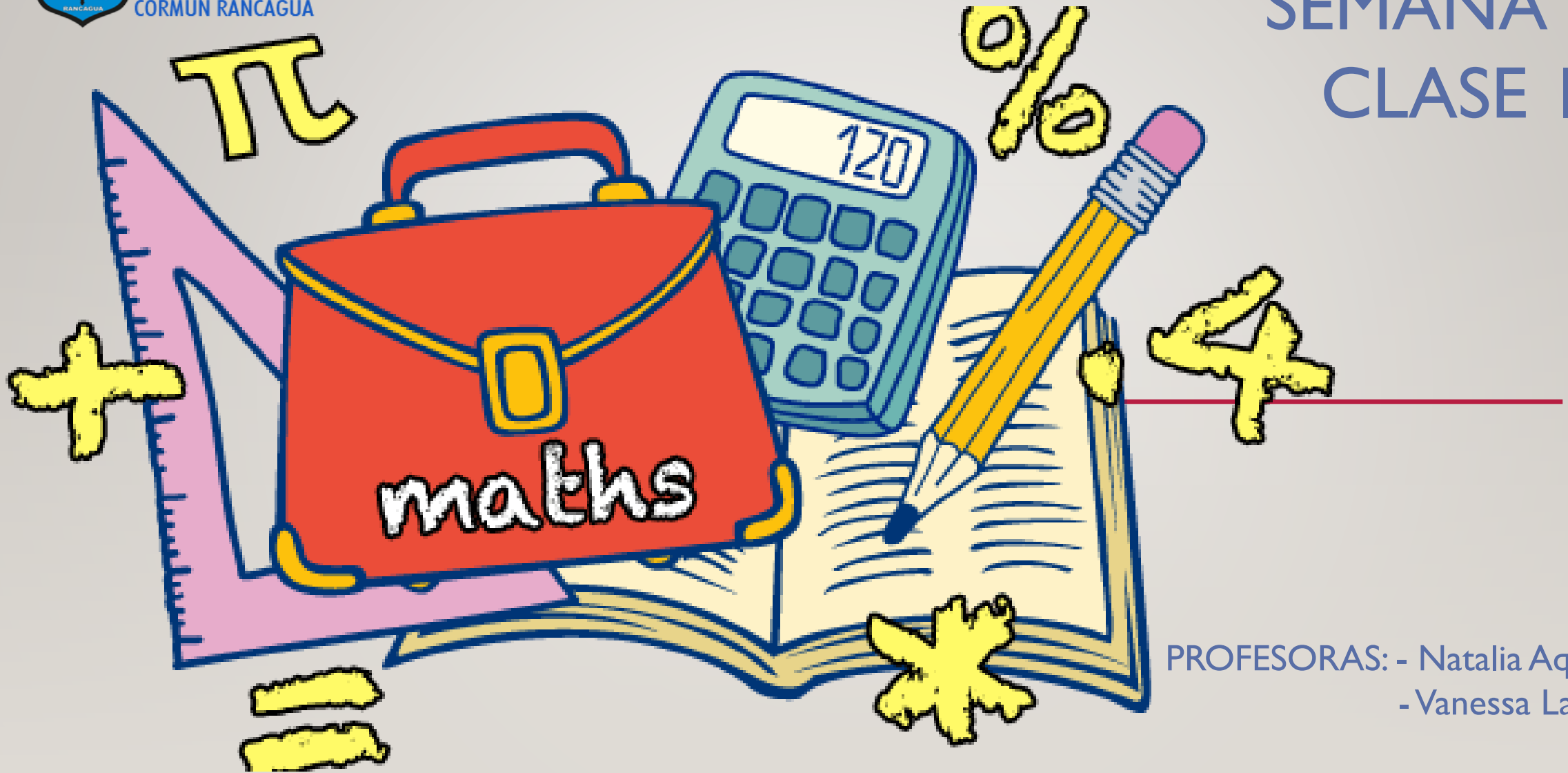




Colegio Aurora  
de Chile  
CORMUN RANCAGUA

# SEMANA 28

## CLASE I



PROFESORAS: - Natalia Aqueveque  
- Vanessa Laiño

ENSEÑANZA CENTRADA EN LA CALIDAD, AMOR Y DISCIPLINA



Colegio Aurora  
de Chile  
CORMUN RANCAGUA



**BIENVENIDOS**



A la asignatura de  
**Matemática**

ENSEÑANZA CENTRADA EN LA CALIDAD, AMOR Y DISCIPLINA



Colegio Aurora  
de Chile  
CORMUN RANCAGUA



¡HOLA QUERIDOS ESTUDIANTES Y  
APODERADOS! ESTA SEMANA SEGUIREMOS  
APRENDIENDO NUEVAS COSAS. POR  
FAVOR, SEGUIR CON ESE MARAVILLOSO  
ENTUSIASMO Y ESFUERZO. NO OLVIDEN  
PREGUNTAR ANTE CUALQUIER DUDA.

RECUERDEN QUE ILES EXTRAÑAMOS Y  
QUEREMOS MUCHO!




ENSEÑANZA CENTRADA EN LA CALIDAD, AMOR Y DISCIPLINA



# NORMAS DE TRABAJO VIRTUAL

**Pedimos ayuda a un adulto de ser necesario.**



 Normas trabajo Virtual

**Escucho con atención y respeto a quien habla.**



 Normas trabajo Virtual

**Participamos activamente del encuentro de aprendizaje.**



 Normas trabajo Virtual

**Estudiamos y hacemos las actividades antes del encuentro.**



 Normas trabajo Virtual


**Mantenemos al alcance el material de la clase que corresponda.**



 Normas trabajo Virtual

**Somos puntuales en los horarios de conexión.**



 Normas trabajo Virtual

**SILENCIAR MICRÓFONO CUANDO LA PROFESORA LO INDIQUE**

# ¿QUÉ NECESITAS PARA DESARROLLAR ESTA CLASE?




LÁPIZ DE MINA



LÁPIZ ROJO PARA MAYÚSCULAS



GOMA DE BORRAR



CUADERNO DE ASIGNATURA



TEXTO ESCOLAR



UN LUGAR CÓMODO PARA ESTUDIAR

LO QUE TENGAS EN CASA...



COMPUTADORA



TABLET



CELULAR

E  
S  
E  
N  
C  
I  
A  
L



RECORDEMOS...

LOS NÚMEROS TIENEN UN ANTECESOR Y UN SUCESOR, ES DECIR, UN NÚMERO MENOR QUE VA ANTES Y UN NÚMERO MAYOR QUE VA DESPUÉS

- El **antecesor** de un número es **1 unidad menos** que el número.

Antecesor

D	U
4	4



Número

D	U
4	5

- El **sucesor** de un número es **1 unidad más** que el número.

Número

D	U
4	5



Sucesor

D	U
4	6





¿Qué  
realizaremos  
esta  
semana?



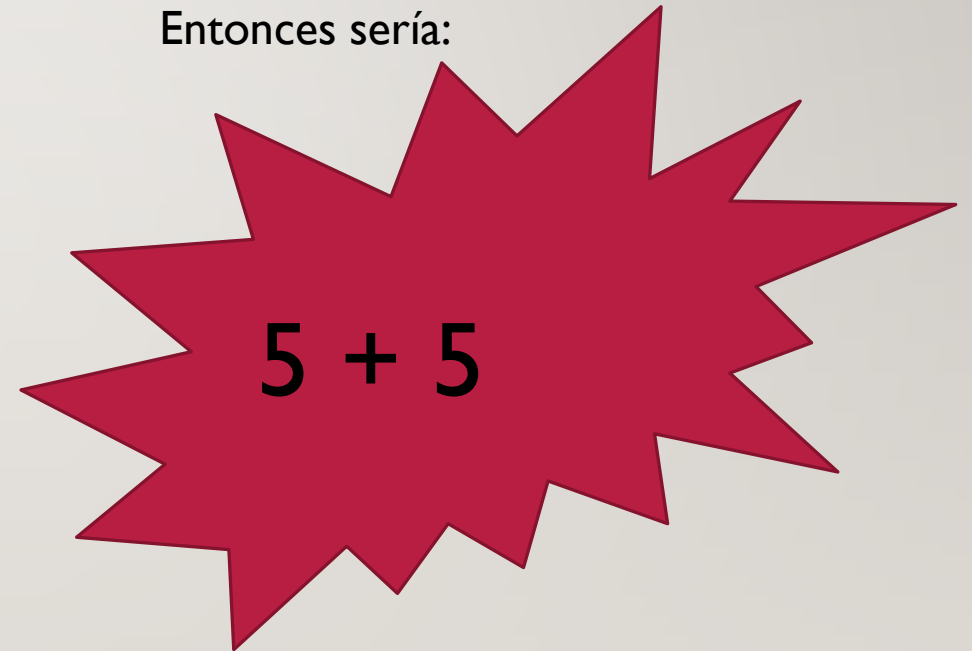
# "HAREMOS UN JUEGO UTILIZANDO NUESTRAS MANOS"

OBSERVA ESTE EJEMPLO: SEGÚN LA CANTIDAD DE DEDOS LEVANTADOS SON LOS NÚMEROS QUE DEBO IDENTIFICAR.

---



Entonces sería:

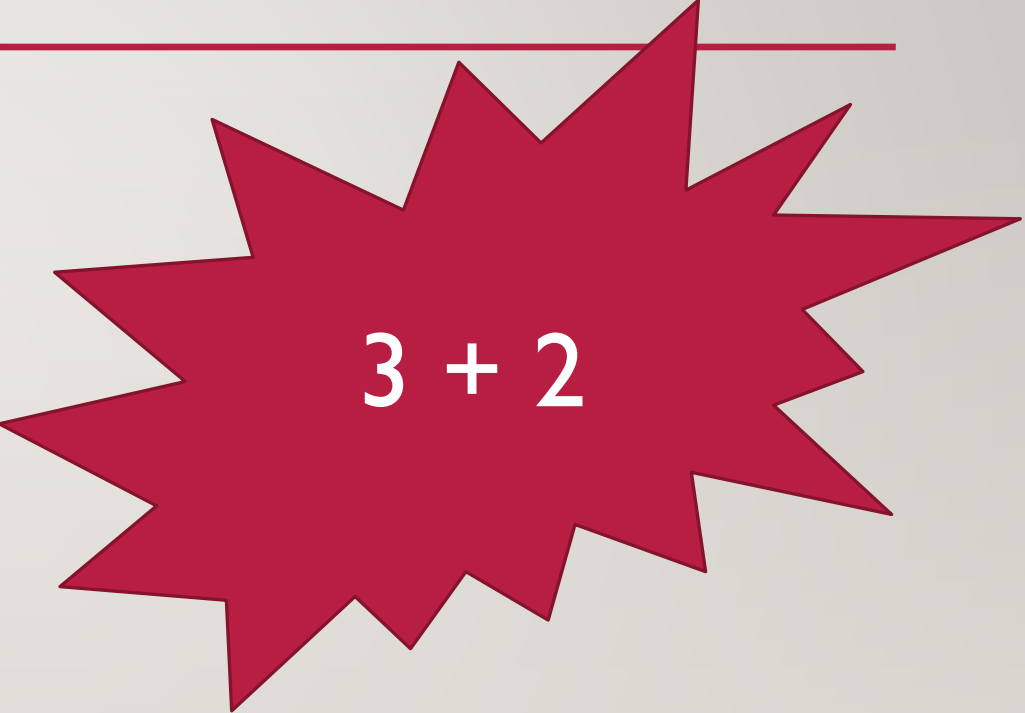
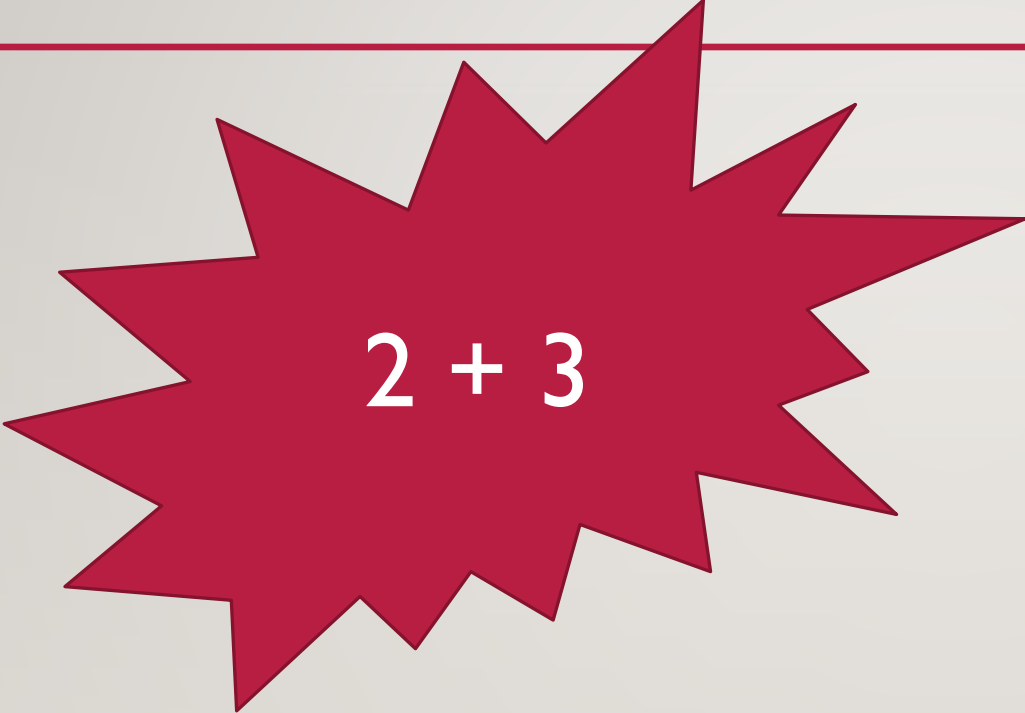




USTEDES EN SU CUADERNO DEBEN ESCRIBIR QUÉ  
NUMEROS OBSERVAN EN LOS DEDOS LEVANTADOS:

---





**USTEDES EN SU CUADERNO DEBEN ESCRIBIR QUÉ  
NÚMEROS OBSERVAN EN LOS DEDOS LEVANTADOS:**


---







ENCUENTRA LA  
ADICIÓN  
CORRESPONDIENTE  
A CADA NÚMERO.



10 + 4

10 + 1

10 + 5

10 + 2

10 + 8

11

14

10

13

15

16

20

12

18

19

10 + 3

10 + 0

10 + 6



10 + 9

20 + 0






# OBJETIVO DE HOY!

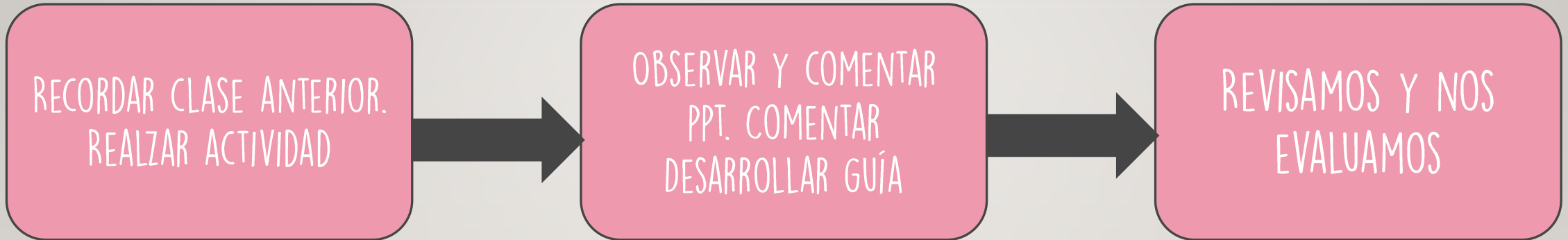


COMPONER Y DESCOMPONER NÚMERO DE  
MANERA ADITIVA, MEDIANTE EL DESARROLLO  
DE GUÍA, DEMOSTRANDO CURIOSIDAD E  
INTERÉS EN EL APRENDIZAJE.





# RUTA DE APRENDIZAJE...



LEE LA RUTA DE APRENDIZAJE PARA QUE  
CONOZCAS QUÉ ACTIVIDADES REALIZARÁS EN LA  
CLASE PARA LOGRAR EL OBJETIVO

RECORDEMOS...

El **valor** de un **dígito** depende de la **posición** que ocupe en un número. Este valor se llama **valor posicional**.

D	U
7	8

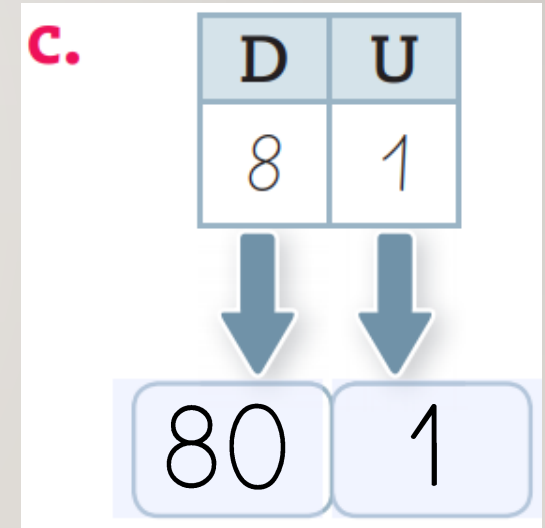
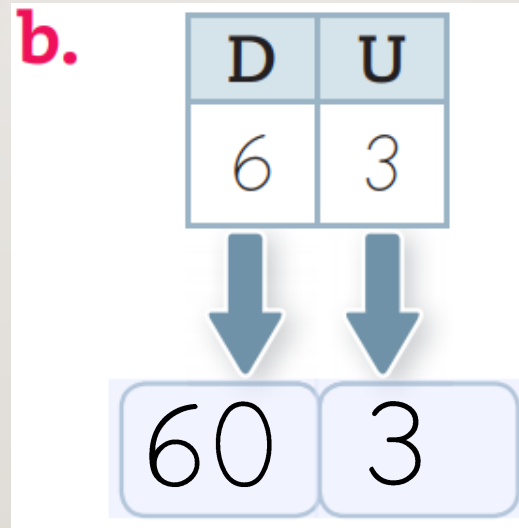
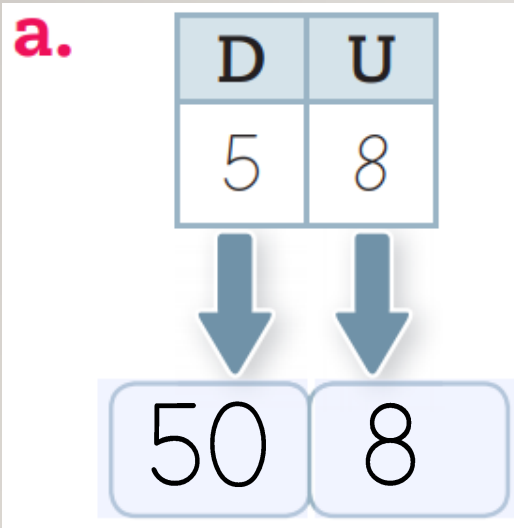
Valor posicional de 8 unidades, porque está en la posición de la **unidad**.

D	U
8	7

Valor posicional de 80 unidades u 8 decenas, porque está en la posición de la **decena**.



EL VALOR POSICIONAL  
DE CADA NÚMERO ES:





¿SABÍAS QUÉ...?

Un número se puede **componer** y **descomponer** de manera **aditiva**.

65



Se **descompone**:

- Según el **nombre** de la posición:

6 D + 5 U

- Según el **valor** posicional:

60 + 5

60 + 5

0

6 D + 5 U



Se **compone**:

65



## COMPONER

**a.**  $3D + 3U$

**b.**  $8D + 9U$

## DESCOMPONER

**a.** 48

 D +  U

**b.** 62

 D +  U

## DESCOMPONER

**a.** 19

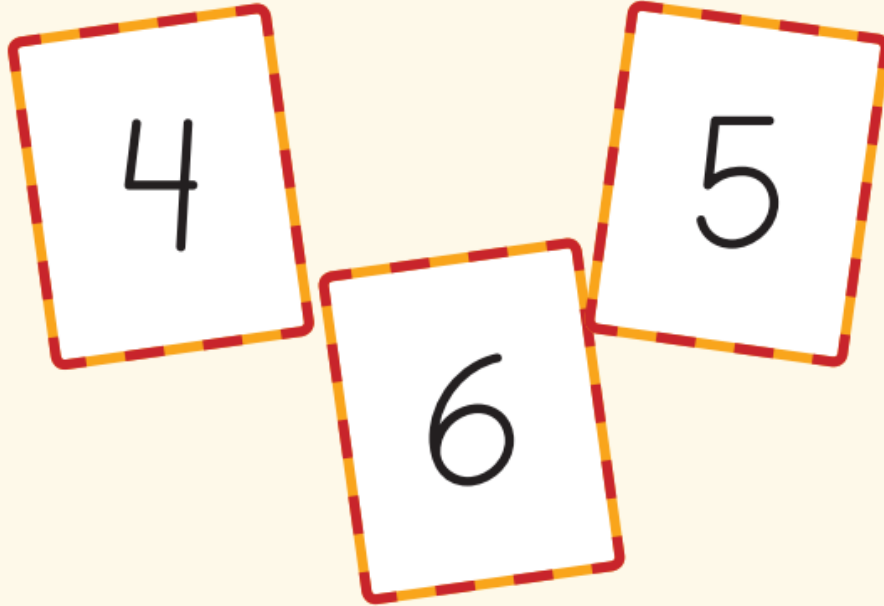
 + 

**b.** 51

 +


# RECREO CEREBRAL

Analiza los dígitos de las tarjetas y responde.



- ¿Cuál es el **número mayor** de dos cifras que se puede formar sin repetir los dígitos?

- ¿Cuál es el **número menor** de dos cifras que se puede formar sin repetir los dígitos?










EN ESTA OPORTUNIDAD DEBES  
DESCARGAR LA GUÍA Y  
DESARROLLAR





# Escalera al éxito...





NÚMERO EN QUE EL DÍGITO 4 TENGA VALOR POSICIONAL DE 40 UNIDADES.



A) 35

B) 43

C) 54



¿CUÁL ES LA COMPOSICIÓN DE  
 $70 + 4$ ?



A) 47

B) 64

C) 74



# RINCÓN MATEMÁTICO...



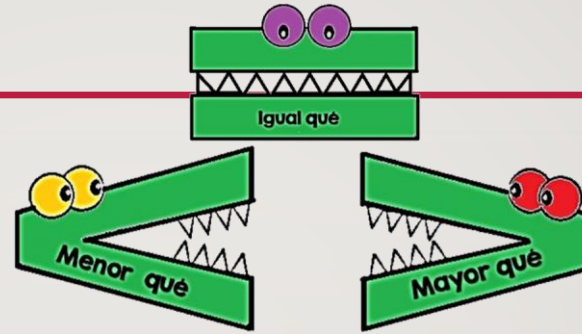
## Los Números 1 a 20

1 uno	2 dos	3 tres	4 cuatro
5 cinco	6 seis	7 siete	8 ocho
9 nueve	10 diez	11 once	12 doce
13 trece	14 catorce	15 quince	16 diez y seis
17 diez y siete	18 diez y ocho	19 diez y nueve	20 veinte

## Adición y Sustracción

Operaciones básicas

Aurora de Chile




### Formas en 2D mata focal

círculo	triángulo	rectángulo	óvalo
octógono	cuadrado	heptágono	
	pentágono	hexágono	

### Las palabras izquierda, derecha, arriba, abajo, delante y atrás ayudan a indicar la posición donde se ubica una persona, animal o cosa respecto de ti.

Para medir la longitud de un objeto se pueden utilizar unidades de medida corporales u objetos. A estas unidades de medida se les llama informales.



Según su longitud, un objeto es más largo o más corto que otro.

PRISMAS	PIRAMIDES
CILINDROS	CONOS
ESFERAS	





¡FELICITACIONES!





Colegio Aurora  
de Chile  
CORMUN RANCAGUA



¡FELICITACIONES!  
QUERIDOS NIÑOS Y NIÑAS! HICIERON  
UN GRAN TRABAJO.  
NOS VEMOS LA PRÓXIMA SEMANA PARA  
SEGUIR APRENDIENDO.  
  
RECUERDEN QUE LES EXTRAÑAMOS Y  
QUEREMOS MUCHO!



ENSEÑANZA CENTRADA EN LA CALIDAD, AMOR Y DISCIPLINA