

GUÍA MATEMÁTICA

1. Une cada número con la descomposición correspondiente.

D	U
8	5

D	U
5	8

D	U
5	6

D	U
6	5

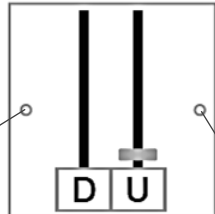
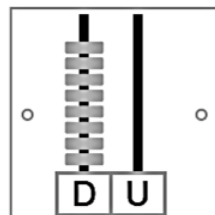
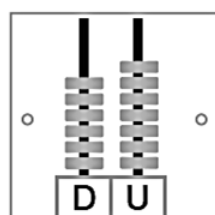
60 + 5

50 + 8

80 + 5

50 + 6

2. Une con la representación en el ábaco y su descomposición.

80 ◦		◦ 6 D + 7 U
1 ◦		◦ 8 D + 0 U
67		◦ 0 D + 1 U
		

3. Descompón los siguientes números:

a.

D	U
4	5

 ▶

4	5	40	5
5			
40	5		
5			

b.

D	U
3	7

 ▶

c.

D	U
7	4

 ▶

d.

D	U
2	4

 ▶
