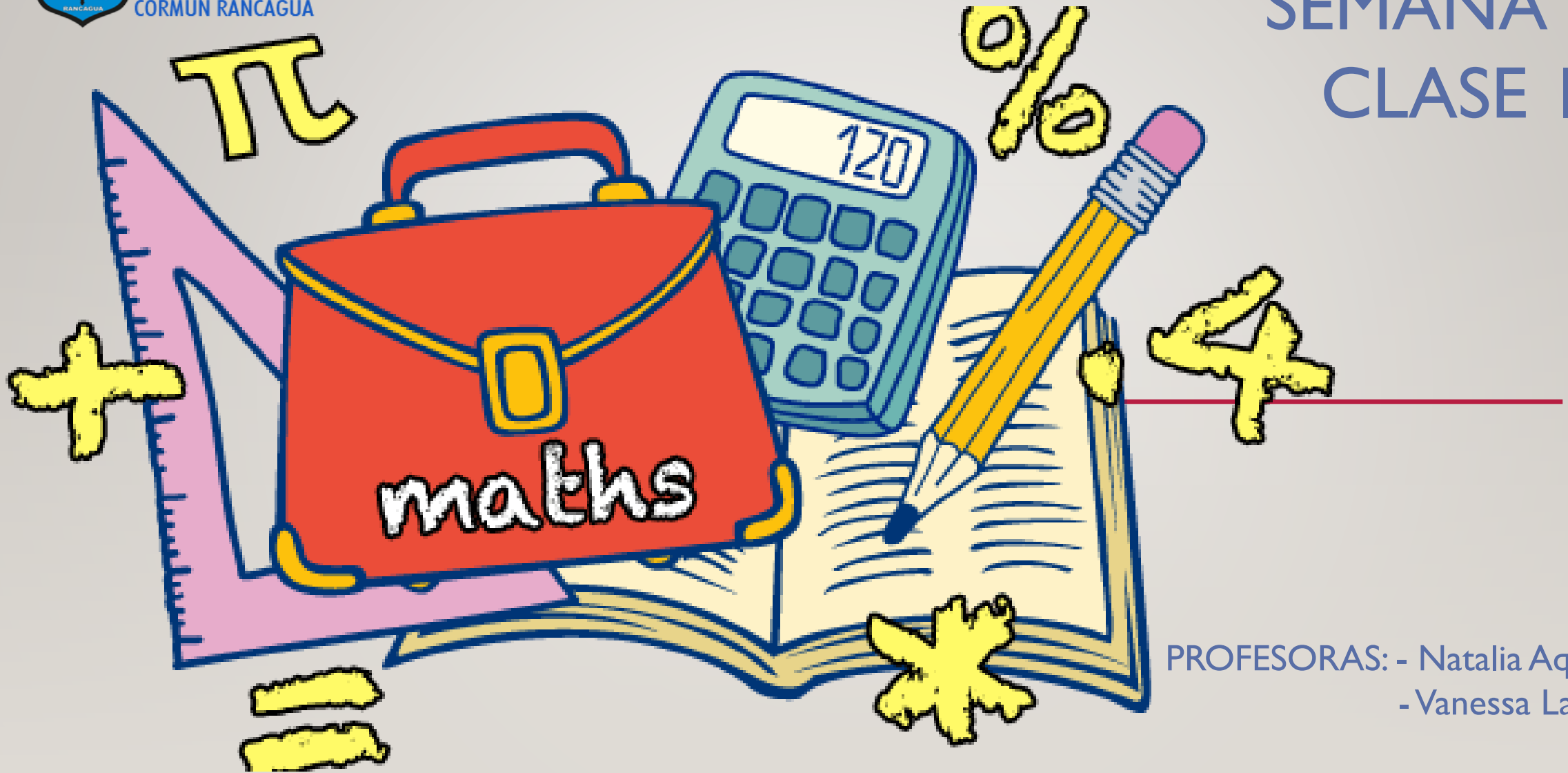




Colegio Aurora
de Chile
CORMUN RANCAGUA

SEMANA 26

CLASE I



PROFESORAS: - Natalia Aqueveque
- Vanessa Laiño

ENSEÑANZA CENTRADA EN LA CALIDAD, AMOR Y DISCIPLINA



Colegio Aurora
de Chile
CORMUN RANCAGUA



BIENVENIDOS



A la asignatura de
Matemática

ENSEÑANZA CENTRADA EN LA CALIDAD, AMOR Y DISCIPLINA



Colegio Aurora
de Chile
CORMUN RANCAGUA



¡HOLA QUERIDOS ESTUDIANTES Y
APODERADOS! ESTA SEMANA SEGUIREMOS
APRENDIENDO NUEVAS COSAS. POR
FAVOR, SEGUIR CON ESE MARAVILLOSO
ENTUSIASMO Y ESFUERZO. NO OLVIDEN
PREGUNTAR ANTE CUALQUIER DUDA.

RECUERDEN QUE ILES EXTRAÑAMOS Y
QUEREMOS MUCHO!



ENSEÑANZA CENTRADA EN LA CALIDAD, AMOR Y DISCIPLINA

NORMAS DE TRABAJO VIRTUAL

Pedimos ayuda a un adulto de ser necesario.



 Normas trabajo Virtual

Escucho con atención y respeto a quien habla.



 Normas trabajo Virtual

Participamos activamente del encuentro de aprendizaje.



 Normas trabajo Virtual

Estudiamos y hacemos las actividades antes del encuentro.



 Normas trabajo Virtual


Mantenemos al alcance el material de la clase que corresponda.



 Normas trabajo Virtual

Somos puntuales en los horarios de conexión.



 Normas trabajo Virtual

**SILENCIAR MICRÓFONO
CUANDO LA PROFESORA
LO INDIQUE**

¿QUÉ NECESITAS PARA DESARROLLAR ESTA CLASE?




LÁPIZ DE MINA



LÁPIZ ROJO PARA MAYÚSCULAS



GOMA DE BORRAR



CUADERNO DE ASIGNATURA



TEXTO ESCOLAR



UN LUGAR CÓMODO PARA ESTUDIAR

LO QUE TENGAS EN CASA...



COMPUTADORA



TABLET




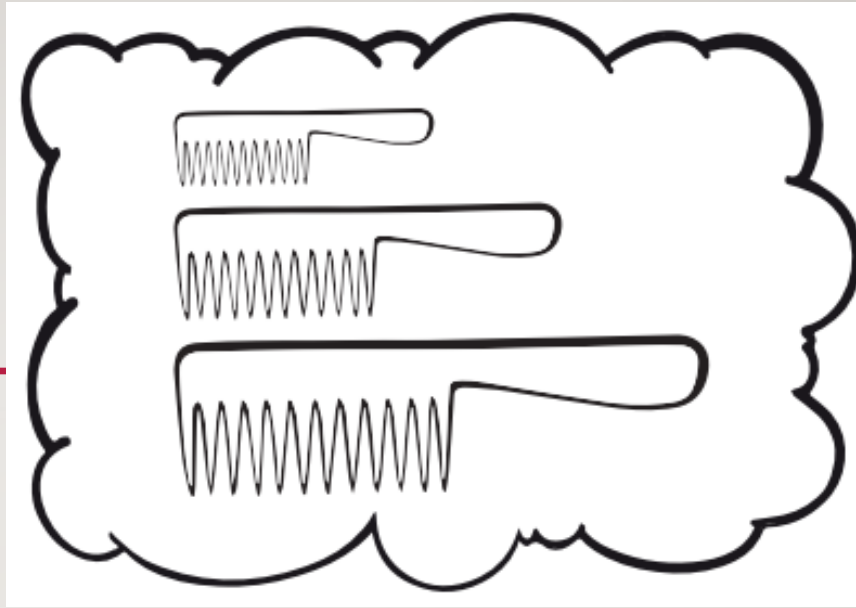
CELULAR

E
S
E
N
C
I
A
L

¿CUÁL
MIDE MÁS?

LARGO

CORTO



LARGO

CORTO





¿Qué
realizaremos
esta
semana?

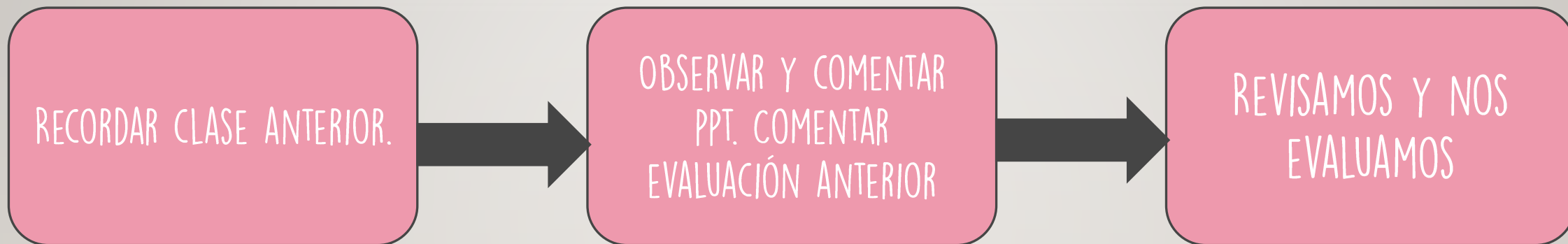




OBJETIVO DE HOY!



Retroalimentar control
formativo, mediante power
point, manifestando interés
y curiosidad en el
aprendizaje.

RUTA DE APRENDIZAJE...



LEE LA RUTA DE APRENDIZAJE PARA QUE CONOZCAS QUÉ ACTIVIDADES REALIZARÁS EN LA CLASE PARA LOGRAR EL OBJETIVO

CON AYUDA DE TUS TARJETAS, VAMOS A IR
RESPONDIENDO A LA RETROALIMENTACIÓN DE LA PRUEBA.

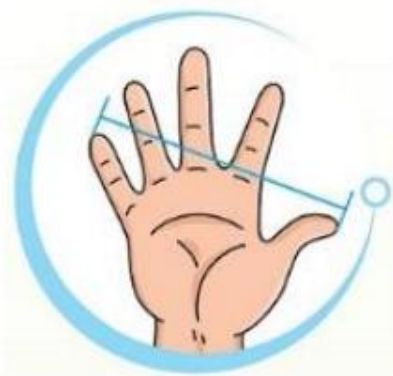


1. ¿Qué es una **longitud**?

- a) Distancia que hay entre dos puntos.
- b) Diferencia entre figuras 2D y 3D
- c) Ubicación de los objetos.

3. La siguiente imagen corresponde a:

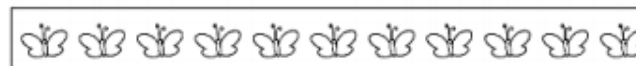
- a) Un centímetro
- b) Una cuarta
- c) Un paso



2. ¿Qué son las medidas **no** estandarizadas?

- a) Unidades formales para calcular
- b) Unidades informales para medir
- c) Unidades usadas para calcular

6. Observa y señala cuál es la medida del hueso.



- a) 9 mariposas
- b) 7 mariposas
- c) 8 mariposas

7. Observa la imagen y luego indica ¿Dónde está ubicado el **árbol**?



- a) A tu derecha
- b) A tu izquierda
- c) Detrás de ti

10. ¿En qué posición está la **pelota**?




- a) A la derecha de la niña
- b) Atrás de la niña
- c) A la izquierda de la niña

RECREO CEREBRAL

ENCUENTRA EL DIFERENTE

5



11. A la **derecha** de la pelota está:



- a) La estrella
- b) La manzana
- c) La pelota

12. A la **izquierda** del triángulo está:



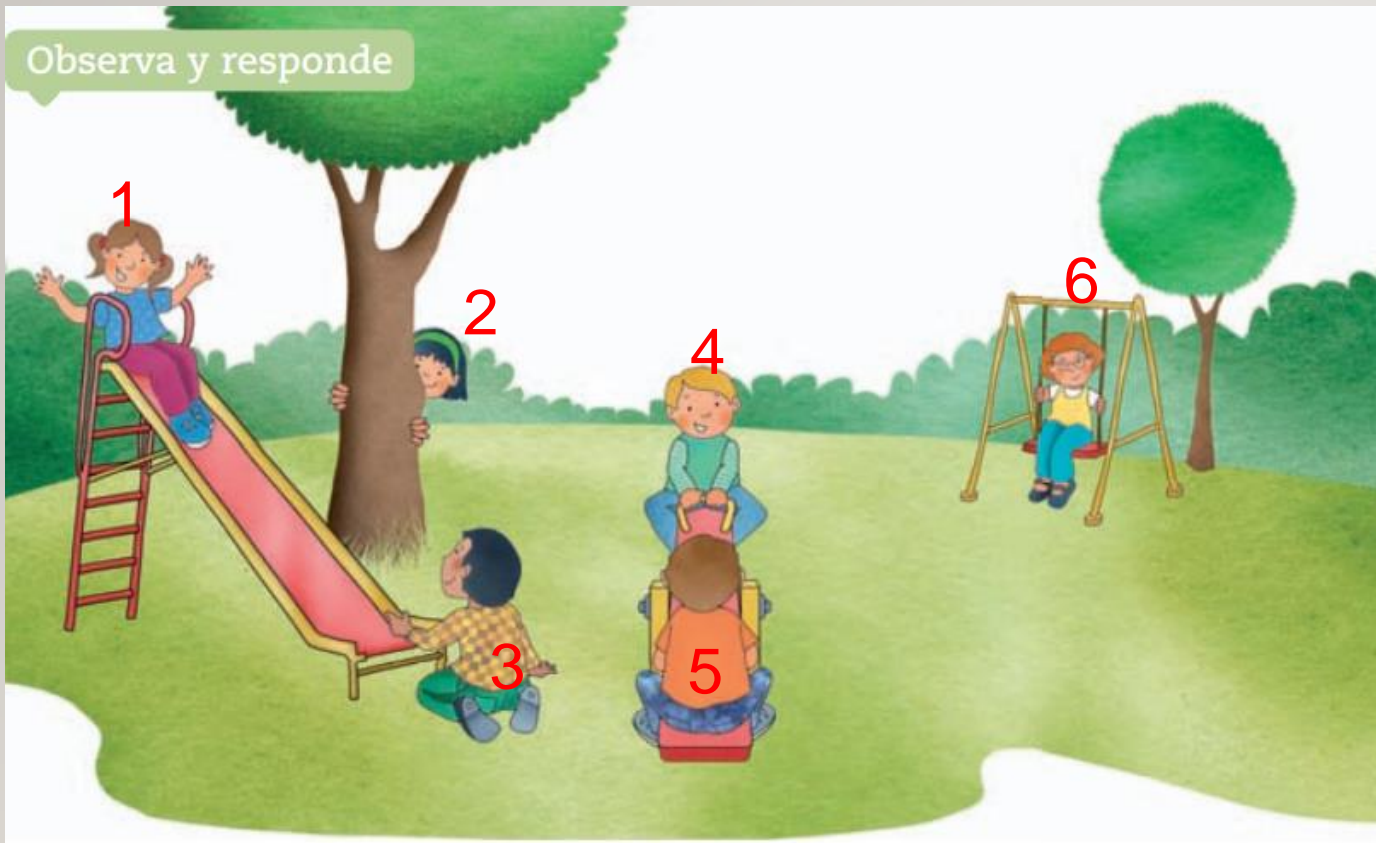
- a) El gato
- b) La mariposa
- c) El triángulo

13. En la imagen, la bicicleta está:



- a) A la derecha de la niña
- b) A la derecha del niño
- c) A la izquierda del niño

Observa y responde



14. Si estuvieras en la posición 5 ¿Qué juego estaría a **tu izquierda**?



- a) El columpio
- b) El resfalín
- c) El balansín

Escalera al éxito...





¿QUÉ HAY ARRIBA DE LA REPISA?



A) UNA PELOTA Y LIBROS

B) UN FLORERO Y UNA PELOTA

C) UNA LÁMPARA Y UN FLORERO





LA PUERTA ESTÁ:



- A) A LA INZQUIERDA DE LA NIÑA
- B) A LA IZQUIERDA DE LA PROFESORA
- C) A LA DERECHA DE LA PROFESORA





¡FELICITACIONES!





Colegio Aurora
de Chile
CORMUN RANCAGUA



¡FELICITACIONES!
QUERIDOS NIÑOS Y NIÑAS! HICIERON
UN GRAN TRABAJO.
NOS VEMOS LA PRÓXIMA SEMANA PARA
SEGUIR APRENDIENDO.

RECUERDEN QUE LES EXTRAÑAMOS Y
QUEREMOS MUCHO!



ENSEÑANZA CENTRADA EN LA CALIDAD, AMOR Y DISCIPLINA