















GUÍA MATEMÁTICA

1. Dibuja según cada indicación.

- a.  quien está a la **derecha** de  .
- b.  quien está a la **izquierda** de  .
- c.  quien está a la **derecha** de  .
- d.  quien está a la **izquierda** de  .
- e.  quien está a la **izquierda** de  .



2. Pinta según la clave.

-  objetos que están **debajo** de la  .
-  objetos que están **encima** de la  .

