
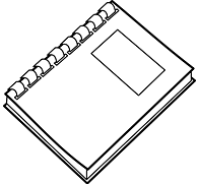


GUÍA MATEMÁTICA

1. Mide con un palito de helado los siguientes objetos y registra en cada recuadro.

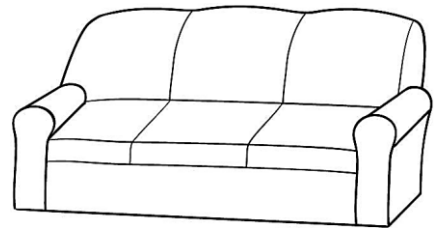



Responde:

a) ¿Cuál mide más? _____

b) ¿Cuál mide menos? _____

2. Utiliza tu cuarta para mide el alto de los siguientes objetos y registra en cada recuadro.



Responde:

a) ¿Cuál mide más? _____

b) ¿Cuál mide menos? _____