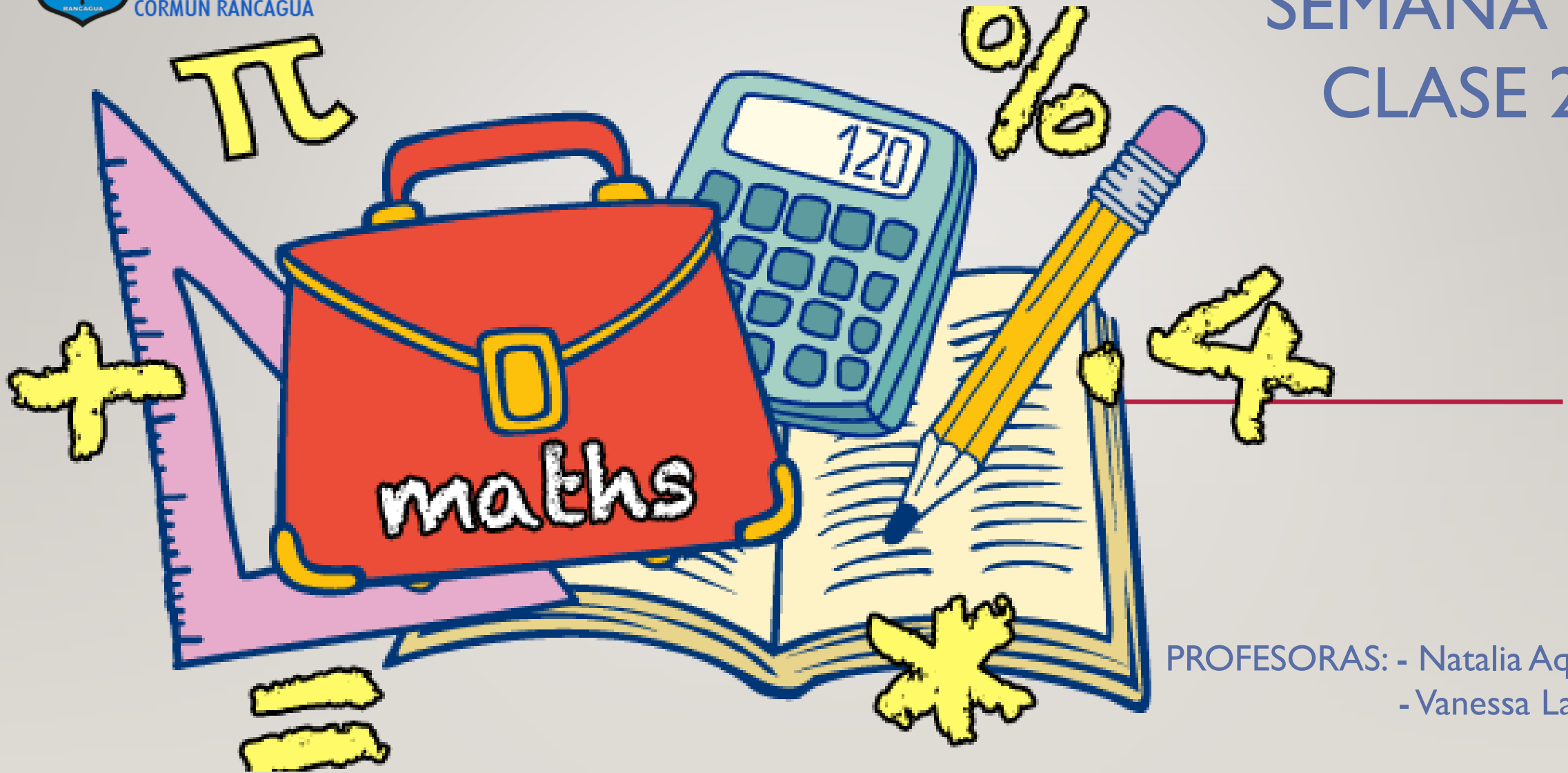




Colegio Aurora
de Chile
CORMUN RANCAGUA

SEMANA 19

CLASE 2



PROFESORAS: - Natalia Aqueveque
- Vanessa Laiño

ENSEÑANZA CENTRADA EN LA CALIDAD, AMOR Y DISCIPLINA



Colegio Aurora
de Chile
CORMUN RANCAGUA



BIENVENIDOS



A la asignatura de
Matemática

ENSEÑANZA CENTRADA EN LA CALIDAD, AMOR Y DISCIPLINA



Colegio Aurora
de Chile
CORMUN RANCAGUA



¡HOLA QUERIDOS ESTUDIANTES Y
APODERADOS! ESTA SEMANA SEGUIREMOS
APRENDIENDO NUEVAS COSAS. POR
FAVOR, SEGUIR CON ESE MARAVILLOSO
ENTUSIASMO Y ESFUERZO. NO OLVIDEN
PREGUNTAR ANTE CUALQUIER DUDA.

RECUERDEN QUE ILES EXTRAÑAMOS Y
QUEREMOS MUCHO!



ENSEÑANZA CENTRADA EN LA CALIDAD, AMOR Y DISCIPLINA

NORMAS DE TRABAJO VIRTUAL

Pedimos ayuda a un adulto de ser necesario.



 Normas trabajo Virtual

Escucho con atención y respeto a quien habla.



 Normas trabajo Virtual

Participamos activamente del encuentro de aprendizaje.



 Normas trabajo Virtual

Estudiamos y hacemos las actividades antes del encuentro.



 Normas trabajo Virtual


Mantenemos al alcance el material de la clase que corresponda.



 Normas trabajo Virtual

Somos puntuales en los horarios de conexión.



 Normas trabajo Virtual

SILENCIAR MICRÓFONO CUANDO LA PROFESORA LO INDIQUE

¿QUÉ NECESITAS PARA DESARROLLAR ESTA CLASE?



LÁPIZ DE MINA



LÁPIZ ROJO PARA MAYÚSCULAS



GOMA DE BORRAR



CUADERNO DE ASIGNATURA



TEXTO ESCOLAR



UN LUGAR CÓMODO PARA ESTUDIAR

LO QUE TENGAS EN CASA...



COMPUTADORA



TABLET



CELULAR

E
S
E
N
C
I
A
L

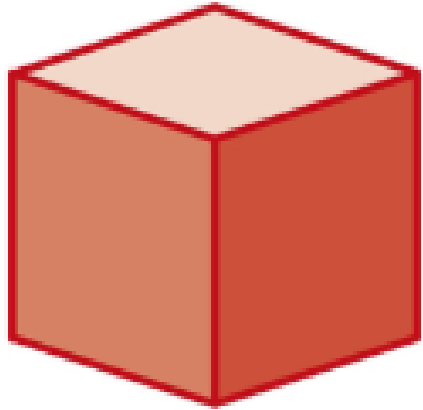


¿Qué
realizaremos
esta
semana?




OBSERVA Y LUEGO RESPONDE:



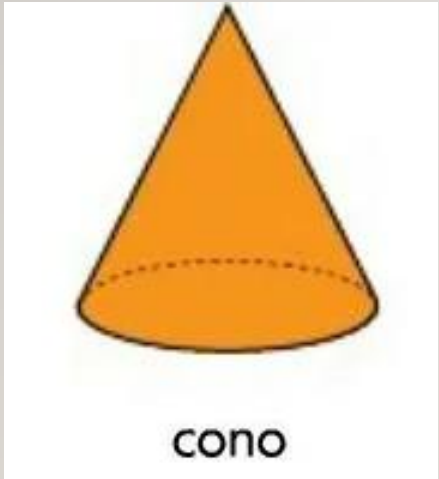



cubo






cilindro





esfera


Observa y
comenta el
vídeo



[HTTPS://WWW.YOUTUBE.COM/W
ATCH?V=HM2TVOBBJIU](https://www.youtube.com/watch?v=HM2TVOBBJIU)

COMENTEMOS...



- ✓ ¿De qué hablaba el video?
- ✓ ¿Qué es un vértice?
- ✓ ¿Cuántas caras tiene un  ?



RECORDEMOS...



LAS FIGURAS 3D
LAS PODEMOS.
ASOCIAR A
FORMAS DEL
ENTORNO.



RECORDEMOS...

¿Qué es
una figura
3D?



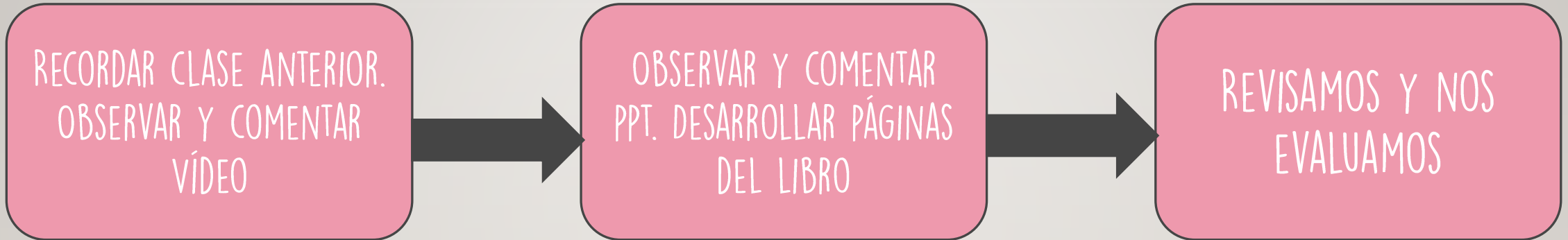
SON AQUELLAS **FIGURAS** QUE SE
FORMAN A PARTIR DE LAS FIGURAS 2D.
POSEEN VOLUMEN, ES DECIR, TIENEN 3
DIMENSIONES, **LARGO, ANCHO Y ALTO**,

The image features six stylized, cartoonish children of various ethnicities and ages surrounding a central pink speech bubble. The children are depicted from the chest up, looking towards the center. The background is a light gray wall with a wooden floor at the bottom. The central text box is a large, rounded pink shape with a dark red border, containing the title and the objective text.

OBJETIVO DE HOY!

Conocer los elementos que forman las figuras 3D a través de ppt, manifestando curiosidad e interés por el aprendizaje.

RUTA DE APRENDIZAJE...

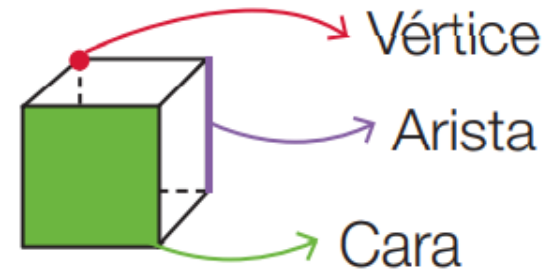
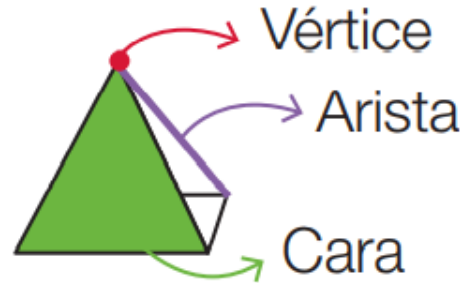


LEE LA RUTA DE APRENDIZAJE PARA QUE
CONOZCAS QUÉ ACTIVIDADES REALIZARÁS EN LA
CLASE PARA LOGRAR EL OBJETIVO

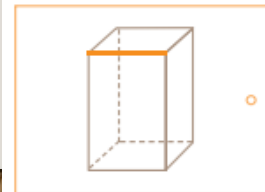
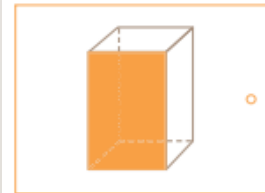
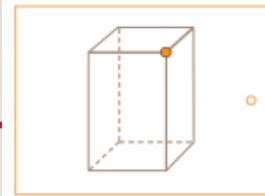



¿SABÍAS QUÉ...?

Las figuras 3D están formadas por **caras**, **vértices** y **aristas**.



OBSERVA, IDENTIFICA Y UNE...



○ Vértice


○ Cara

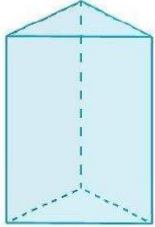
○ Arista

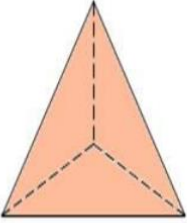


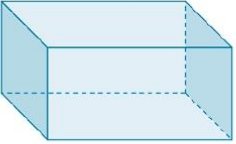
OBSERVA Y COMPLETA...

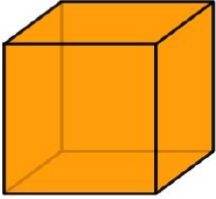


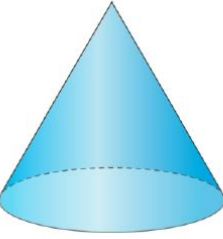
	VÉRTICES <input type="text"/>
	CARAS <input type="text"/>
	ARISTAS <input type="text"/>


	VÉRTICES <input type="text"/>
	CARAS <input type="text"/>
	ARISTAS <input type="text"/>

	VÉRTICES <input type="text"/>
	CARAS <input type="text"/>
	ARISTAS <input type="text"/>

	VÉRTICES <input type="text"/>
	CARAS <input type="text"/>
	ARISTAS <input type="text"/>

	VÉRTICES <input type="text"/>
	CARAS <input type="text"/>
	ARISTAS <input type="text"/>

	VÉRTICES <input type="text"/>
	CARAS <input type="text"/>
	ARISTAS <input type="text"/>






REALICEMOS
EL CÁLCULO
MENTAL...

REALICEMOS
GUÍA DE
MATEMÁTICA
AL HOGAR.....





EN ESTA OPORTUNIDAD DEBES
IMPRIMIR LAS REDES, RECORTARLAS
Y ARMARLAS.



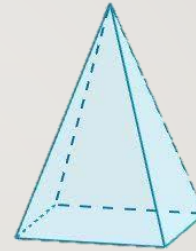


Escalera
al éxito...

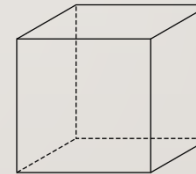
¿QUÉ FIGURA TIENE MÁS VÉRTICES?



A)



B)



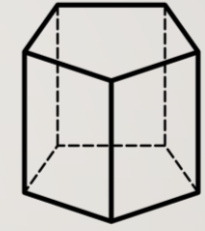
C)



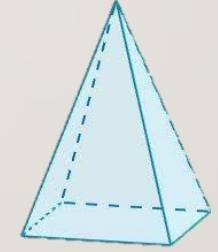
SEÑALA LA FIGURA CON MENOS CARAS



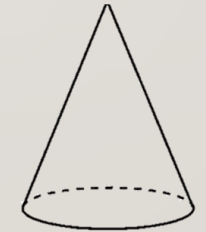
A)

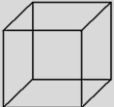


B)



C)



¿CUÁL ES LA CANTIDAD DE VÉRTICES DE
UN  ?



A) 6

B) 5

C) 8



RINCÓN MATEMÁTICO...




Los Números 1 a 20

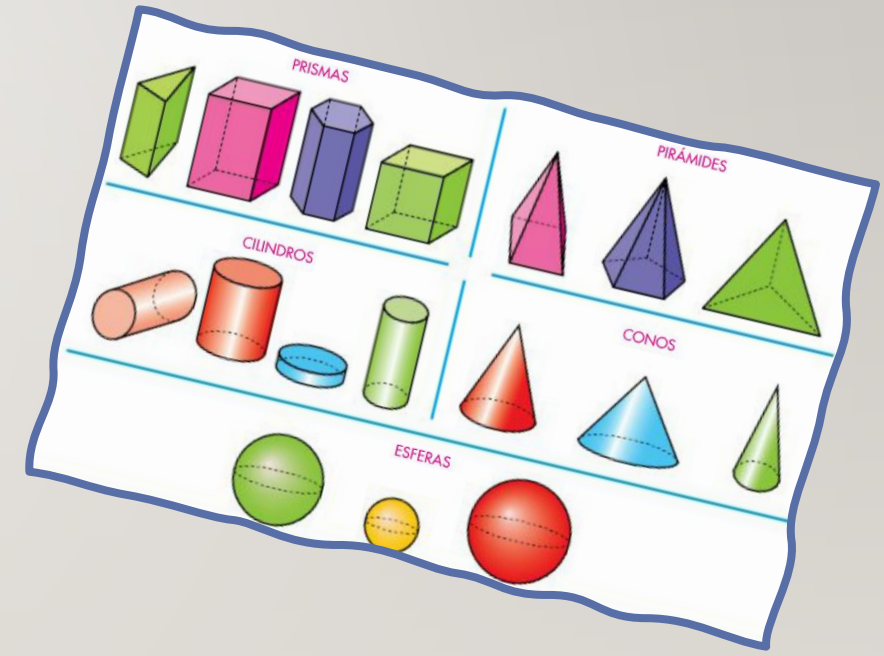
1 uno	2 dos	3 tres	4 cuatro
5 cinco	6 seis	7 siete	8 ocho
9 nueve	10 diez	11 once	12 doce
13 trece	14 catorce	15 quince	16 diez y seis
17 diez y siete	18 diez y ocho	19 diez y nueve	20 veinte

Adición y Sustracción

Operaciones básicas



Aurora de Chile



PRISMAS
 PIRÁMIDES
 CILINDROS
 CONOS
 ESFERAS



¡FELICITACIONES!





Colegio Aurora
de Chile
CORMUN RANCAGUA



¡FELICITACIONES!
QUERIDOS NIÑOS Y NIÑAS! HICIERON
UN GRAN TRABAJO.
NOS VEMOS LA PRÓXIMA SEMANA PARA
SEGUIR APRENDIENDO.
RECUERDEN QUE ILES EXTRAÑAMOS Y
QUEREMOS MUCHO!



ENSEÑANZA CENTRADA EN LA CALIDAD, AMOR Y DISCIPLINA