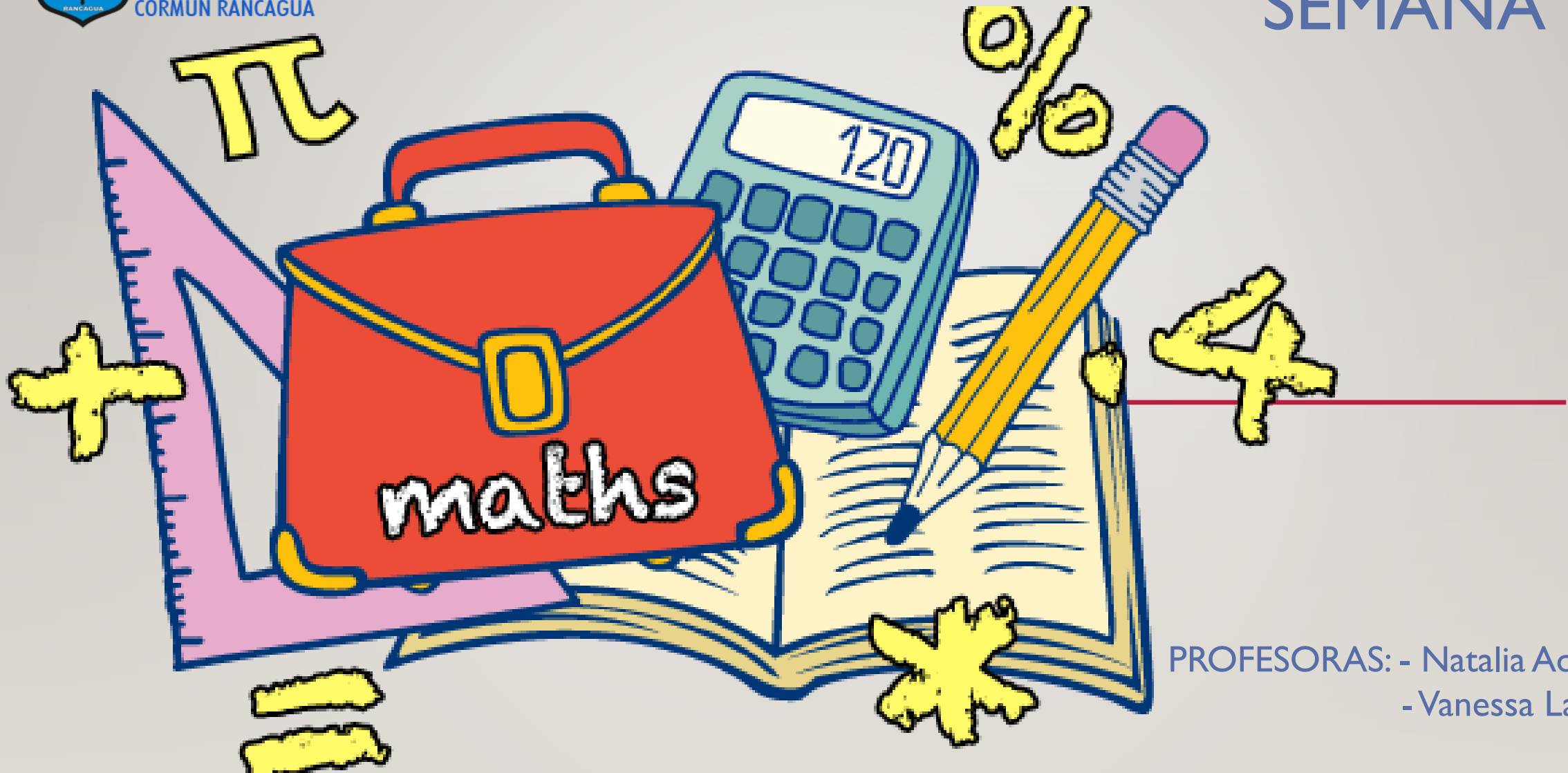




Colegio Aurora  
de Chile  
CORMUN RANCAGUA

SEMANA 18



PROFESORAS: - Natalia Aqueveque  
- Vanessa Laiño

ENSEÑANZA CENTRADA EN LA CALIDAD, AMOR Y DISCIPLINA



Colegio Aurora  
de Chile  
CORMUN RANCAGUA



**BIENVENIDOS**



A la asignatura de  
**Matemática**

ENSEÑANZA CENTRADA EN LA CALIDAD, AMOR Y DISCIPLINA



Colegio Aurora  
de Chile  
CORMUN RANCAGUA



¡HOLA QUERIDOS ESTUDIANTES Y  
APODERADOS! ESTA SEMANA SEGUIREMOS  
APRENDIENDO NUEVAS COSAS. POR  
FAVOR, SEGUIR CON ESE MARAVILLOSO  
ENTUSIASMO Y ESFUERZO. NO OLVIDEN  
PREGUNTAR ANTE CUALQUIER DUDA.

RECUERDEN QUE ILES EXTRAÑAMOS Y  
QUEREMOS MUCHO!



ENSEÑANZA CENTRADA EN LA CALIDAD, AMOR Y DISCIPLINA

# NORMAS DE TRABAJO VIRTUAL

**Pedimos ayuda a un adulto de ser necesario.**



 Normas trabajo Virtual

**Escucho con atención y respeto a quien habla.**



 Normas trabajo Virtual

**Participamos activamente del encuentro de aprendizaje.**



 Normas trabajo Virtual

**Estudiamos y hacemos las actividades antes del encuentro.**



 Normas trabajo Virtual


**Mantenemos al alcance el material de la clase que corresponda.**



 Normas trabajo Virtual

**Somos puntuales en los horarios de conexión.**



 Normas trabajo Virtual

**SILENCIAR MICRÓFONO  
CUANDO LA PROFESORA  
LO INDIQUE**

# ¿QUÉ NECESITAS PARA DESARROLLAR ESTA CLASE?




LÁPIZ DE MINA



LÁPIZ ROJO PARA MAYÚSCULAS



GOMA DE BORRAR



CUADERNO DE ASIGNATURA



TEXTO ESCOLAR



UN LUGAR CÓMODO PARA ESTUDIAR

LO QUE TENGAS EN CASA...



COMPUTADORA



TABLET



CELULAR

E  
S  
E  
N  
C  
I  
A  
L



## **PAPAPA PAPAPA PAPAPA PARA APRENDER FIGURAS GEOMÉTRICAS.**

---



Cuando voy al colegio me pongo a estudiar, me enseñan las figuras.

El cuadrado tiene 4 lados y está en todos lados.

El triángulo tiene 3 lados no más y 3 vértices también.

Y el círculo es, una línea curva y lo vamos y lo vamos, vamos a aprender.

## **PAPAPA PAPAPA PAPAPA PARA APRENDER FIGURAS GEOMÉTRICAS.**

En la casa, en la rueda, en el campo también, yo las puedo encontrar.

Líneas curvas, rectas, son las figuras y en mi entorno, siempre van a estar.

## **PAPAPA PAPAPA PAPAPA PARA APRENDER FIGURAS GEOMÉTRICAS.**



.



RECORDEMOS...



LAS FIGURAS 2D  
LAS PODEMOS  
ASOCIAR A  
FORMAS DEL  
ENTORNO.



RECORDEMOS...

¿Qué es  
una figura  
2D?



SON FIGURAS GEOMÉTRICAS PLANAS,  
FORMADAS POR LÍNEAS RECTAS. EL  
CÍRCULO TAMBIÉN ES UNA FIGURA PLANA  
PERO ESTÁ FORMADO POR UNA LÍNEA  
CURVA CERRADA.






¿Qué  
realizaremos  
esta  
semana?



Observa y  
comenta el  
vídeo



[HTTPS://WWW.YOUTUBE.COM/W  
ATCH?V=SXONZOBZFK0](https://www.youtube.com/watch?v=Sxonzobzfk0)

# COMENTEMOS...



✓ ¿Cuál es el nombre de esta figura  ?

✓ ¿Qué figura es esta  ?

✓ Esta figura se llama 

✓ Recuerdas el nombre esta figura 

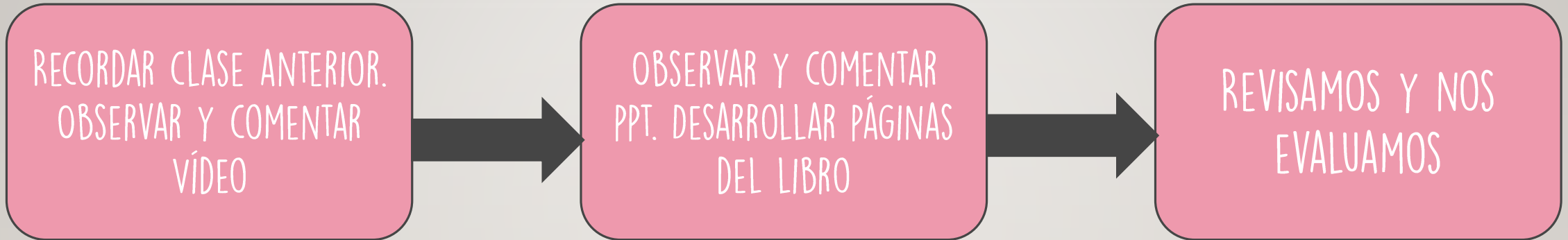


The image features six stylized, cartoonish children of various ethnicities and ages arranged around a central pink speech bubble. In the top left is a girl with blonde hair and a red headband. In the top right is a boy with a red beard and glasses. In the middle left is a girl with dark skin and dark hair. In the middle right is a girl with dark skin and glasses. In the bottom left is a girl with dark skin and dark hair. In the bottom right is a boy with dark skin and dark hair. The background is a light gray wall with a wooden floor at the bottom.

## OBJETIVO DE HOY!

Conocer los elementos que forman las figuras 2D a través de ppt, manifestando curiosidad e interés por el aprendizaje.

# RUTA DE APRENDIZAJE...

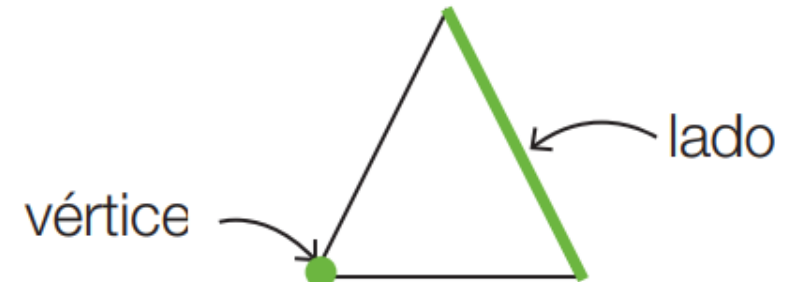
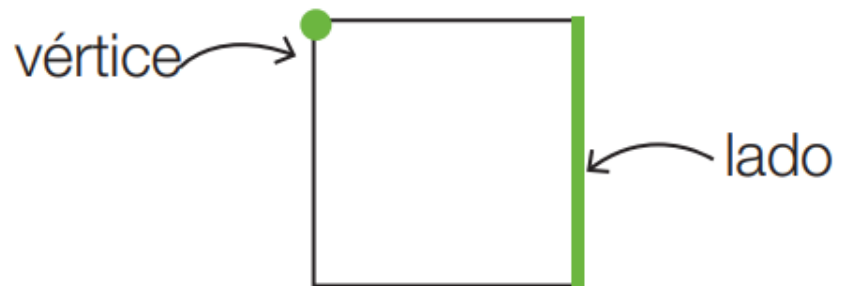


LEE LA RUTA DE APRENDIZAJE PARA QUE  
CONOZCAS QUÉ ACTIVIDADES REALIZARÁS EN LA  
CLASE PARA LOGRAR EL OBJETIVO



# ¿SABÍAS QUÉ...?

Las figuras 2D se forman por **lados** y **vértices**.



# OBSERVA, IDENTIFICA Y COMPLETA...



a.



Nombre: \_\_\_\_\_

Lados: \_\_\_\_\_

Vértices: \_\_\_\_\_

b.



Nombre: \_\_\_\_\_

Lados: \_\_\_\_\_

Vértices: \_\_\_\_\_

c.




Nombre: \_\_\_\_\_

Lados: \_\_\_\_\_

Vértices: \_\_\_\_\_



# CONSTRUYAMOS USANDO MATERIAL CONCRETO...

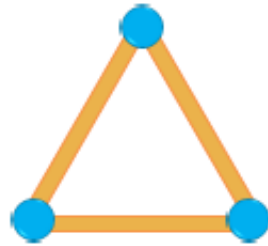


## NECESITAS:

- PASTICINA
- PALITOS DE FÓSFOROS

Triángulo

2D

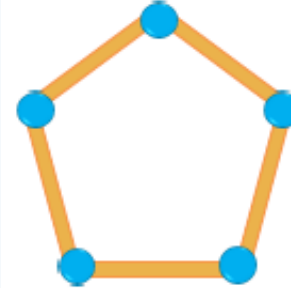


3  
lados

3  
vértices

Pentágono

2D




5  
lados

5  
vértices

Cuadrado

2D

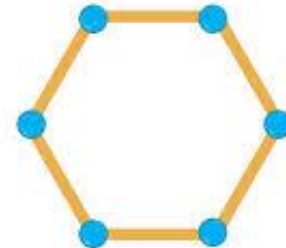


4  
lados

4  
vértices

Hexágono

2D




6  
lados

6  
vértices




# RECREO CEREBRAL







EN ESTA OPORTUNIDAD DEBES  
ABRIR TU CUADERNILLO DE  
ACTIVIDADES Y DESARROLLAR LAS  
PÁGINAS 31 – 32




# Escalera al éxito...



¿QUÉ FIGURA TIENE MÁS VÉRTICES?



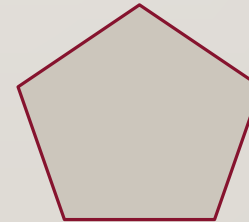
A)



B)



C)



SEÑALA LA FIGURA CON MENOS  
LADOS




A)



B)



C)



¿CUÁL ES LA CANTIDAD DE VÉRTICES DE  
UN  ?



A) 6

B) 5

C) 4





¡FELICITACIONES!







Colegio Aurora  
de Chile  
CORMUN RANCAGUA



¡FELICITACIONES!  
QUERIDOS NIÑOS Y NIÑAS! HICIERON  
UN GRAN TRABAJO.  
NOS VEMOS LA PRÓXIMA SEMANA PARA  
SEGUIR APRENDIENDO.  
  
RECUERDEN QUE LES EXTRAÑAMOS Y  
QUEREMOS MUCHO!



ENSEÑANZA CENTRADA EN LA CALIDAD, AMOR Y DISCIPLINA