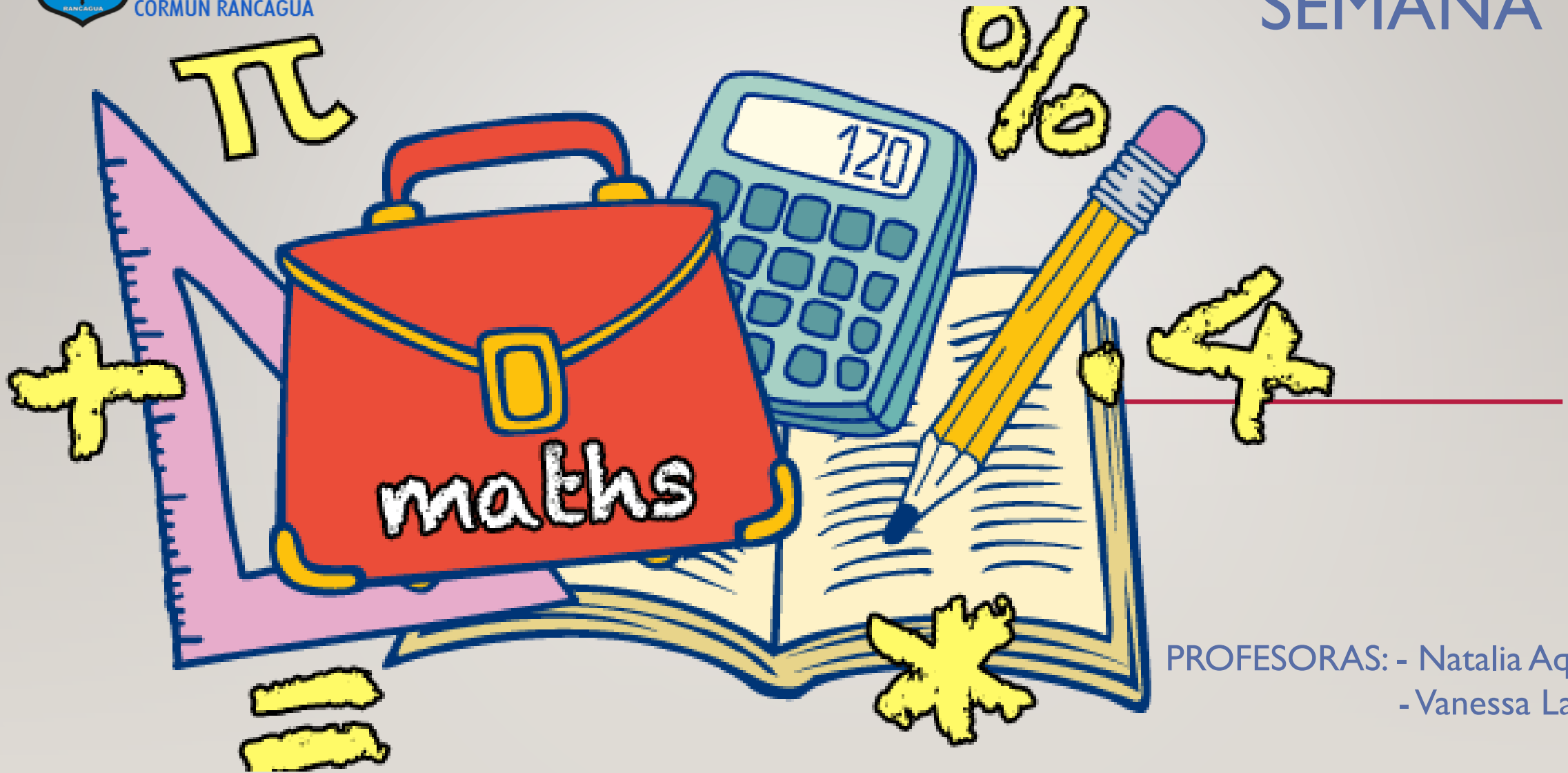




Colegio Aurora
de Chile
CORMUN RANCAGUA

SEMANA 18



PROFESORAS: - Natalia Aqueveque
- Vanessa Laiño

ENSEÑANZA CENTRADA EN LA CALIDAD, AMOR Y DISCIPLINA



Colegio Aurora
de Chile
CORMUN RANCAGUA



BIENVENIDOS



A la asignatura de
Matemática

ENSEÑANZA CENTRADA EN LA CALIDAD, AMOR Y DISCIPLINA



Colegio Aurora
de Chile
CORMUN RANCAGUA



¡HOLA QUERIDOS ESTUDIANTES Y
APODERADOS! ESTA SEMANA SEGUIREMOS
APRENDIENDO NUEVAS COSAS. POR
FAVOR, SEGUIR CON ESE MARAVILLOSO
ENTUSIASMO Y ESFUERZO. NO OLVIDEN
PREGUNTAR ANTE CUALQUIER DUDA.

RECUERDEN QUE ILES EXTRAÑAMOS Y
QUEREMOS MUCHO!



ENSEÑANZA CENTRADA EN LA CALIDAD, AMOR Y DISCIPLINA

NORMAS DE TRABAJO VIRTUAL

Pedimos ayuda a un adulto de ser necesario.



 Normas trabajo Virtual

Escucho con atención y respeto a quien habla.



 Normas trabajo Virtual


Participamos activamente del encuentro de aprendizaje.



 Normas trabajo Virtual

Estudiamos y hacemos las actividades antes del encuentro.



 Normas trabajo Virtual


Mantenemos al alcance el material de la clase que corresponda.



 Normas trabajo Virtual

Somos puntuales en los horarios de conexión.



 Normas trabajo Virtual

SILENCIAR MICRÓFONO
CUANDO LA PROFESORA
LO INDIQUE

¿QUÉ NECESITAS PARA DESARROLLAR ESTA CLASE?



LÁPIZ DE MINA



LÁPIZ ROJO PARA MAYÚSCULAS



GOMA DE BORRAR



CUADERNO DE ASIGNATURA



TEXTO ESCOLAR



UN LUGAR CÓMODO PARA ESTUDIAR

LO QUE TENGAS EN CASA...



COMPUTADORA



TABLET



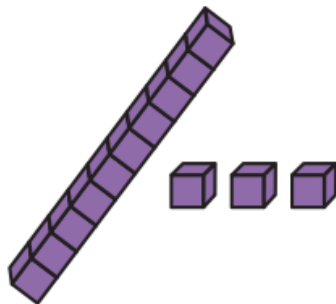
CELULAR

E
S
E
N
C
I
A
L

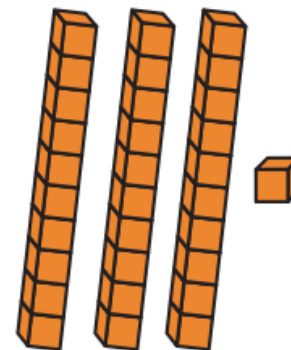
RECORDEMOS...



Los números están formados por **dígitos**, los cuales tienen diferente valor según la **posición** que tienen en el número.



D	U
1	3
▼	▼
10	3



D	U
3	1
▼	▼
30	1



RECORDEMOS...

COMPLETA CON
EL VALOR
POSICIONAL DE
LOS NÚMERO
DESTACADOS.



a.

D	U
2	5

 ▶

b.

D	U
4	7

 ▶

c.

D	U
3	8

 ▶

d.

D	U
1	8

 ▶

e.

D	U
1	3

 ▶





PAPAPA PAPAPA PAPAPA PARA APRENDER FIGURAS GEOMÉTRICAS.



Cuando voy al colegio me pongo a estudiar, me enseñan las figuras.

El cuadrado tiene 4 lados y está en todos lados.

El triángulo tiene 3 lados no más y 3 vértices también.

Y el círculo es, una línea curva y lo vamos y lo vamos, vamos a aprender.

PAPAPA PAPAPA PAPAPA PARA APRENDER FIGURAS GEOMÉTRICAS.

En la casa, en la rueda, en el campo también, yo las puedo encontrar.

Líneas curvas, rectas, son las figuras y en mi entorno, siempre van a estar.

PAPAPA PAPAPA PAPAPA PARA APRENDER FIGURAS GEOMÉTRICAS.

.






¿Qué
realizaremos
esta
semana?



Observa y
comenta el
vídeo



[HTTPS://WWW.YOUTUBE.COM/W
ATCH?V=SXONZOBZFK0](https://www.youtube.com/watch?v=Sxonzobzfk0)

COMENTEMOS...



✓ ¿De qué hablaba el video?

✓ ¿Qué figura es esta ?

✓ Esta figura se llama 



✓ Recuerdas el nombre esta figura 



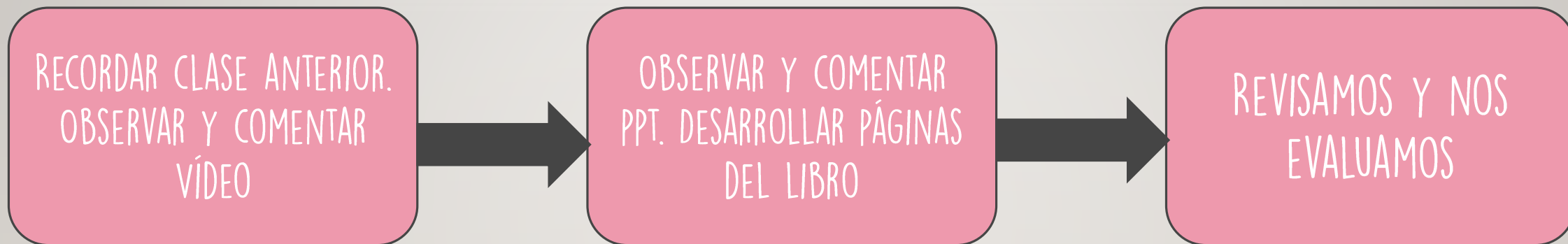


OBJETIVO DE HOY!

Identificar figuras 2D y relacionarlas con el entorno a través del texto del estudiante, demostrando una actitud de esfuerzo y perseverancia.




RUTA DE APRENDIZAJE...




LEE LA RUTA DE APRENDIZAJE PARA QUE
CONOZCAS QUÉ ACTIVIDADES REALIZARÁS EN LA
CLASE PARA LOGRAR EL OBJETIVO

SABÍAS QUÉ...



LAS FIGURAS 2D
LAS PODEMOS.
ASOCIAR A
FORMAS DEL
ENTORNO.



¿Qué es
una figura
2D?








SON FIGURAS GEOMÉTRICAS PLANAS,
FORMADAS POR LÍNEAS RECTAS. EL
CÍRCULO TAMBIÉN ES UNA FIGURA PLANA
PERO ESTÁ FORMADO POR UNA LÍNEA
CURVA CERRADA.



¿CÓMO ESTÁN
FORMADAS LAS FIGURAS
2D?



	CUADRADO: FORMADO POR 4 LÍNEAS RECTAS IGUALES
	TRIÁNGULO: FORMADO POR 3 LÍNEAS RECTAS
	CÍRCULO: FORMADO POR UNA LÍNEA CURVA
	PENTÁGONO: FORMADA POR 5 LÍNEAS RECTAS





OBSERVA, IDENTIFICA Y COMPLETA...



**Figuras
geométricas**

**Cantidad
(número)**

círculos

triángulos

cuadrados

rectángulos





COMPAREMOS




¿EN QUÉ SE PARECEN?



¿EN QUÉ SE DIFERENCIAN?




RECREO CEREBRAL







EN ESTA OPORTUNIDAD DEBES
ABRIR TU LIBRO Y DESARROLLAR
LAS PÁGINAS 72 Y 73



Escalera al éxito...



LAS FIGURAS 2D SON:

- A) FIGURAS PLANAS
- B) FIGURAS CON VOLUMEN
- C) FIGURAS DESORDENADAS



¿CUÁNTAS LÍNEAS RECTAS TIENE
UN PENTÁGONO?



- A) 6 LÍNEAS RECTAS
- B) 5 LÍNEAS RECTAS
- C) 3 LÍNEAS RECTAS



¿EN QUÉ SE PARECEN UN ▲ y UN ● ?



- A) AMBOS TIENEN LÍNEAS RECTAS
- B) AMBOS TIENEN LÍNEAS CURVAS
- C) AMBOS SON FIGURAS 2D





¡FELICITACIONES!





Colegio Aurora
de Chile
CORMUN RANCAGUA



¡FELICITACIONES!
QUERIDOS NIÑOS Y NIÑAS! HICIERON
UN GRAN TRABAJO.
NOS VEMOS LA PRÓXIMA SEMANA PARA
SEGUIR APRENDIENDO.
RECUERDEN QUE LES EXTRAÑAMOS Y
QUEREMOS MUCHO!



ENSEÑANZA CENTRADA EN LA CALIDAD, AMOR Y DISCIPLINA