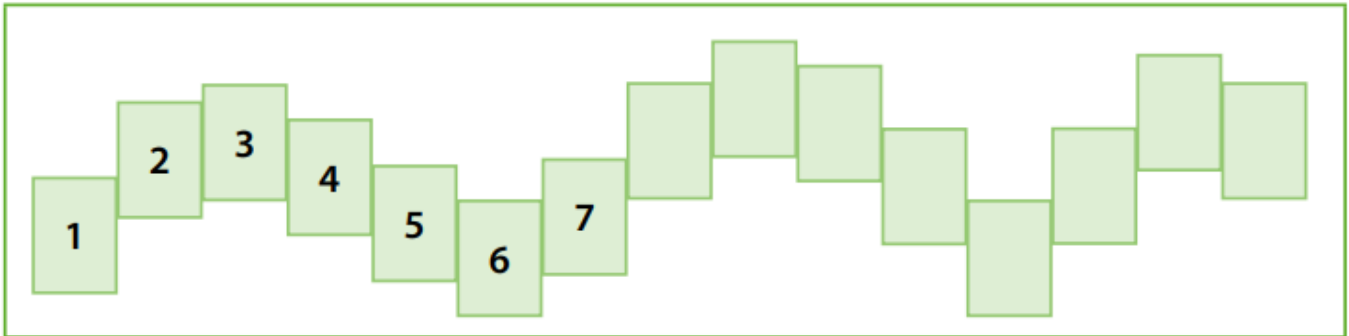


GUÍA MATEMÁTICA 1° BÁSICO


I. Continúa la secuencia numérica.



II. Obsérvala bien y continúa la secuencia con las dos figuras que siguen



III. Aquí aparece una secuencia de números. Anota los dos números que siguen:





IV. Dibuja las figuras que continúan la secuencia:




V. Continúa la secuencia:



VI. Resuelve las siguientes situaciones matemáticas.

<p>Tenía esta caja de lápices.</p> 	<p>Ahora me dieron estos lápices.</p> 	<p>¿Cuántos lápices tengo ahora?</p> <p>Anota el número en el recuadro.</p> <div style="border: 1px solid black; width: 60px; height: 30px; margin: 10px auto;"></div>
<p>Anota los cálculos:</p> <p style="text-align: center;"> + = </p>		

<p>Catalina tenía 8 pollitos.</p> 	<p>Le regalaron estos pollitos.</p> 	<p>¿Cuántos pollitos tiene ahora?</p> <div style="border: 1px solid black; width: 60px; height: 30px; margin: 10px auto;"></div>
<p>Anota los cálculos:</p> <p style="text-align: center;"> + = </p>		

<p>Daniel tenía 9 caramelos.</p> 	<p>Su mamá le dio otros 3 caramelos.</p>	<p>¿Cuántos caramelos tiene ahora?</p> <div style="border: 1px solid black; width: 60px; height: 30px; margin: 10px auto;"></div>
<p>Anota los cálculos:</p> <p style="text-align: center;"> + = </p>		

<p>Hay 8 galletas.</p> 	<p>Agrego estas otras.</p> 	<p>Ahora hay galletas.</p> 
<p style="text-align: center;"> + = </p>		

Josefina tenía 14 cuadernos. Ella le regaló 4 cuadernos a su hermana. ¿Cuántos cuadernos tiene ahora Josefina?	A. 10 cuadernos. B. 11 cuadernos. C. 18 cuadernos.
--	--

En una jaula había 9 canarios; al abrir la puerta salieron volando 4. ¿Con cuál de las siguientes operaciones se puede saber cuántos canarios quedaron en la jaula?	A. $4 + 9$ B. $9 + 4$ C. $9 - 4$
--	--

¿Cuál de los siguientes problemas se resuelve calculando $15 - 3$?		
A. María confeccionó 15 pulseras en un día y 3 pulseras otro día. ¿Cuántas pulseras ha confeccionado María?	B. Juan tenía 15 autitos y le regaló 3 a su hermano. ¿Cuántos autitos tiene ahora Juan?	C. Rosa comenzó a leer un cuento. El día lunes leyó 15 páginas y el día martes 3 páginas. ¿Cuántas páginas ha leído hasta el momento?

VII. Escribe el signo más (+) o menos (-) según corresponda.

1 $6 \bullet 6 = 12$

6 $6 \bullet 6 = 0$

11 $2 \bullet 6 = 8$

2 $3 \bullet 1 = 2$

7 $10 \bullet 1 = 9$

12 $4 \bullet 6 = 10$

3 $5 \bullet 4 = 1$

8 $7 \bullet 1 = 8$

13 $5 \bullet 3 = 2$

4 $15 \bullet 5 = 10$

9 $10 \bullet 1 = 11$

14 $14 \bullet 13 = 1$

5 $18 \bullet 3 = 15$

10 $20 \bullet 3 = 17$

15 $18 \bullet 2 = 20$