
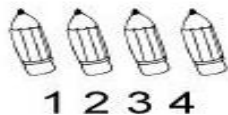




GUÍA DE TRABAJO PIE
Primero A y B

Nombre:				
Curso:	Fecha:	Asignatura:	P. Total	P. Obtenido
Objetivo Adecuado: Repasar conteo asignando el número que corresponde. Comparar cantidades utilizando más y menos.				

Instrucciones: Escribe tu nombre con letra clara.
 Sigue instrucciones con el apoyo de un adulto.
 Usa solo lápiz mina.
 Tienes el tiempo suficiente para trabajar. Éxito... ☺

Cuantifica la cantidad de dibujos y luego encierra el número que corresponda:

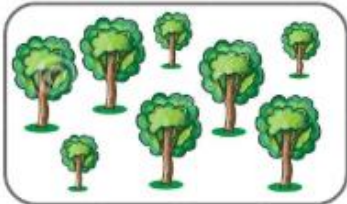


Antes de comenzar con las siguientes actividades observa el siguiente video: <https://www.youtube.com/watch?v=XARHlfXjk-o>

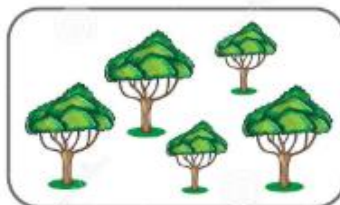
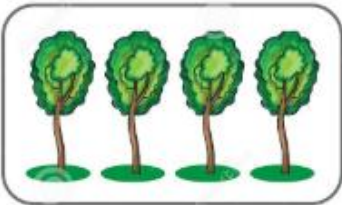
“Antes de identificar dónde hay más y donde hay menos debes contar de uno en uno y el último elemento que cuentes corresponde a la cantidad total”

1. Encierra dónde hay más elementos:

a)



b)



2. En el recuadro del lado dibuja más elementos que Catalina:
Catalina dibujó



3. En el recuadro del lado dibuja menos elementos que Felipe:

Felipe dibujo

