

# Historia, Geografía y Cs. Sociales

Profesoras:

Natalia Agueveque Aguayo  
Vanessa Laiño Flores

1°B  
Colegio Aurora de Chile



¡HOLA QUERIDOS ESTUDIANTES Y APODERADOS!

ESTA SEMANA ¡SEGUIREMOS APRENDIENDO!

POR FAVOR, SEGUIR CON ESE MARAVILLOSO ENTUSIASMO Y ESFUERZO.

NO OLVIDEN PREGUNTAR ANTE CUALQUIER DUDA.

LOS EXTRAÑAMOS Y QUEREMOS MUCHO.



# ¿QUÉ NECESITAS PARA DESARROLLAR ESTA CLASE?

LO QUE TENGAS EN CASA...



COMPUTADORA



TABLET



CELULAR

E  
S  
E  
N  
C  
I  
A  
L



LÁPIZ DE MINA



LÁPIZ ROJO PARA MAYÚSCULAS



GOMA DE BORRAR



CUADERNO DE ASIGNATURA



TEXTO ESCOLAR



UN LUGAR CÓMODO PARA ESTUDIAR

¿CUÁNTAS SON LAS REGIONES DE CHILE?

¿CUÁL ES EL OCÉANO QUE BAÑA LAS COSTAS CHILENAS?

¿CÓMO SE LLAMA EL CONTINENTE EN EL QUE SE ENCUENTRA CHILE?

¿CÓMO SE LLAMA TU CIUDAD?

¿CUÁL ES LA CAPITAL DE CHILE?


Contesta a tu familia las siguientes preguntas de forma oral

# Objetivo de la clase

Retroalimentar contenidos vistos en unidades anteriores.



# Ruta de aprendizaje



Responden  
de forma oral  
las preguntas



Retroalimentan su  
evaluación

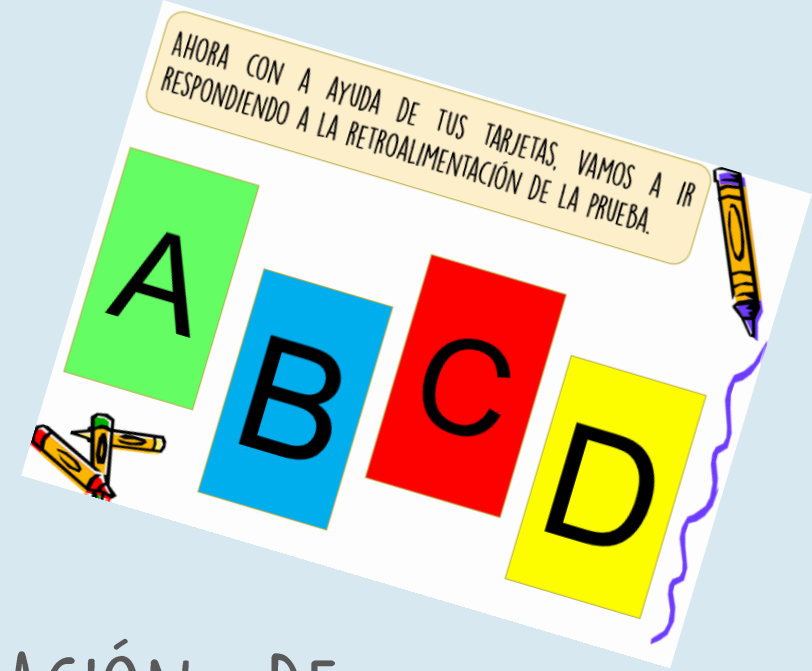


Evaluar a  
través de  
preguntas

Con la ayuda de tus tarjetas, responde las preguntas y verifica con tu familia en qué te equivocaste.

AHORA CON LA AYUDA DE TU FAMILIA:

- ANALICEN CADA PREGUNTA DE LA EVALUACIÓN DE HISTORIA.
- VE LO QUE MÁS TE COSTÓ RESPONDER Y REFUÉRZALO.
- SI TIENES ALGUNA DUDA, NO OLVIDES EN CONTACTARTE CON TU PROFESORA JEFE.



1) El Quinto día de la semana es:

- a) Lunes
- b) Miércoles
- c) Jueves
- d) Viernes

2) El primer día de la semana es:

- a) Domingo
- b) Lunes
- c) Martes
- d) Miércoles

3) Los días de fin de semana son:

- a) Sábado – domingo
- b) Viernes – sábado
- c) Lunes – martes
- d) Miércoles – jueves

4) El orden correcto de algunos días de la semana es:

- a) Lunes, miércoles, martes, viernes sábado y Domingo.
- b) Lunes. Martes. Miércoles, viernes, y jueves.
- c) Lunes, martes, miércoles, jueves, viernes, sábado y domingo.



5) ¿Cuántos meses del año son?

- a) 7
- b) 12
- c) 13
- d) 10

6) Distingue en la secuencia el mes del año que falta. Mayo- junio- julio- agosto- \_\_\_\_\_ octubre- noviembre.

- a) Abril
- b) Septiembre
- c) Diciembre
- d) Octubre

7) Analiza cada imagen y contesta. ¿En cuál de las siguientes secuencias pasó más tiempo?

a)



b)




c)



# Recreo cerebral

## Encuentra el diferente



Hipnosis  
Logrado con No pude



Ana Maria



8) La siguiente imagen corresponde a:

- a) El día.
- b) La tarde.
- c) La noche
- d) El mediodía.



9) ¿Cuál es el orden correcto de las personas del más joven al más adulto?





a) 1 - 2 - 3 - 4

b) 2 - 4 - 1 - 3

c) 4 - 3 - 2 - 1

10) ¿Cuál es el orden correcto en la evolución de una planta?


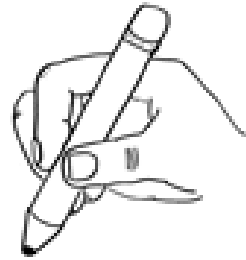


- a) 1° - 2° - 3°
- b) 3° - 2° - 1°
- c) 2° - 3° - 1°

11) ¿Para qué sirven las normas de convivencia?

- a) Para jugar mejor.
- b) Para facilitar las relaciones entre las personas y garantizar el buen desarrollo del trabajo.
- c) Para tener una mala relación con mis compañeros.

12) Distingue entre las imágenes la norma que deberíamos cumplir si quisiéramos fomentar el respeto en nuestra sala de clases. Enciérrala en un círculo.



13) ¿Cuál es un ejemplo de norma que existe en una **sala de clases**?

- a) Levantar la mano para opinar.
- b) No correr por los pasillos.
- c) Respetar el horario de entrada al colegio.

14) Identifica a través de la imagen la norma que representa.

- a) Conversar en la sala.
- b) Realizar algunas actividades.
- c) Saludar.



15) Identifica a través de la imagen la norma que **no** respeta la niña.



- a) Sentarse correctamente.
- b) Guardar los materiales.
- c) Escuchar atentamente.
- d)

16) ¿Qué son los planos?

- a) Son representaciones de países.
- b) Es un paisaje natural.
- c) Son representaciones vistas desde arriba como un dormitorio, casa, escuela.

17) ¿Para qué sirven los mapas?


- a) Sirve para representar una casa.
- b) Sirve para representar espacios más grandes como países y regiones.
- c) Sirve para representar una calle.

18) ¿Cuál de las siguientes imágenes representa un mapa?

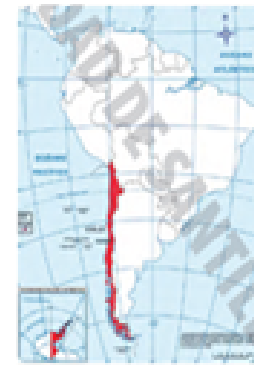
a)



b)



c)





19) ¿Cuál es el nombre de nuestra cordillera?

- a) Cordillera de los Andes.
- b) Cordillera de Andrés.
- c) Cordillera de Rancagua.

20) ¿Cuál es la imagen que mejor representa la simbología de un plano?


a)



b)



c)



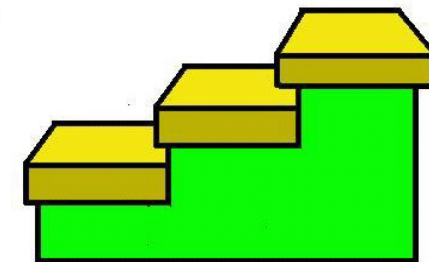
21) El nombre de nuestro país y nuestra capital es:

- a) Chile y su capital es Rancagua.
- b) Chile y su capital es Santiago.
- c) Chile y su capital es Cachapoal.

22) El océano que cubre el borde Chileno es:

- a) Océano Pacífico.
- b) Océano Índico.
- c) Océano Atlántico.

# Escalera al éxito



© www.ClipProject.info

1. ¿CÓMO SE LLAMA LA CAPITAL DE CHILE?

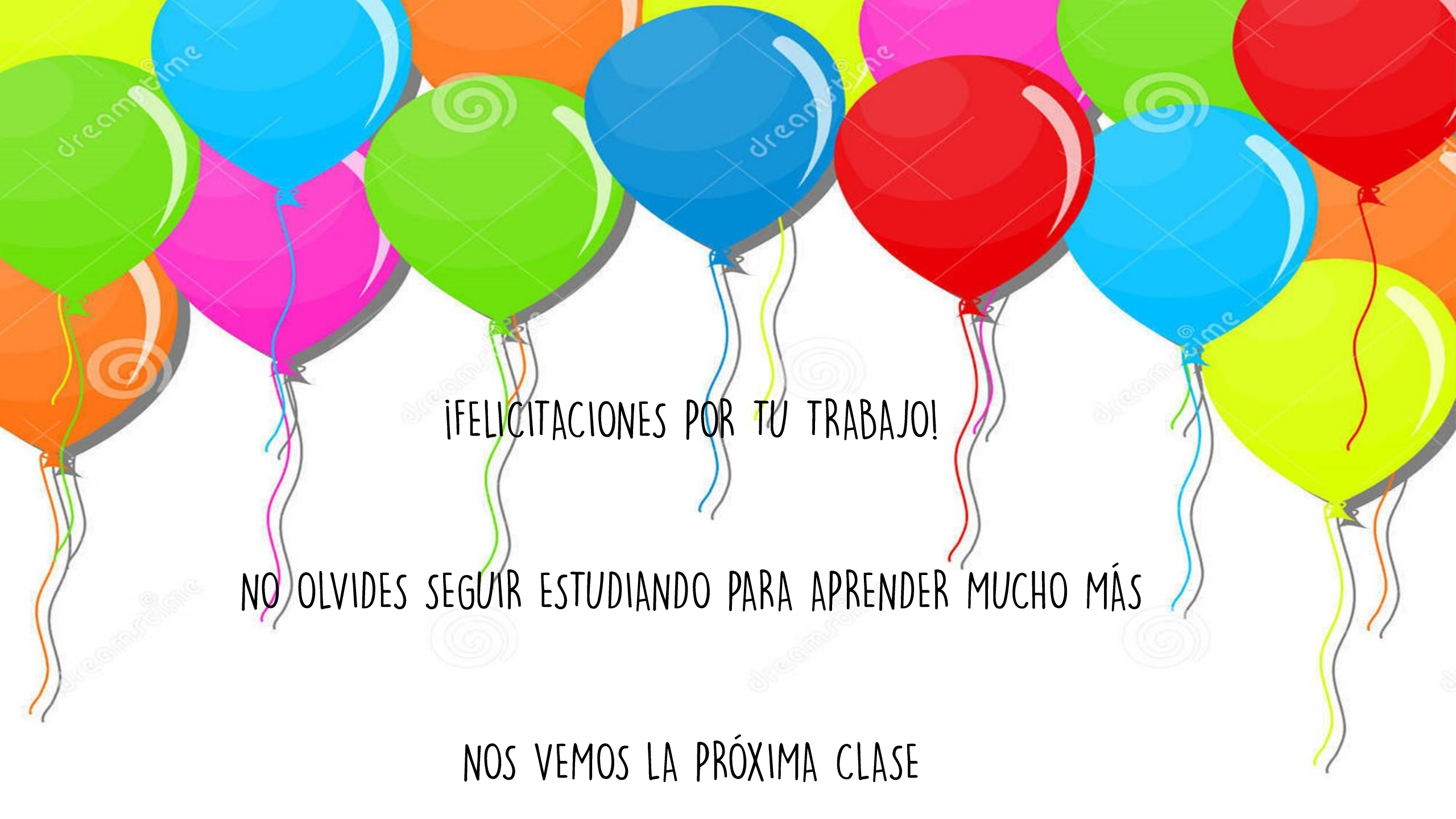
- A) SANTIAGO
- B) RANCAGUA
- C) CHILE

2. ¿EN QUÉ CORDILLERA DE CHILE PODEMOS ENCONTRAR VOLCANES?

- A CORDILLERA DE LA COSTA.
- B CORDILLERA DE LOS ANDES.

Responde a tu familia y regístenlo en el cuaderno.





¡FELICITACIONES POR TU TRABAJO!

NO OLVIDES SEGUIR ESTUDIANDO PARA APRENDER MUCHO MÁS

NOS VEMOS LA PRÓXIMA CLASE