





GUÍA CIENCIAS NATURALES

1. Marca una X si los dibujos muestran un ser con vida o un componente no vivo.

	Ser vivo	Componente no vivo
<p>Roca</p> 		
<p>Hormiga</p> 		
<p>Montaña</p> 		
<p>Árbol</p> 		

2. Escribe una V si la afirmación es verdadera o una F si es falsa.

- a. _____ El agua es un componente sin vida de la naturaleza.
- b. _____ Los seres vivos no crecen.
- c. _____ Los seres vivos se desarrollan a lo largo de su vida.
- d. _____ Las plantas y los animales necesitan agua para vivir.
- e. _____ Los componentes sin vida de la naturaleza se reproducen.

3. Une con una línea a los animales con su modo de reproducción según corresponda.



Animales que antes de nacer su cría se desarrolla en el vientre de su madre.



Animales que antes de nacer, su cría se desarrolla al interior de un huevo.



Importante: En tu libro de actividades de ciencias naturales realiza las páginas 23 y 24